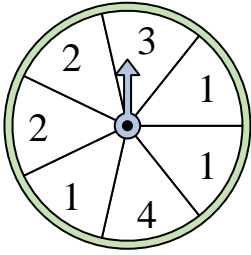


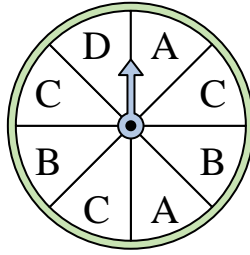


Resuelve cada problema.

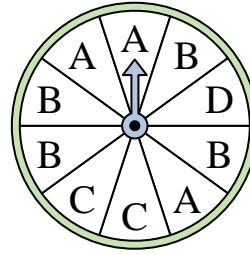
- 1) ¿En qué número es más probable que caiga la ruleta?



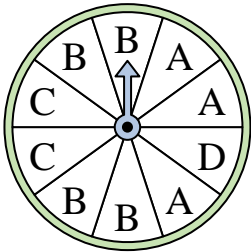
- 2) ¿En qué dos letras es igualmente probable que caiga la ruleta?




- 3) ¿En qué letra es menos probable que caiga la ruleta?




- 4) ¿En qué letra es más probable que caiga la ruleta?



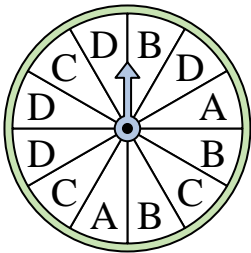
- 5) ¿En qué número es más probable que caiga la ruleta?



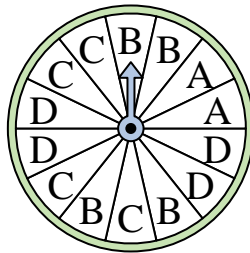
- 6) ¿En qué dos números es igualmente probable que caiga la ruleta?



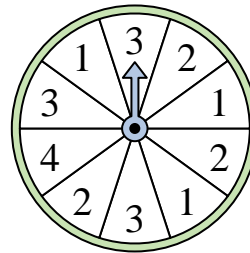
- 7) ¿En qué letra es menos probable que caiga la ruleta?




- 8) ¿En qué letra es menos probable que caiga la ruleta?



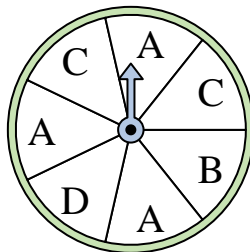
- 9) ¿En qué número es menos probable que caiga la ruleta?



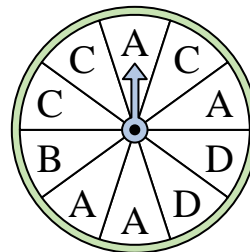
- 10) ¿En qué número es menos probable que caiga la ruleta?



- 11) ¿En qué dos letras es igualmente probable que caiga la ruleta?



- 12) ¿En qué letra es más probable que caiga la ruleta?



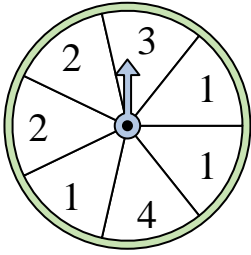
Respuestas

1. _____
2. _____
3. _____
4. _____
5. _____
6. _____
7. _____
8. _____
9. _____
10. _____
11. _____
12. _____

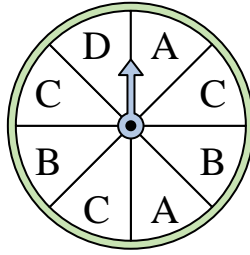


Resuelve cada problema.

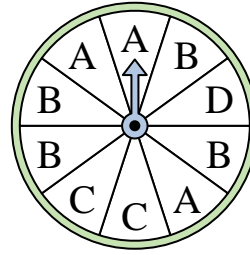
- 1) ¿En qué número es más probable que caiga la ruleta?



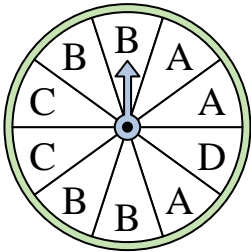
- 2) ¿En qué dos letras es igualmente probable que caiga la ruleta?




- 3) ¿En qué letra es menos probable que caiga la ruleta?




- 4) ¿En qué letra es más probable que caiga la ruleta?



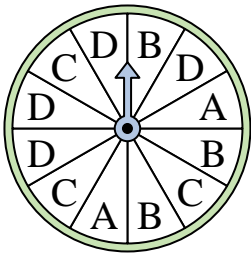
- 5) ¿En qué número es más probable que caiga la ruleta?



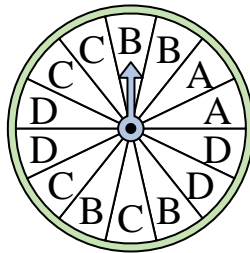
- 6) ¿En qué dos números es igualmente probable que caiga la ruleta?



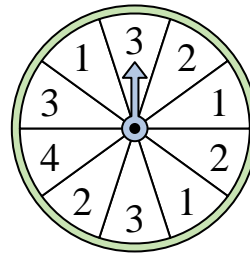
- 7) ¿En qué letra es menos probable que caiga la ruleta?




- 8) ¿En qué letra es menos probable que caiga la ruleta?



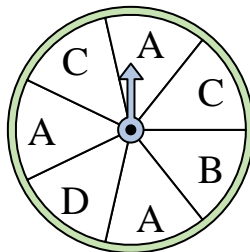
- 9) ¿En qué número es menos probable que caiga la ruleta?



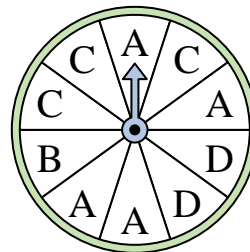
- 10) ¿En qué número es menos probable que caiga la ruleta?



- 11) ¿En qué dos letras es igualmente probable que caiga la ruleta?



- 12) ¿En qué letra es más probable que caiga la ruleta?



Respuestas

1. 1

2. A & B

3. D

4. B

5. 4

6. 2 & 4

7. A

8. A

9. 4

10. 4

11. B & D

12. A