


Resuelve cada problema.

Respuestas


Ej) ¿Cuál es la razón de hearts a estrellas?




1) ¿Cuál es la razón de círculos a estrellas?



2) ¿Cuál es la razón de hearts a pentagonos?



3) ¿Cuál es la razón de moons a pentagonos?




4) ¿Cuál es la razón de estrellas a hearts?




5) ¿Cuál es la razón de cuadros a estrellas?



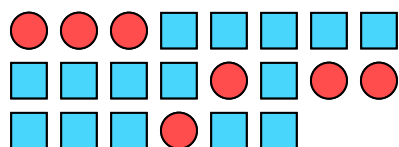
6) ¿Cuál es la razón de estrellas a cuadros?




7) ¿Cuál es la razón de círculos a estrellas?




8) ¿Cuál es la razón de círculos a cuadros?




9) ¿Cuál es la razón de círculos a hearts?



10) ¿Cuál es la razón de estrellas a hearts?



11) ¿Cuál es la razón de moons a pentagonos?



Ej. **14:13**

1. _____

2. _____

3.

4.

5.

6.

7.

8.

9.

10.


11.



Resuelve cada problema.

Respuestas


Ej) ¿Cuál es la razón de hearts a estrellas?



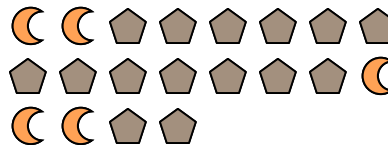
1) ¿Cuál es la razón de círculos a estrellas?



2) ¿Cuál es la razón de hearts a pentágonos?



3) ¿Cuál es la razón de moons a pentágonos?




4) ¿Cuál es la razón de estrellas a hearts?




5) ¿Cuál es la razón de cuadros a estrellas?



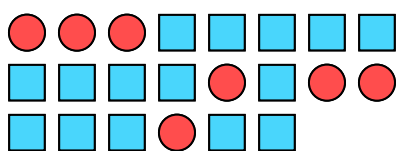
6) ¿Cuál es la razón de estrellas a cuadros?




7) ¿Cuál es la razón de círculos a estrellas?




8) ¿Cuál es la razón de círculos a cuadros?




9) ¿Cuál es la razón de círculos a hearts?



10) ¿Cuál es la razón de estrellas a hearts?



11) ¿Cuál es la razón de moons a pentágonos?

Ej. **14:13**1. **3:2**2. **13:4**3. **5:15**4. **8:13**5. **3:13**6. **6:13**7. **6:4**8. **7:15**9. **12:12**10. **14:12**11. **14:7**