




Resuelve cada problema.


Ej) ¿Cuál es la relación de moons a estrellas?




1) ¿Cuál es la relación de moons a triangulos?



2) ¿Cuál es la relación de hearts a cuadros?



3) ¿Cuál es la relación de triangulos a hearts?



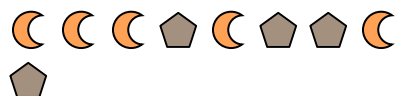
4) ¿Cuál es la relación de estrellas a hearts?



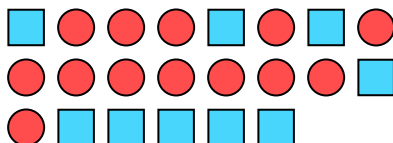
5) ¿Cuál es la relación de estrellas a triangulos?



6) ¿Cuál es la relación de pentagonos a moons?



7) ¿Cuál es la relación de circulos a cuadros?



8) ¿Cuál es la relación de estrellas a pentagonos?



9) ¿Cuál es la relación de triangulos a estrellas?



10) ¿Cuál es la relación de estrellas a circulos?



11) ¿Cuál es la relación de estrellas a hearts?



**Respuestas**

Ej. **5:10**

1. \_\_\_\_\_

2. \_\_\_\_\_

3. \_\_\_\_\_

4. \_\_\_\_\_

5. \_\_\_\_\_

6. \_\_\_\_\_

7. \_\_\_\_\_

8. \_\_\_\_\_

9. \_\_\_\_\_

10. \_\_\_\_\_

11. \_\_\_\_\_




Resuelve cada problema.

Ej) ¿Cuál es la relación de moons a estrellas?



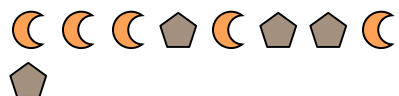
2) ¿Cuál es la relación de hearts a cuadros?



4) ¿Cuál es la relación de estrellas a hearts?



6) ¿Cuál es la relación de pentagonos a moons?




8) ¿Cuál es la relación de estrellas a pentagonos?




10) ¿Cuál es la relación de estrellas a circulos?



1) ¿Cuál es la relación de moons a triangulos?



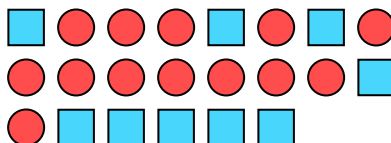
3) ¿Cuál es la relación de triangulos a hearts?



5) ¿Cuál es la relación de estrellas a triangulos?



7) ¿Cuál es la relación de circulos a cuadros?



9) ¿Cuál es la relación de triangulos a estrellas?



11) ¿Cuál es la relación de estrellas a hearts?



**Respuestas**

Ej. **5:10**

1. **14:13**

2. **11:7**

3. **14:15**

4. **8:3**

5. **2:3**

6. **4:5**

7. **13:9**

8. **15:7**

9. **10:8**

10. **2:4**

11. **2:11**