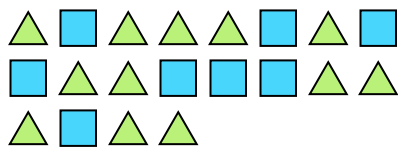





Resuelve cada problema.

Ej) ¿Cuál es la relación de triángulos a cuadros?



1) ¿Cuál es la relación de estrellas a cuadros?



**Respuestas**

Ej. **12:8**


2) ¿Cuál es la relación de moons a estrellas?



3) ¿Cuál es la relación de moons a estrellas?



4) ¿Cuál es la relación de estrellas a hearts?



5) ¿Cuál es la relación de triángulos a hearts?




6) ¿Cuál es la relación de hearts a moons?



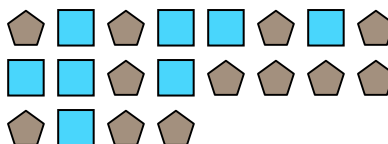
7) ¿Cuál es la relación de hearts a estrellas?



8) ¿Cuál es la relación de hearts a círculos?




9) ¿Cuál es la relación de cuadros a pentagonos?



10) ¿Cuál es la relación de hearts a pentagonos?



11) ¿Cuál es la relación de cuadros a estrellas?



1. \_\_\_\_\_

2. \_\_\_\_\_

3. \_\_\_\_\_

4. \_\_\_\_\_

5. \_\_\_\_\_

6. \_\_\_\_\_

7. \_\_\_\_\_

8. \_\_\_\_\_

9. \_\_\_\_\_

10. \_\_\_\_\_

11. \_\_\_\_\_

