



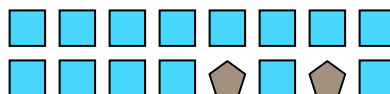


Resuelve cada problema.

Ej) ¿Cuál es la relación de moons a cuadros?




1) ¿Cuál es la relación de cuadros a pentagonos?




2) ¿Cuál es la relación de estrellas a triangulos?



3) ¿Cuál es la relación de estrellas a triangulos?



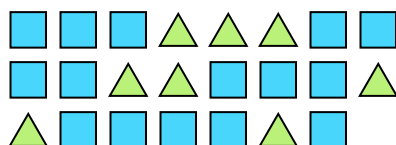
4) ¿Cuál es la relación de moons a circulos?



5) ¿Cuál es la relación de cuadros a pentagonos?



6) ¿Cuál es la relación de triangulos a cuadros?



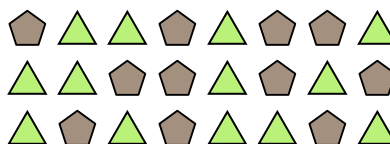
7) ¿Cuál es la relación de estrellas a circulos?



8) ¿Cuál es la relación de estrellas a hearts?



9) ¿Cuál es la relación de triangulos a pentagonos?



10) ¿Cuál es la relación de circulos a moons?



11) ¿Cuál es la relación de hearts a estrellas?



**Respuestas**

Ej. 6:2

1. 14:2

2. 11:8

3. 13:12

4. 5:9

5. 4:3

6. 8:15

7. 9:15

8. 6:7

9. 13:11

10. 3:2

11. 3:9