



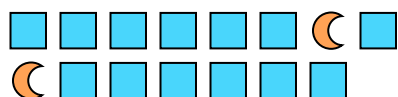


Resuelve cada problema.

Ej) ¿Cuál es la relación de triángulos a pentágonos?



2) ¿Cuál es la relación de moons a cuadros?




4) ¿Cuál es la relación de estrellas a pentágonos?



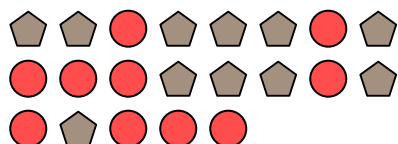
6) ¿Cuál es la relación de estrellas a círculos?



8) ¿Cuál es la relación de círculos a moons?




10) ¿Cuál es la relación de pentágonos a círculos?



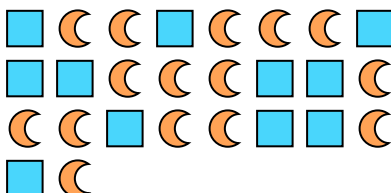
1) ¿Cuál es la relación de estrellas a moons?




3) ¿Cuál es la relación de pentágonos a moons?



5) ¿Cuál es la relación de moons a cuadros?




7) ¿Cuál es la relación de círculos a estrellas?



9) ¿Cuál es la relación de pentágonos a estrellas?



11) ¿Cuál es la relación de cuadros a hearts?



**Respuestas**

Ej. 4:12

1. 9:12

2. 2:13

3. 10:13

4. 12:5

5. 15:11

6. 7:9

7. 12:7

8. 8:15

9. 7:4

10. 11:10

11. 4:6