



Usar las rectas numéricas para redondear cada número al 100 más cercano.

Ej)

842



1)

777



2)

395



3)

856



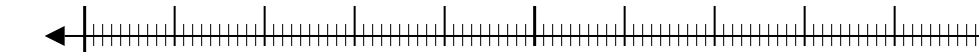
4)

7,693



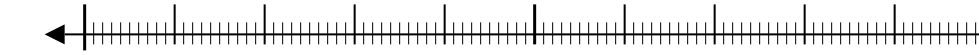
5)

22,440



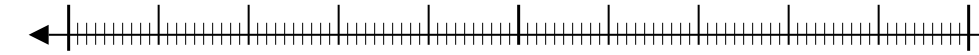
6)

52,709



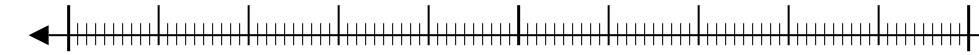
7)

5,550



8)

6,348



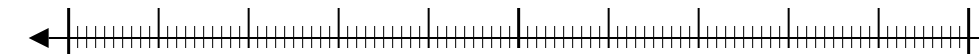
9)

76,807



10)

1,323



Respuestas

Ej. **800**

1. _____

2. _____

3. _____

4. _____

5. _____

6. _____

7. _____

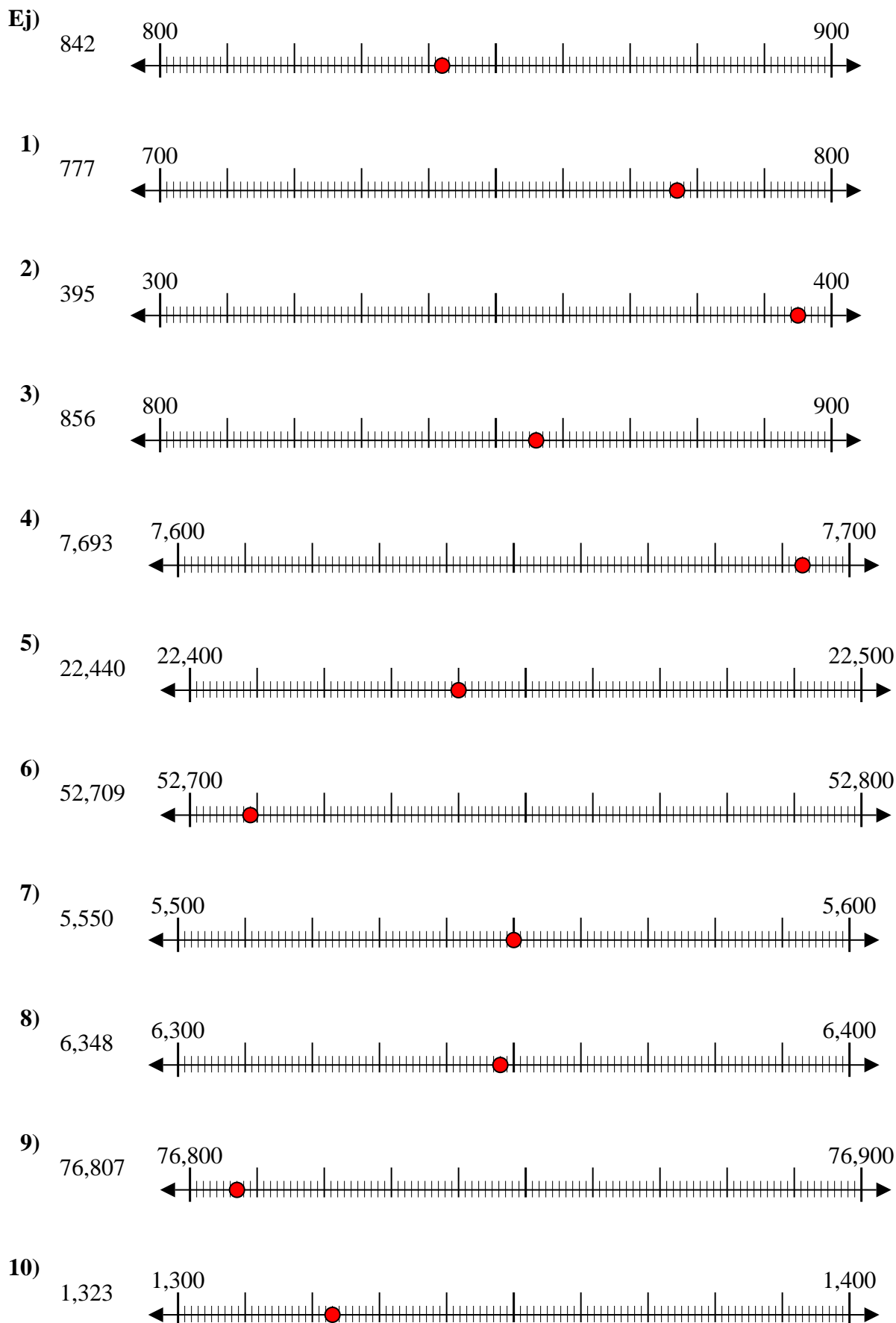
8. _____

9. _____

10. _____



Usar las rectas numéricas para redondear cada número al 100 más cercano.



Respuestas

- Ej. 800
1. 800
2. 400
3. 900
4. 7,700
5. 22,400
6. 52,700
7. 5,600
8. 6,300
9. 76,800
10. 1,300