



Usar las rectas numéricas para redondear cada número al 100 más cercano.

Ej)

612



1)

9,223



2)

17,922



3)

87,465



4)

653



5)

3,616



6)

6,677



7)

22,598



8)

1,241



9)

960



10)

873



Respuestas

Ej. 600

1. _____

2. _____

3. _____

4. _____

5. _____

6. _____

7. _____

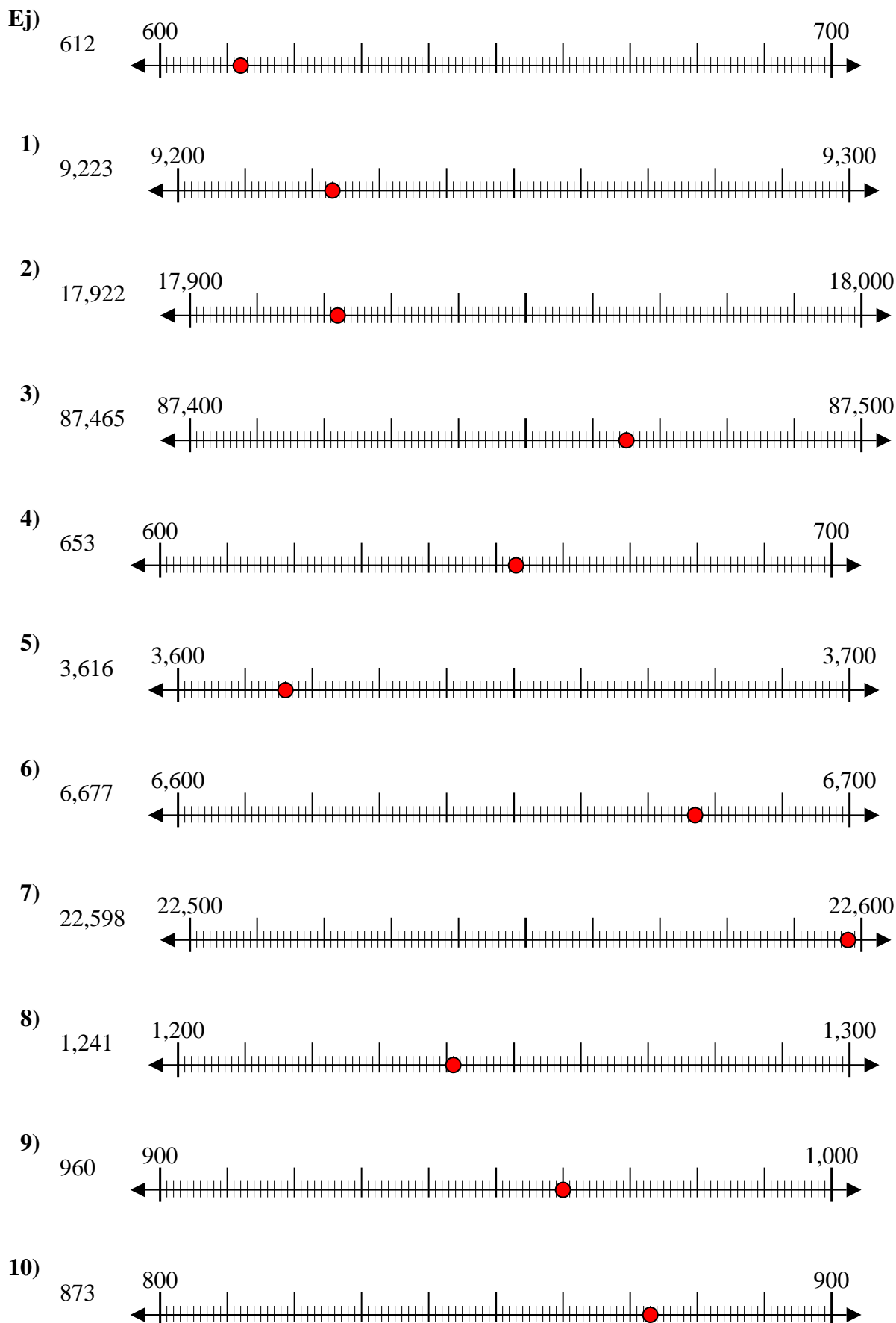
8. _____

9. _____

10. _____



Usar las rectas numéricas para redondear cada número al 100 más cercano.



Respuestas

- Ej. 600
1. 9,200
2. 17,900
3. 87,500
4. 700
5. 3,600
6. 6,700
7. 22,600
8. 1,200
9. 1,000
10. 900



Usar las rectas numéricas para redondear cada número al 100 más cercano.

Ej)

356



1)

1,360



2)

7,216



3)

51,669



4)

670



5)

171



6)

80,458



7)

9,425



8)

616



9)

88,299



10)

5,076



Respuestas

Ej. 400

1. _____

2. _____

3. _____

4. _____

5. _____

6. _____

7. _____

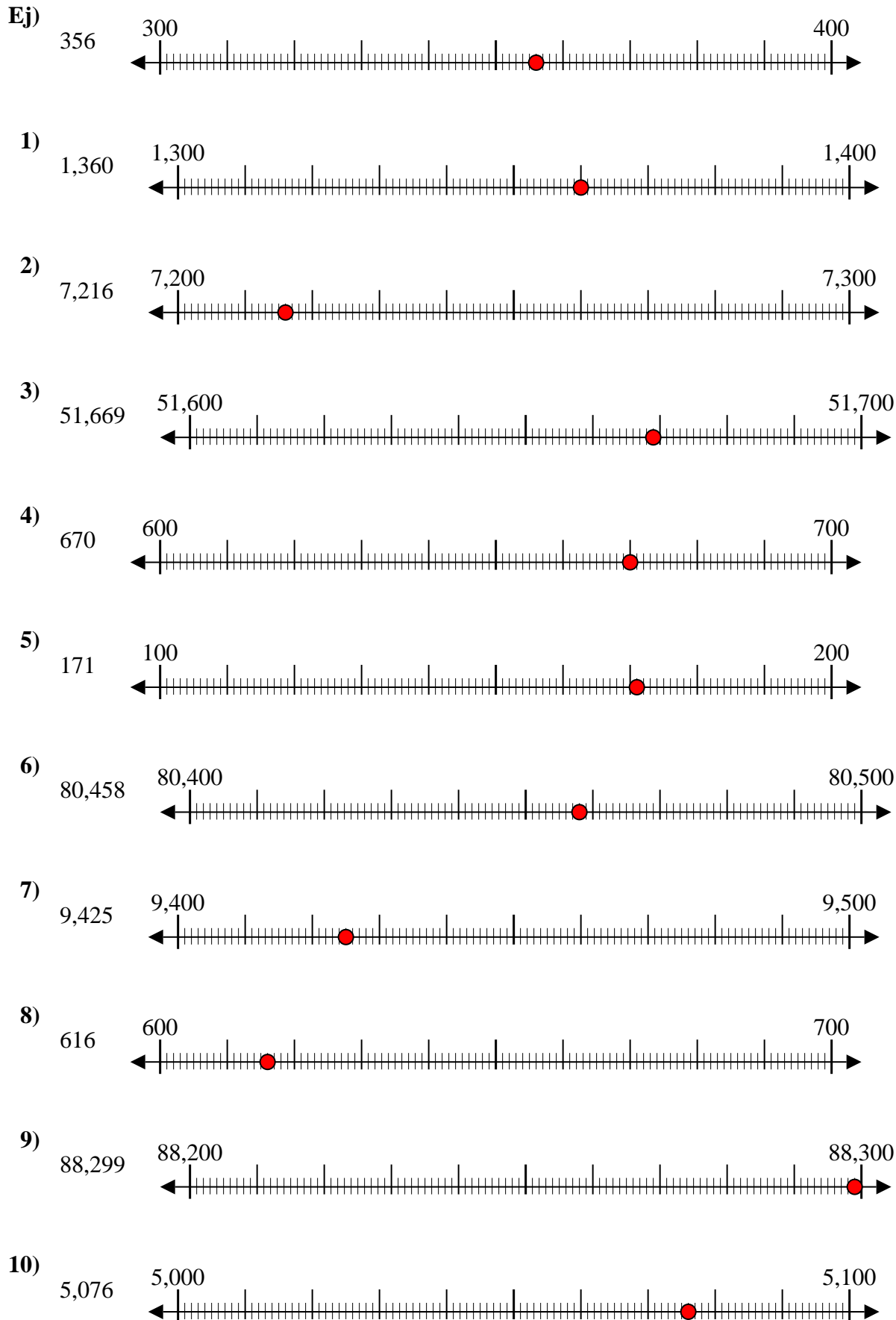
8. _____

9. _____

10. _____



Usar las rectas numéricas para redondear cada número al 100 más cercano.



Respuestas

- Ej. 400
1. 1,400
2. 7,200
3. 51,700
4. 700
5. 200
6. 80,500
7. 9,400
8. 600
9. 88,300
10. 5,100



Usar las rectas numéricas para redondear cada número al 100 más cercano.

Ej)

908



1)

257



2)

8,566



3)

18,478



4)

84,766



5)

991



6)

76,319



7)

759



8)

4,490



9)

70,699



10)

1,399



Respuestas

Ej. **900**

1. _____

2. _____

3. _____

4. _____

5. _____

6. _____

7. _____

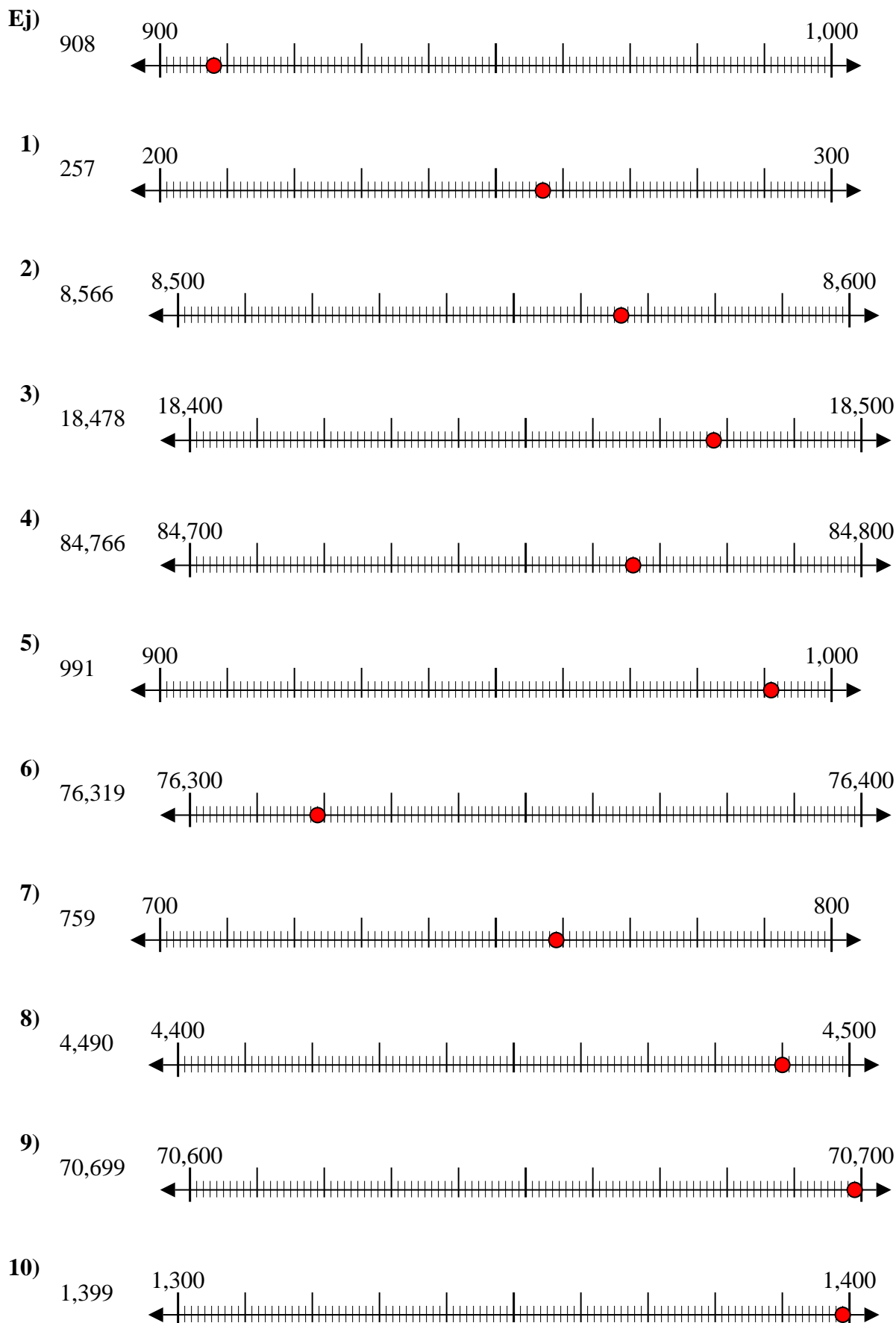
8. _____

9. _____

10. _____



Usar las rectas numéricas para redondear cada número al 100 más cercano.



Respuestas

- Ej. 900
1. 300
2. 8,600
3. 18,500
4. 84,800
5. 1,000
6. 76,300
7. 800
8. 4,500
9. 70,700
10. 1,400



Usar las rectas numéricas para redondear cada número al 100 más cercano.

Ej)

4,410



Ej. **4,400**

1)

853



1. _____

2)

783



2. _____

3)

9,697



3. _____

4)

8,980



4. _____

5)

569



5. _____

6)

9,924



6. _____

7)

99,310



7. _____

8)

90,005



8. _____

9)

17,192



9. _____

10)

60,453

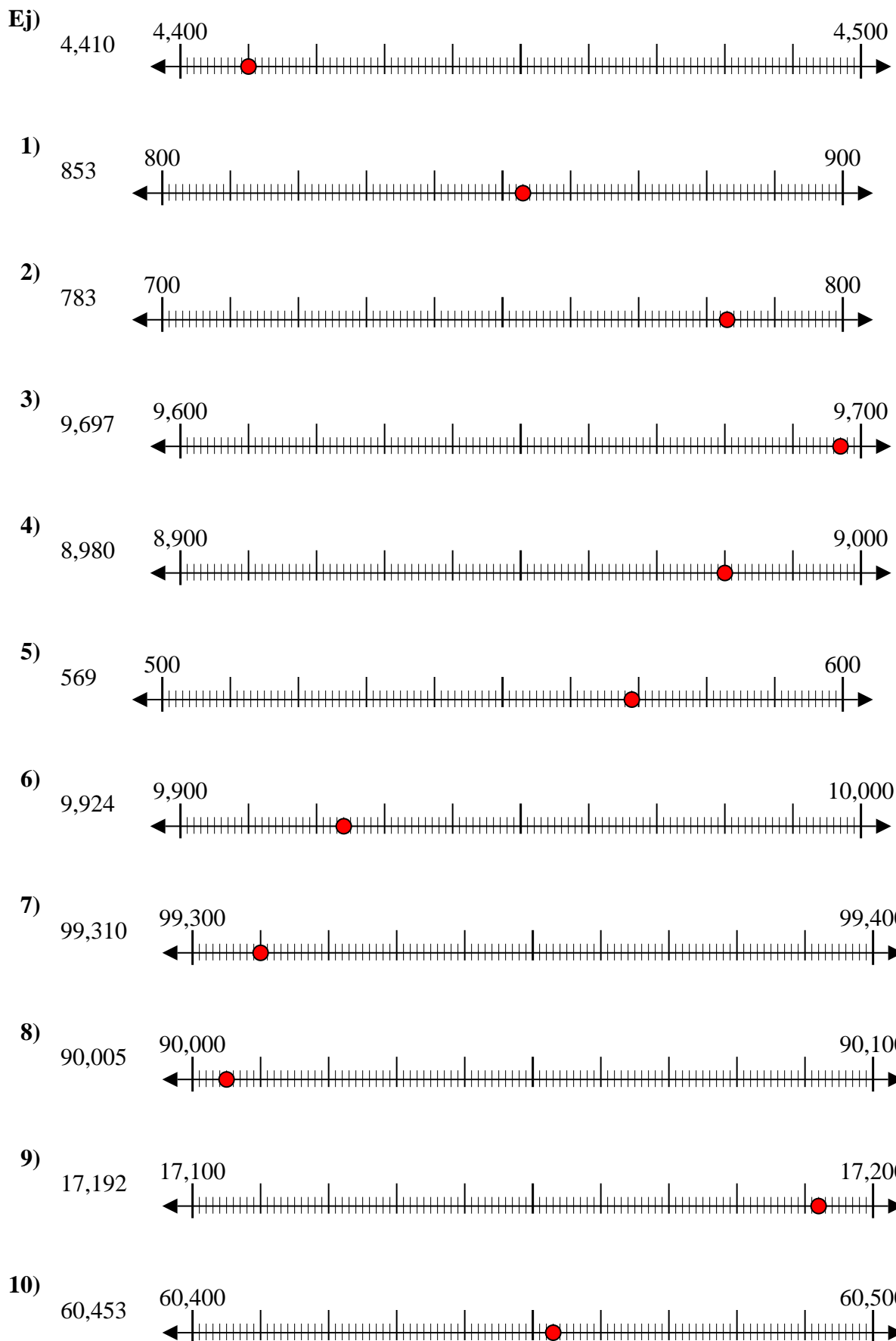


10. _____

Respuestas



Usar las rectas numéricas para redondear cada número al 100 más cercano.



Respuestas

- Ej. 4,400
1. 900
2. 800
3. 9,700
4. 9,000
5. 600
6. 9,900
7. 99,300
8. 90,000
9. 17,200
10. 60,500



Usar las rectas numéricas para redondear cada número al 100 más cercano.

Ej)

1,224



Ej. **1,200**

1)

9,937



1. _____

2)

81,895



2. _____

3)

791



3. _____

4)

3,821



4. _____

5)

216



5. _____

6)

45,078



6. _____

7)

21,436



7. _____

8)

85,063



8. _____

9)

232



9. _____

10)

608

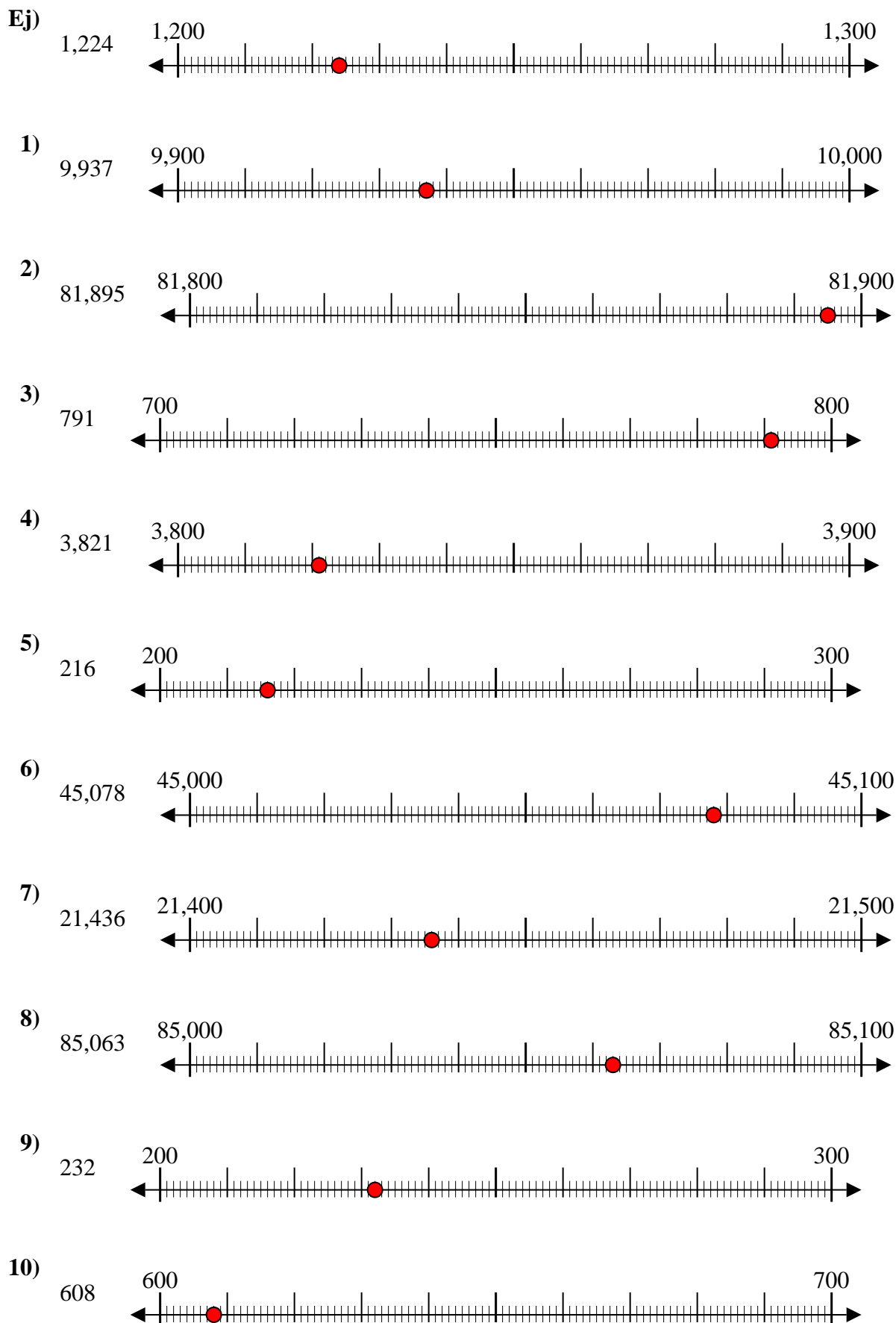


10. _____

Respuestas



Usar las rectas numéricas para redondear cada número al 100 más cercano.



Respuestas

- Ej. 1,200
1. 9,900
2. 81,900
3. 800
4. 3,800
5. 200
6. 45,100
7. 21,400
8. 85,100
9. 200
10. 600



Usar las rectas numéricas para redondear cada número al 100 más cercano.

Ej)

25,932



1)

28,551



2)

854



3)

831



4)

274



5)

12,793



6)

5,558



7)

5,688



8)

134



9)

9,335



10)

36,045



Respuestas

Ej. 25,900

1. _____

2. _____

3. _____

4. _____

5. _____

6. _____

7. _____

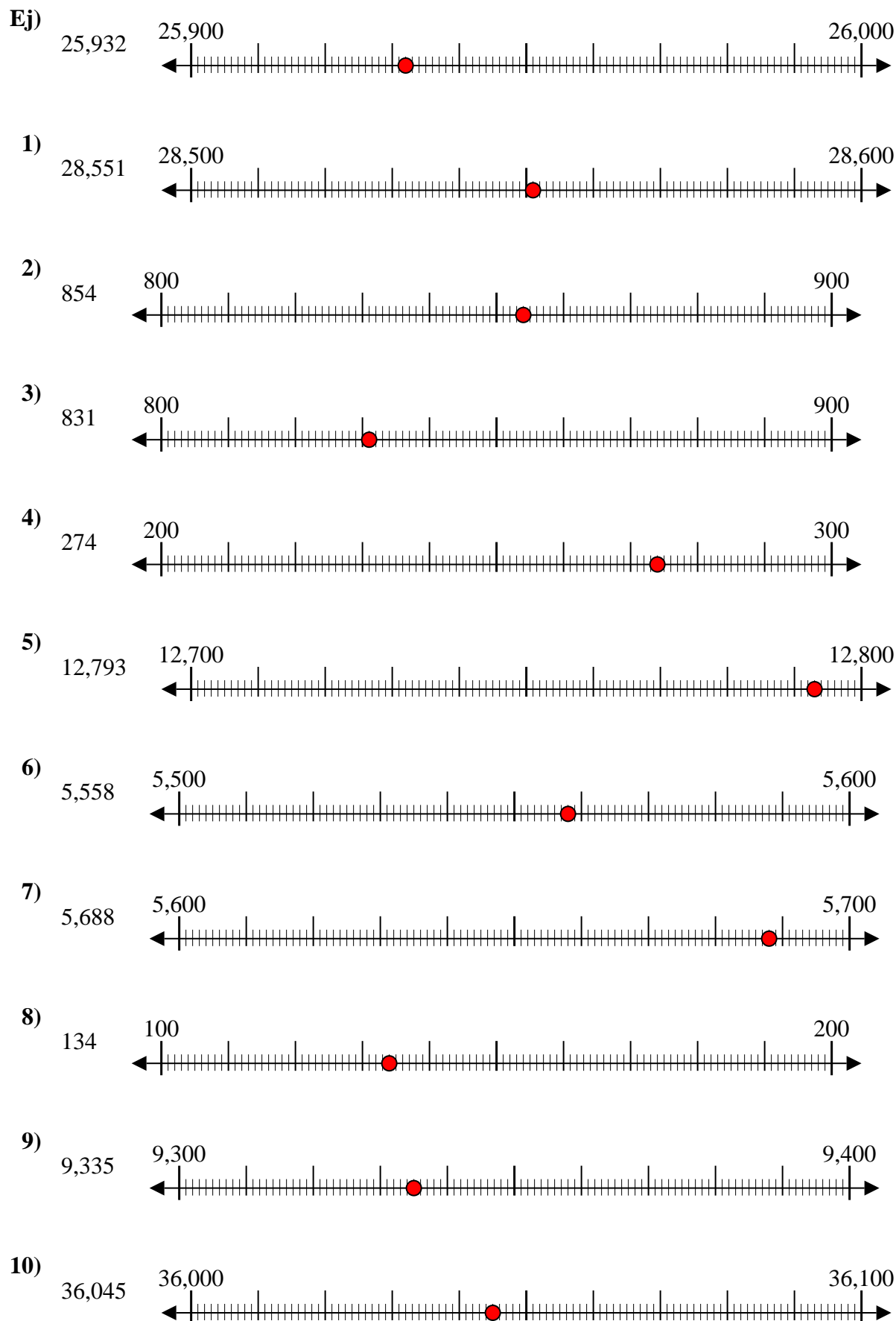
8. _____

9. _____

10. _____



Usar las rectas numéricas para redondear cada número al 100 más cercano.



Respuestas

- Ej. 25,900
1. 28,600
2. 900
3. 800
4. 300
5. 12,800
6. 5,600
7. 5,700
8. 100
9. 9,300
10. 36,000



Usar las rectas numéricas para redondear cada número al 100 más cercano.

Ej)

803



Ej. 800

1)

589



1. _____

2)

35,102



2. _____

3)

6,126



3. _____

4)

5,531



4. _____

5)

5,313



5. _____

6)

951



6. _____

7)

8,816



7. _____

8)

152



8. _____

9)

62,481



9. _____

10)

59,409

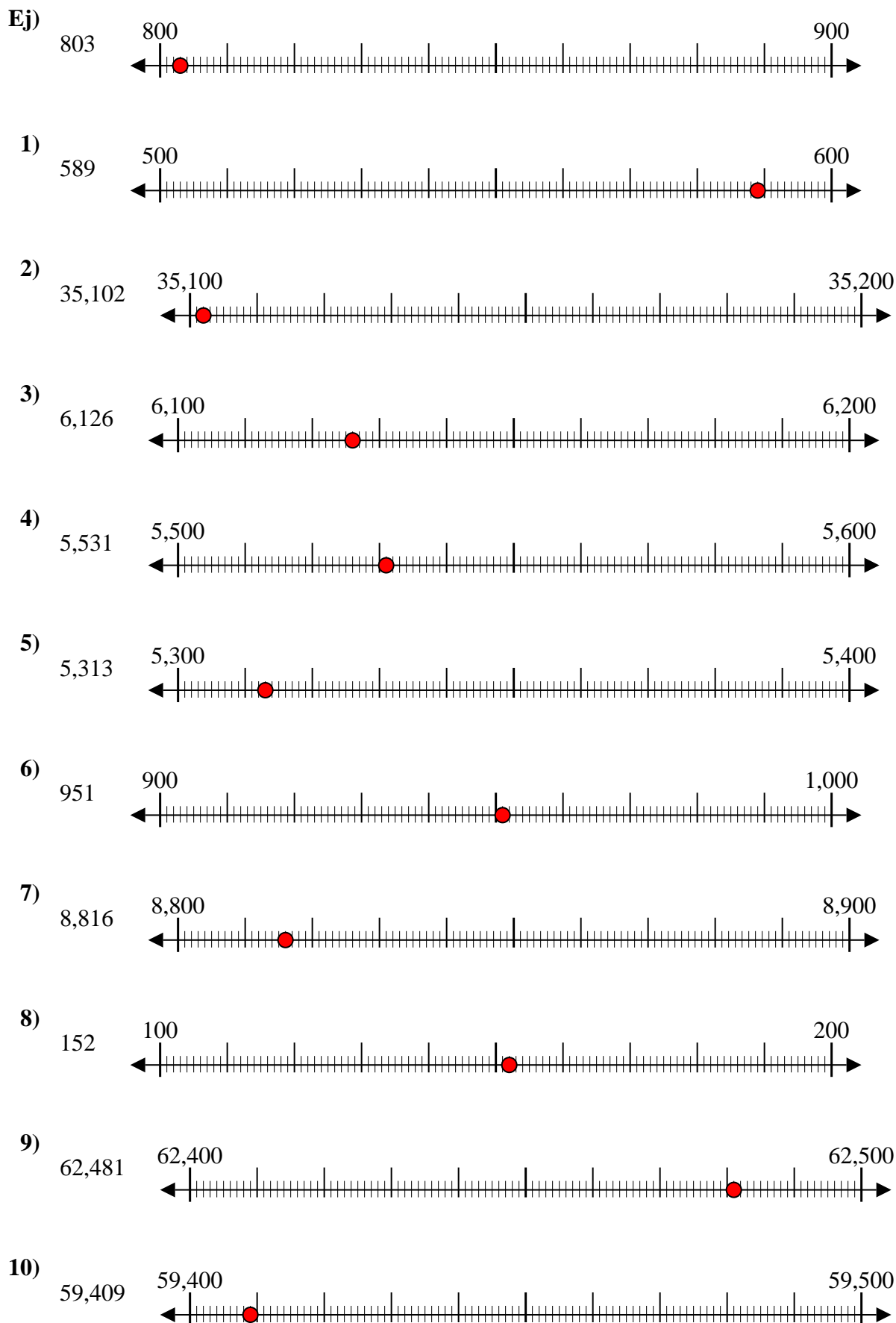


10. _____

Respuestas



Usar las rectas numéricas para redondear cada número al 100 más cercano.



Respuestas

- Ej. 800
1. 600
2. 35,100
3. 6,100
4. 5,500
5. 5,300
6. 1,000
7. 8,800
8. 200
9. 62,500
10. 59,400



Usar las rectas numéricas para redondear cada número al 100 más cercano.

Ej)

842



1)

777



2)

395



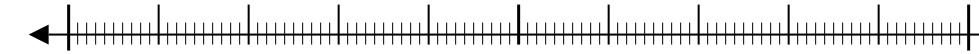
3)

856



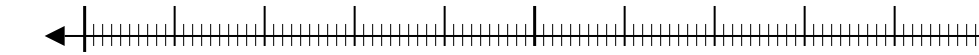
4)

7,693



5)

22,440



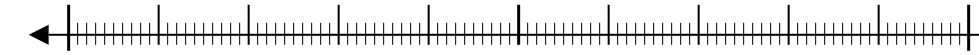
6)

52,709



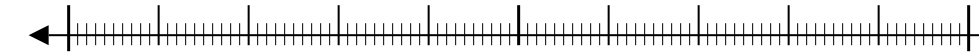
7)

5,550



8)

6,348



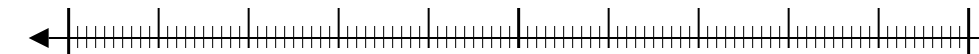
9)

76,807



10)

1,323



Respuestas

Ej. **800**

1. _____

2. _____

3. _____

4. _____

5. _____

6. _____

7. _____

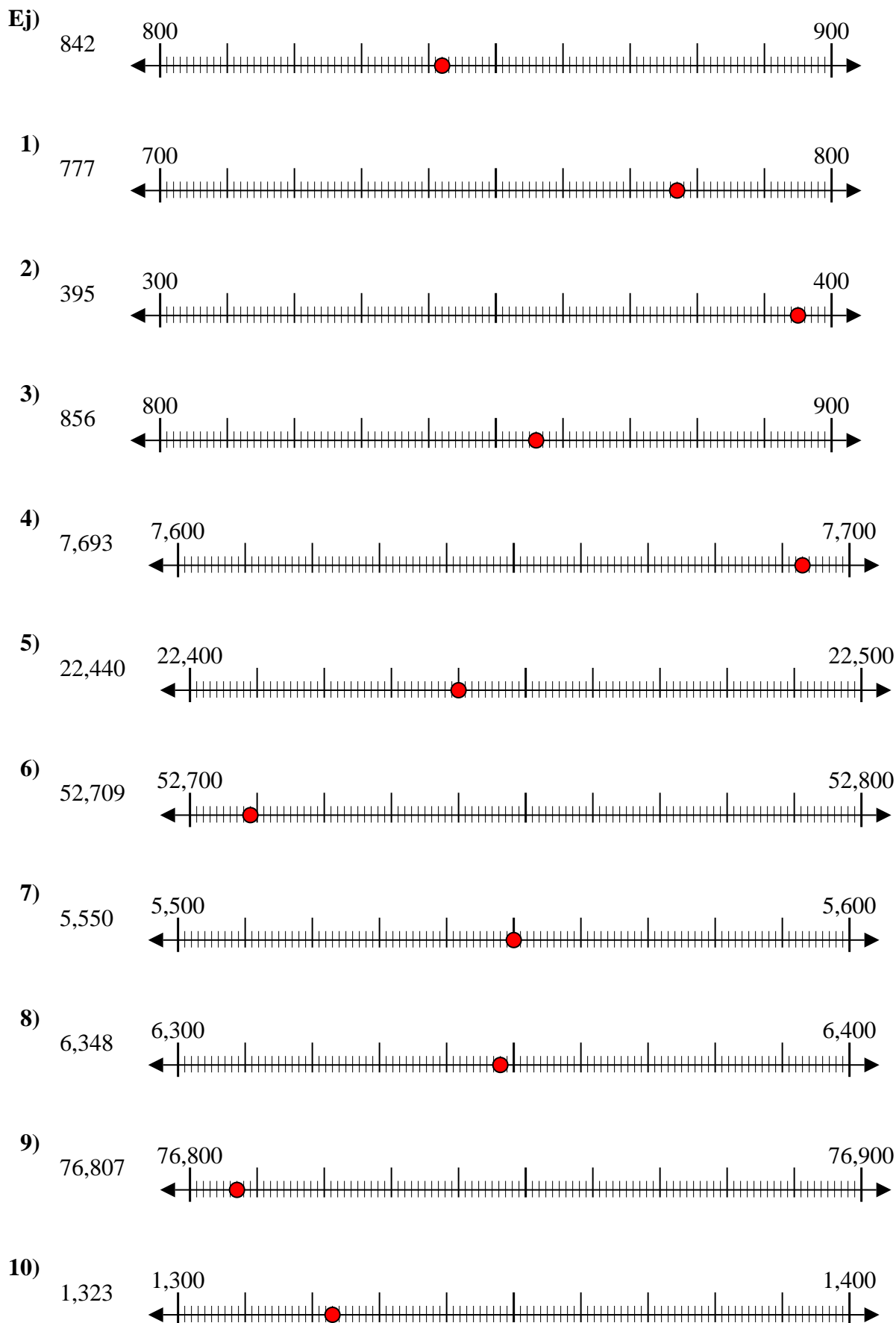
8. _____

9. _____

10. _____



Usar las rectas numéricas para redondear cada número al 100 más cercano.



Respuestas

- Ej. 800
1. 800
2. 400
3. 900
4. 7,700
5. 22,400
6. 52,700
7. 5,600
8. 6,300
9. 76,800
10. 1,300



Usar las rectas numéricas para redondear cada número al 100 más cercano.

Ej)

22,128



Ej. 22,100

1)

7,798



1. _____

2)

73,791



2. _____

3)

48,807



3. _____

4)

1,381



4. _____

5)

746



5. _____

6)

140



6. _____

7)

904



7. _____

8)

93,445



8. _____

9)

4,176



9. _____

10)

369

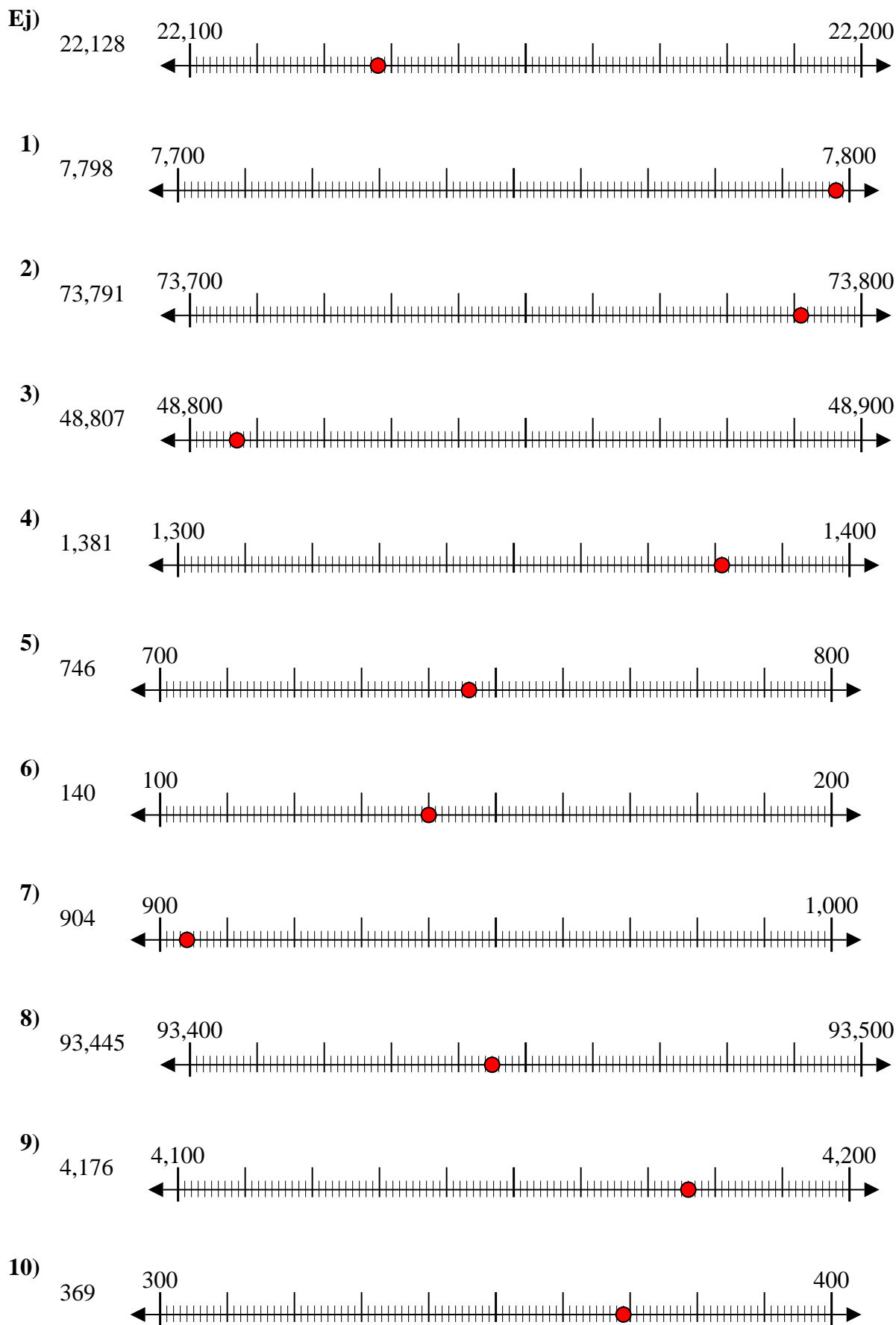


10. _____

Respuestas



Usar las rectas numéricas para redondear cada número al 100 más cercano.



Respuestas

- Ej. 22,100
1. 7,800
2. 73,800
3. 48,800
4. 1,400
5. 700
6. 100
7. 900
8. 93,400
9. 4,200
10. 400



Usar las rectas numéricas para redondear cada número al 100 más cercano.

Ej)

4,028



Ej. **4,000**

1)

905



1. _____

2)

4,915



2. _____

3)

984



3. _____

4)

6,410



4. _____

5)

43,902



5. _____

6)

20,088



6. _____

7)

59,370



7. _____

8)

815



8. _____

9)

38,901



9. _____

10)

4,908

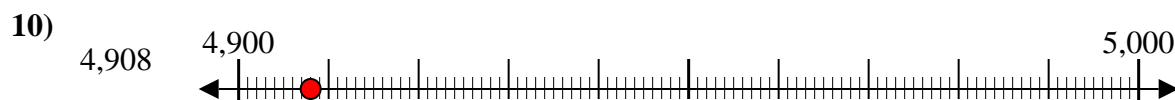
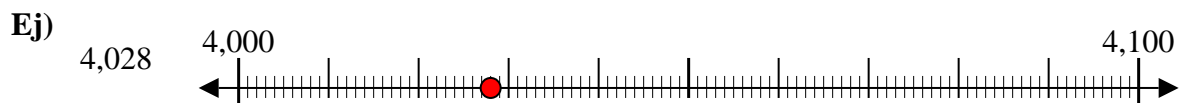


10. _____

Respuestas



Usar las rectas numéricas para redondear cada número al 100 más cercano.



Respuestas

Ej. 4,000

1. 900

2. 4,900

3. 1,000

4. 6,400

5. 43,900

6. 20,100

7. 59,400

8. 800

9. 38,900

10. 4,900