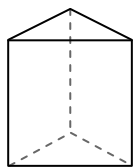




Usar el diagrama para determinar las caras, vértices y bordes de las figuras.

Respuestas

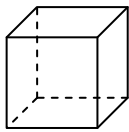
1)



prisma triangular

caras: _____
vértices: _____
bordes: _____

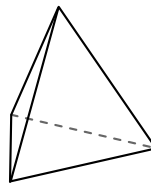
2)



cube

caras: _____
vértices: _____
bordes: _____

3)




pirámide triangular

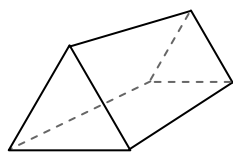
caras: _____
vértices: _____
bordes: _____

1. _____
2. _____
3. _____
4. _____
5. _____
6. _____

4)



esfera

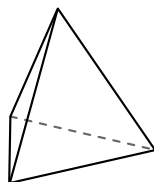


prisma triangular


¿Qué forma tiene más caras?

- A.esfera
- B.prisma triangular
- C.Ambos tienen el mismo número de caras.

5)



pirámide triangular

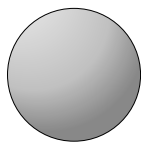


esfera

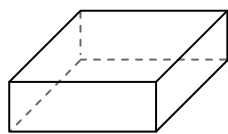
¿Qué forma tiene más vértices?

- A.pirámide triangular
- B.esfera
- C.Ambos tienen el mismo número de vértices.

6)



esfera



prisma rectangular

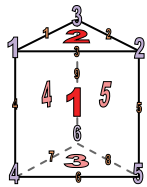
¿Qué forma tiene más bordes?

- A.esfera
- B.prisma rectangular
- C.Ambos tienen el mismo número de bordes.



Usar el diagrama para determinar las caras, vértices y bordes de las figuras.

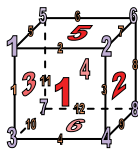
1)



prisma triangular

caras: 5
vértices: 6
bordes: 9

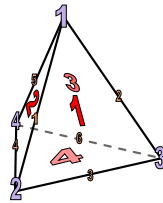
2)



cube

caras: 6
vértices: 8
bordes: 12


3)



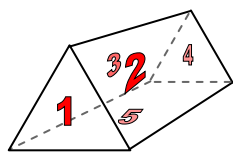
pirámide triangular

caras: 4
vértices: 4
bordes: 6

4)



esfera

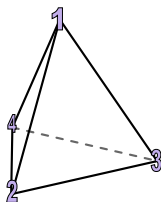


prisma triangular


¿Qué forma tiene más caras?

- A. esfera
- B. prisma triangular
- C. Ambos tienen el mismo número de caras.

5)



pirámide triangular

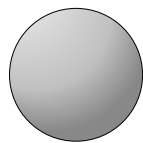


esfera

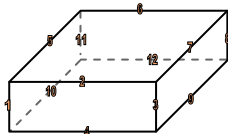
¿Qué forma tiene más vértices?

- A. pirámide triangular
- B. esfera
- C. Ambos tienen el mismo número de vértices.

6)



esfera



prisma rectangular

¿Qué forma tiene más bordes?

- A. esfera
- B. prisma rectangular
- C. Ambos tienen el mismo número de bordes.

Respuestas

1. 5, 6, 9

2. 6, 8, 12

3. 4, 4, 6

4. B

5. A

6. B