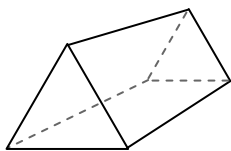




Usar el diagrama para determinar las caras, vértices y bordes de las figuras.

Respuestas

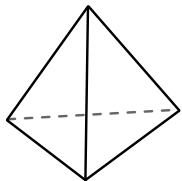
1)



prisma triangular

caras: _____
vértices: _____
bordes: _____

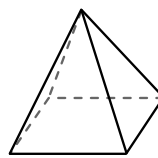
2)



pirámide triangular

caras: _____
vértices: _____
bordes: _____

3)




pirámide rectangular

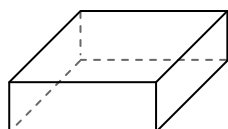
caras: _____
vértices: _____
bordes: _____

- 1. _____
- 2. _____
- 3. _____
- 4. _____
- 5. _____
- 6. _____

4)



esfera

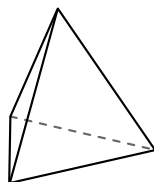


prisma rectangular

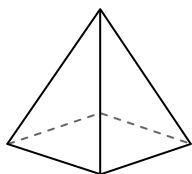
¿Qué forma tiene más caras?

- A.esfera
- B.prisma rectangular
- C.Ambos tienen el mismo número de caras.

5)



pirámide triangular

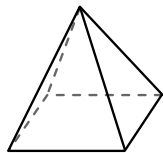


pirámide rectangular

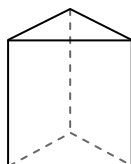
¿Qué forma tiene más vértices?

- A.pirámide triangular
- B.pirámide rectangular
- C.Ambos tienen el mismo número de vértices.

6)



pirámide rectangular



prisma triangular

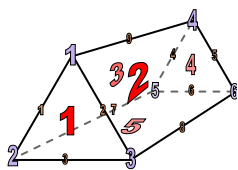
¿Qué forma tiene más bordes?

- A.pirámide rectangular
- B.prisma triangular
- C.Ambos tienen el mismo número de bordes.



Usar el diagrama para determinar las caras, vértices y bordes de las figuras.

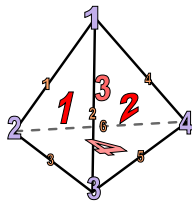
1)



prisma triangular

caras: 5
vértices: 6
bordes: 9

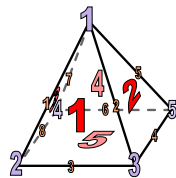
2)



pirámide triangular

caras: 4
vértices: 4
bordes: 6


3)



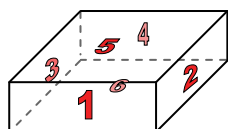
pirámide rectangular

caras: 5
vértices: 5
bordes: 8

4)



esfera

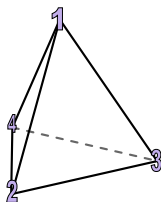


prisma rectangular

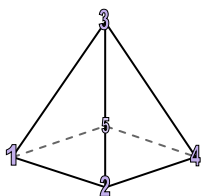
¿Qué forma tiene más caras?

- A. esfera
- B. prisma rectangular
- C. Ambos tienen el mismo número de caras.

5)



pirámide triangular

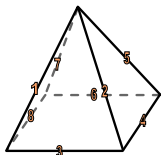


pirámide rectangular

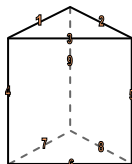
¿Qué forma tiene más vértices?

- A. pirámide triangular
- B. pirámide rectangular
- C. Ambos tienen el mismo número de vértices.

6)



pirámide rectangular



prisma triangular

¿Qué forma tiene más bordes?

- A. pirámide rectangular
- B. prisma triangular
- C. Ambos tienen el mismo número de bordes.

Respuestas

1. 5, 6, 9

2. 4, 4, 6

3. 5, 5, 8

4. B

5. B

6. B