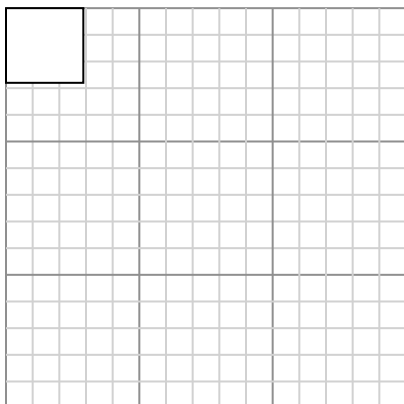




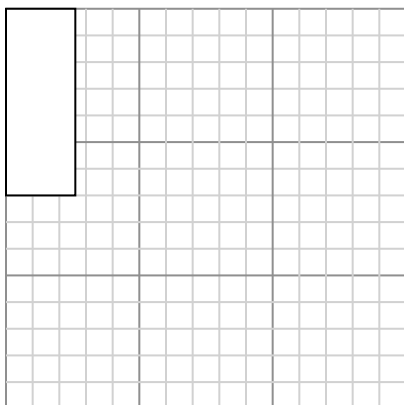
Dibuja cada rectángulo a la escala que se muestra y determinar las nuevas dimensiones.

- 1) The rectangle below has the dimensions: 2.9×2.8




Cree otro rectángulo que esté escalado a 16 multiplicado por el tamaño del rectángulo actual.

- 3) The rectangle below has the dimensions: 2.6×7



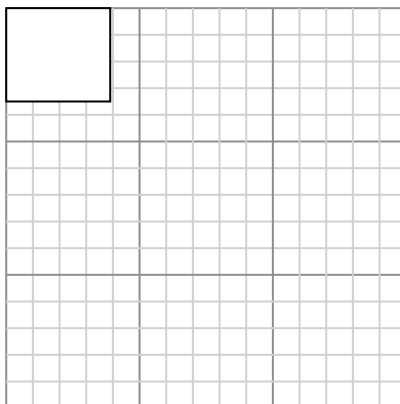
Cree otro rectángulo que esté escalado a 4 multiplicado por el tamaño del rectángulo actual.

- 5) The rectangle below has the dimensions: 4.7×2.2



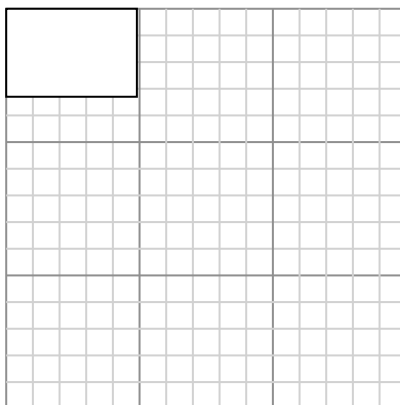
Cree otro rectángulo que esté escalado a 9 multiplicado por el tamaño del rectángulo

- 2) The rectangle below has the dimensions: 3.9×3.5



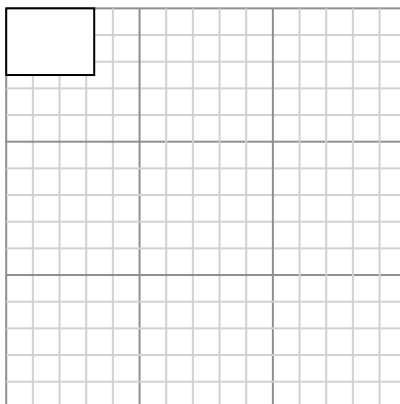
Cree otro rectángulo que esté escalado a 9 multiplicado por el tamaño del rectángulo actual.

- 4) The rectangle below has the dimensions: 4.9×3.3



Cree otro rectángulo que esté escalado a 4 multiplicado por el tamaño del rectángulo actual.

- 6) The rectangle below has the dimensions: 3.3×2.5



Cree otro rectángulo que esté escalado a 9 multiplicado por el tamaño del rectángulo

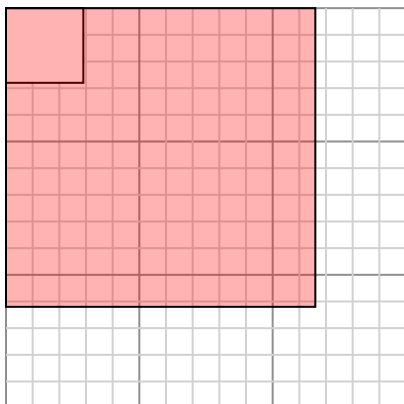
Respuestas

- 1. _____
- 2. _____
- 3. _____
- 4. _____
- 5. _____
- 6. _____



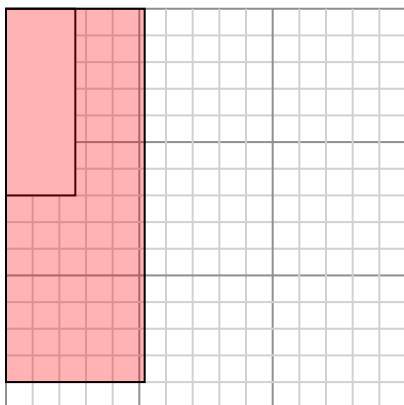
Dibuja cada rectángulo a la escala que se muestra y determinar las nuevas dimensiones.

- 1) The rectangle below has the dimensions:
 2.9×2.8



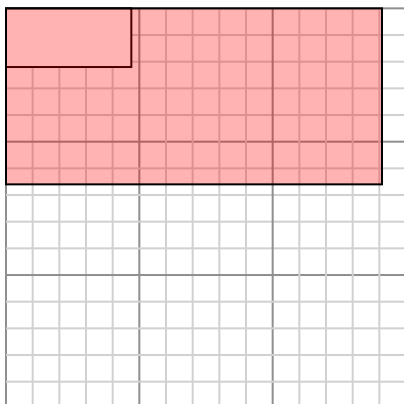
Cree otro rectángulo que esté escalado a 16 multiplicado por el tamaño del rectángulo actual.

- 3) The rectangle below has the dimensions:
 2.6×7



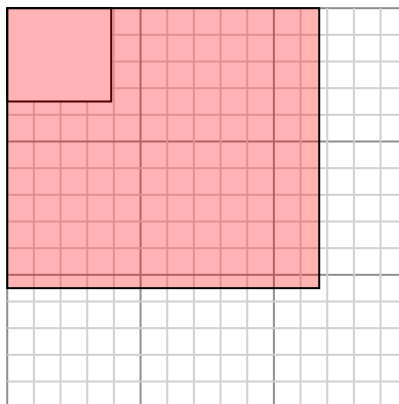
Cree otro rectángulo que esté escalado a 4 multiplicado por el tamaño del rectángulo actual.

- 5) The rectangle below has the dimensions:
 4.7×2.2



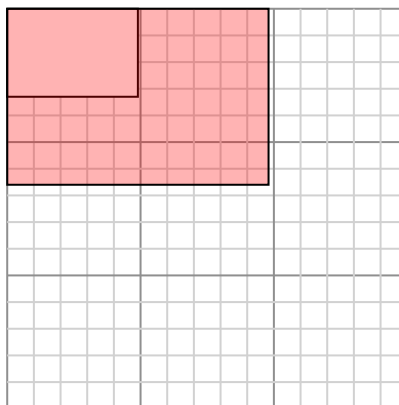
Cree otro rectángulo que esté escalado a 9 multiplicado por el tamaño del rectángulo

- 2) The rectangle below has the dimensions:
 3.9×3.5



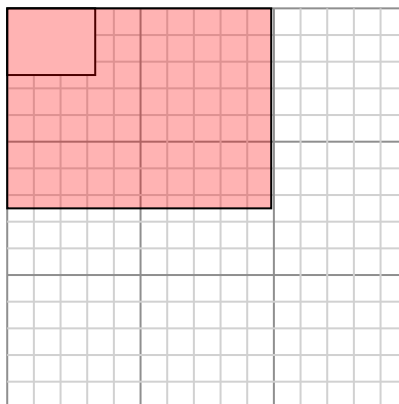
Cree otro rectángulo que esté escalado a 9 multiplicado por el tamaño del rectángulo actual.

- 4) The rectangle below has the dimensions:
 4.9×3.3



Cree otro rectángulo que esté escalado a 4 multiplicado por el tamaño del rectángulo actual.

- 6) The rectangle below has the dimensions:
 3.3×2.5



Cree otro rectángulo que esté escalado a 9 multiplicado por el tamaño del rectángulo

Respuestas

1. 11.6×11.2

2. 11.7×10.5

3. 5.2×14

4. 9.8×6.6

5. 14.1×6.6

6. 9.9×7.5