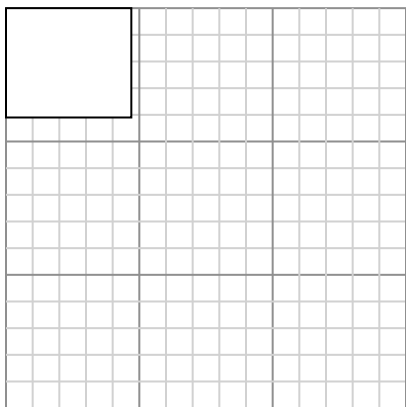




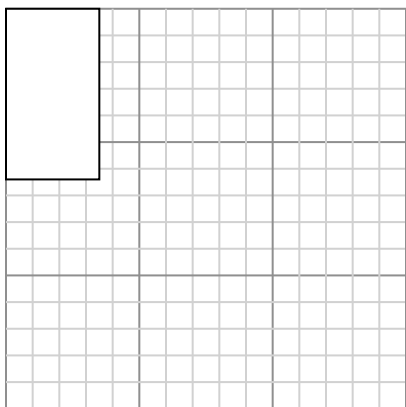
Dibuja cada rectángulo a la escala que se muestra y determinar las nuevas dimensiones.

- 1) The rectangle below has the dimensions: 4.7×4.1



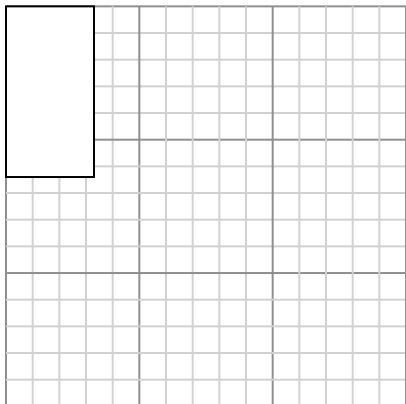
Cree otro rectángulo que esté escalado a 9 multiplicado por el tamaño del rectángulo actual.

- 3) The rectangle below has the dimensions: 3.5×6.4




Cree otro rectángulo que esté escalado a 4 multiplicado por el tamaño del rectángulo actual.

- 5) The rectangle below has the dimensions: 3.3×6.4



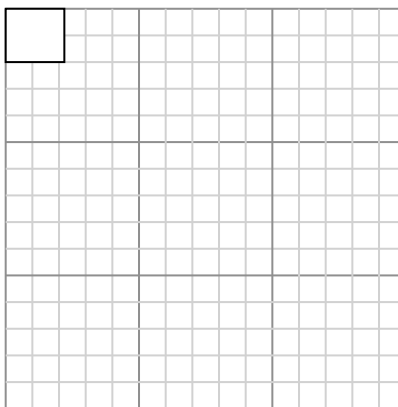
Cree otro rectángulo que esté escalado a 4 multiplicado por el tamaño del rectángulo

- 2) The rectangle below has the dimensions: 2×2.4



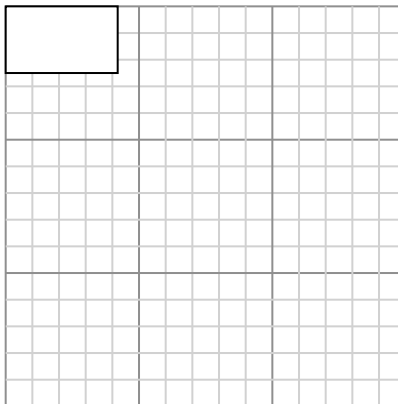
Cree otro rectángulo que esté escalado a 16 multiplicado por el tamaño del rectángulo actual.

- 4) The rectangle below has the dimensions: 2.2×2



Cree otro rectángulo que esté escalado a 16 multiplicado por el tamaño del rectángulo actual.

- 6) The rectangle below has the dimensions: 4.2×2.5



Cree otro rectángulo que esté escalado a 9 multiplicado por el tamaño del rectángulo

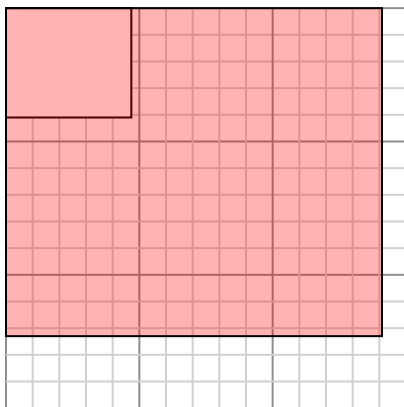
Respuestas

- 1. _____
- 2. _____
- 3. _____
- 4. _____
- 5. _____
- 6. _____



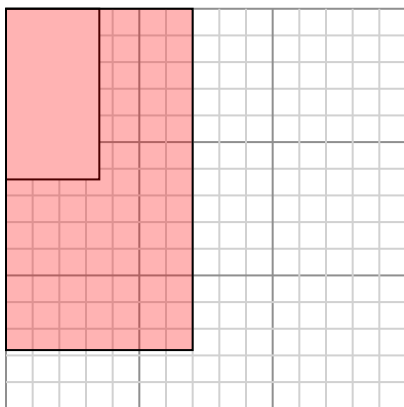
Dibuja cada rectángulo a la escala que se muestra y determinar las nuevas dimensiones.

- 1) The rectangle below has the dimensions: 4.7×4.1



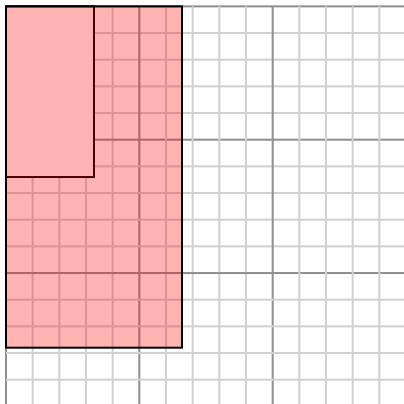
Cree otro rectángulo que esté escalado a 9 multiplicado por el tamaño del rectángulo actual.

- 3) The rectangle below has the dimensions: 3.5×6.4



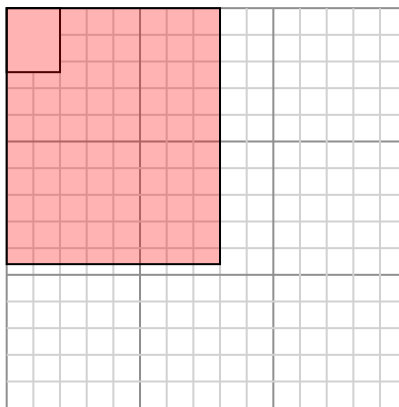
Cree otro rectángulo que esté escalado a 4 multiplicado por el tamaño del rectángulo actual.

- 5) The rectangle below has the dimensions: 3.3×6.4



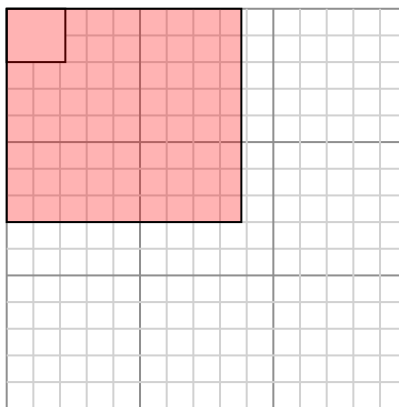
Cree otro rectángulo que esté escalado a 4 multiplicado por el tamaño del rectángulo

- 2) The rectangle below has the dimensions: 2×2.4



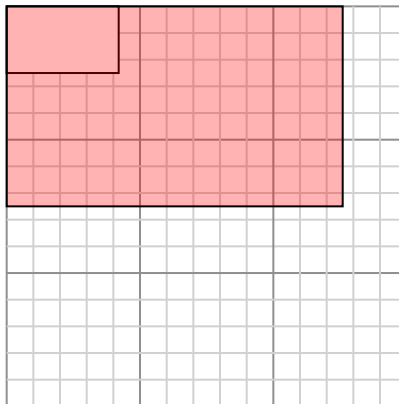
Cree otro rectángulo que esté escalado a 16 multiplicado por el tamaño del rectángulo actual.

- 4) The rectangle below has the dimensions: 2.2×2



Cree otro rectángulo que esté escalado a 16 multiplicado por el tamaño del rectángulo actual.

- 6) The rectangle below has the dimensions: 4.2×2.5



Cree otro rectángulo que esté escalado a 9 multiplicado por el tamaño del rectángulo

Respuestas

1. 14.1×12.3

2. 8×9.6

3. 7×12.8

4. 8.8×8

5. 6.6×12.8

6. 12.6×7.5