





Dibuja cada rectángulo a la escala que se muestra y determinar las nuevas dimensiones.

- 1) The rectangle below has the dimensions: 2.2×2.2



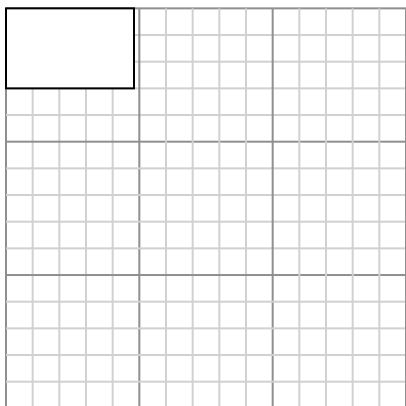
Cree otro rectángulo que esté escalado a 16 multiplicado por el tamaño del rectángulo actual.

- 3) The rectangle below has the dimensions: 2.5×2.6



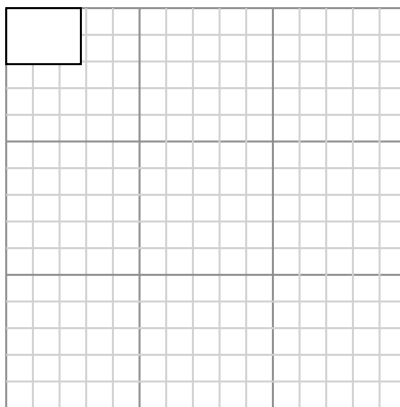
Cree otro rectángulo que esté escalado a 16 multiplicado por el tamaño del rectángulo actual.

- 5) The rectangle below has the dimensions: 4.8×3



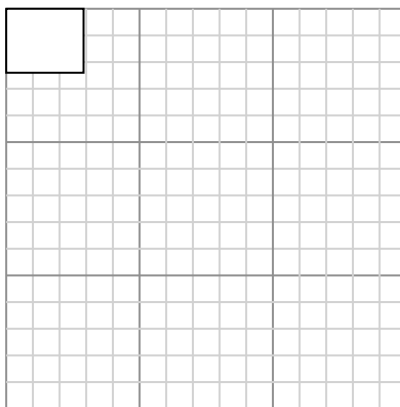
Cree otro rectángulo que esté escalado a 9 multiplicado por el tamaño del rectángulo

- 2) The rectangle below has the dimensions: 2.8×2.1



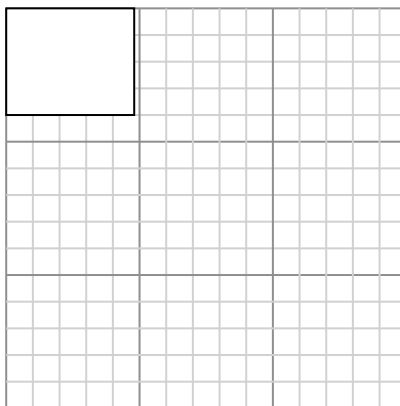
Cree otro rectángulo que esté escalado a 16 multiplicado por el tamaño del rectángulo actual.

- 4) The rectangle below has the dimensions: 2.9×2.4



Cree otro rectángulo que esté escalado a 4 multiplicado por el tamaño del rectángulo actual.

- 6) The rectangle below has the dimensions: 4.8×4



Cree otro rectángulo que esté escalado a 9 multiplicado por el tamaño del rectángulo

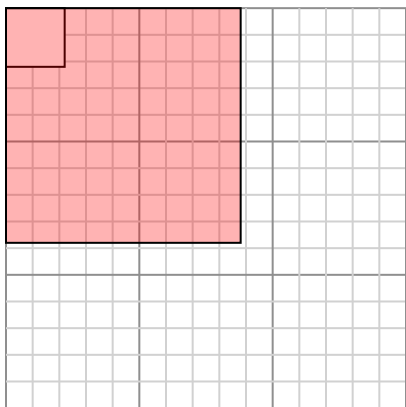
Respuestas

- 1. _____
- 2. _____
- 3. _____
- 4. _____
- 5. _____
- 6. _____



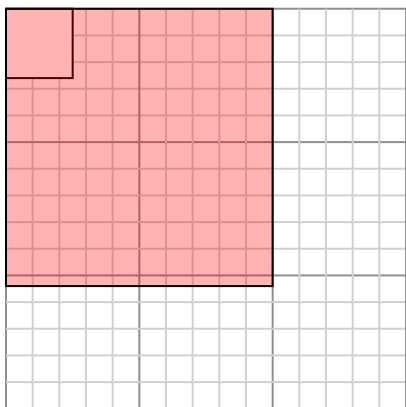
Dibuja cada rectángulo a la escala que se muestra y determinar las nuevas dimensiones.

- 1) The rectangle below has the dimensions:
 2.2×2.2



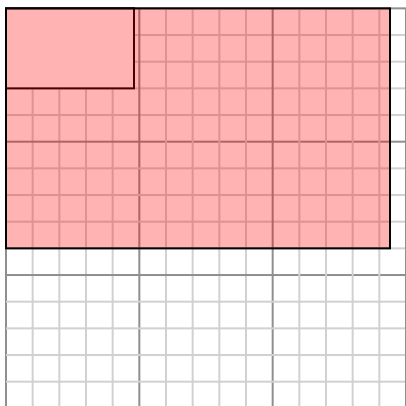
Cree otro rectángulo que esté escalado a 16 multiplicado por el tamaño del rectángulo actual.

- 3) The rectangle below has the dimensions:
 2.5×2.6



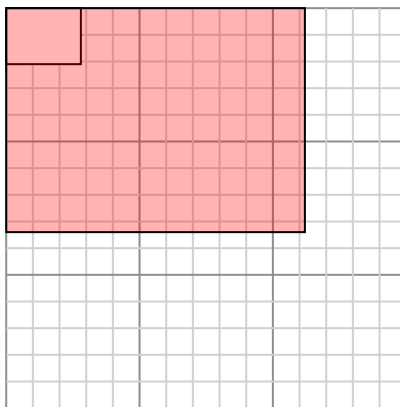
Cree otro rectángulo que esté escalado a 16 multiplicado por el tamaño del rectángulo actual.

- 5) The rectangle below has the dimensions:
 4.8×3



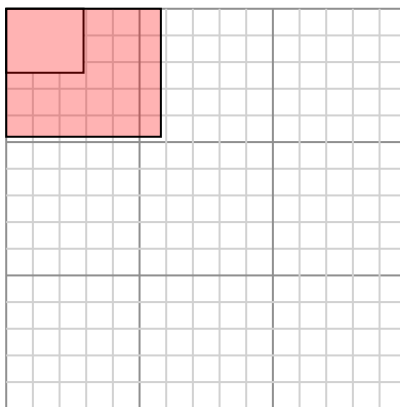
Cree otro rectángulo que esté escalado a 9 multiplicado por el tamaño del rectángulo

- 2) The rectangle below has the dimensions:
 2.8×2.1



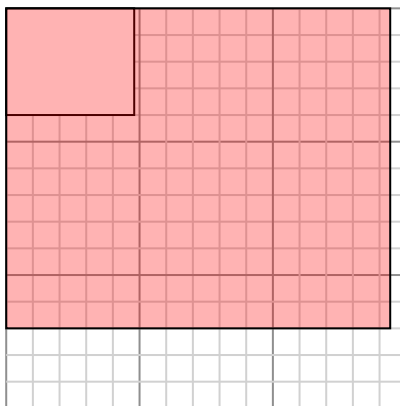
Cree otro rectángulo que esté escalado a 16 multiplicado por el tamaño del rectángulo actual.

- 4) The rectangle below has the dimensions:
 2.9×2.4



Cree otro rectángulo que esté escalado a 4 multiplicado por el tamaño del rectángulo actual.

- 6) The rectangle below has the dimensions:
 4.8×4



Cree otro rectángulo que esté escalado a 9 multiplicado por el tamaño del rectángulo

Respuestas

1. 8.8×8.8

2. 11.2×8.4

3. 10×10.4

4. 5.8×4.8

5. 14.4×9

6. 14.4×12