




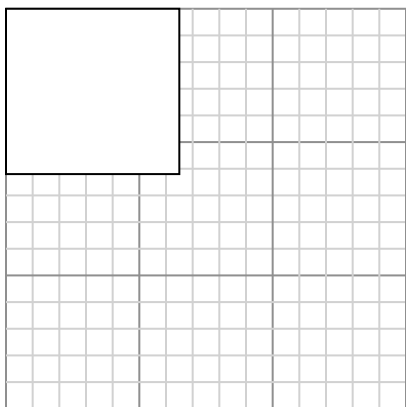
Dibuja cada rectángulo a la escala que se muestra y determinar las nuevas dimensiones.

- 1) The rectangle below has the dimensions: 2.4×3



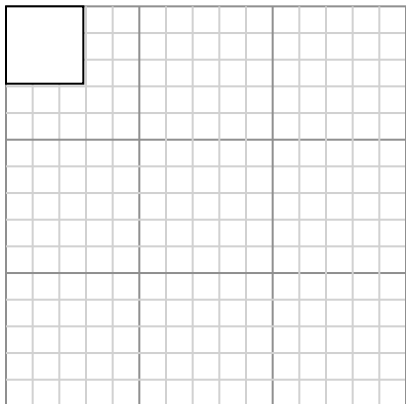
Cree otro rectángulo que esté escalado a 16 multiplicado por el tamaño del rectángulo actual.

- 3) The rectangle below has the dimensions: 6.5×6.2



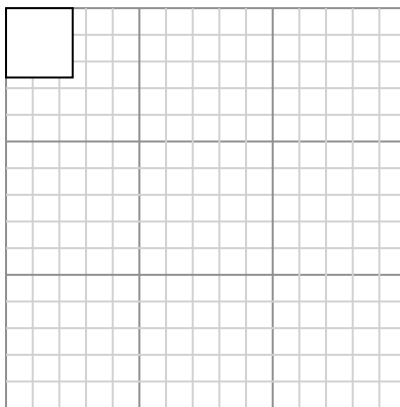
Cree otro rectángulo que esté escalado a 4 multiplicado por el tamaño del rectángulo actual.

- 5) The rectangle below has the dimensions: 2.9×2.9



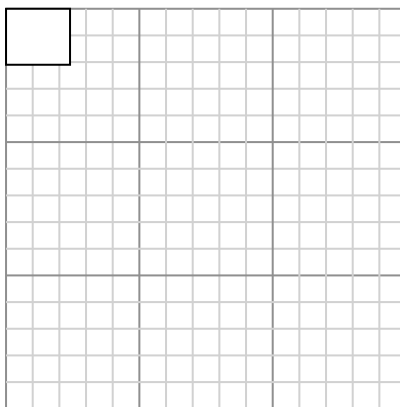
Cree otro rectángulo que esté escalado a 16 multiplicado por el tamaño del

- 2) The rectangle below has the dimensions: 2.5×2.6



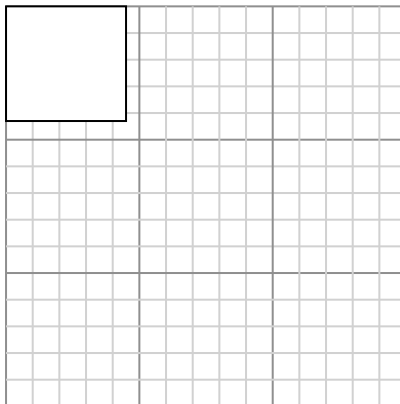
Cree otro rectángulo que esté escalado a 16 multiplicado por el tamaño del rectángulo actual.

- 4) The rectangle below has the dimensions: 2.4×2.1



Cree otro rectángulo que esté escalado a 16 multiplicado por el tamaño del rectángulo actual.

- 6) The rectangle below has the dimensions: 4.5×4.3



Cree otro rectángulo que esté escalado a 9 multiplicado por el tamaño del rectángulo

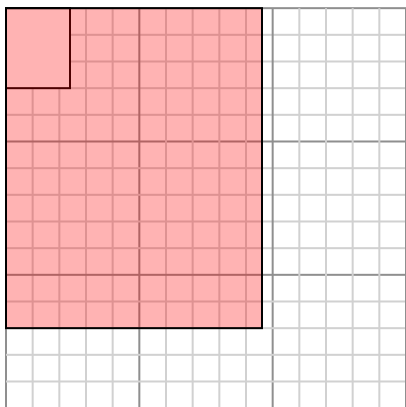
Respuestas

- 1. _____
- 2. _____
- 3. _____
- 4. _____
- 5. _____
- 6. _____



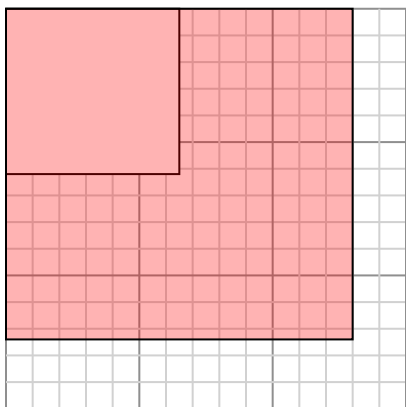
Dibuja cada rectángulo a la escala que se muestra y determinar las nuevas dimensiones.

- 1) The rectangle below has the dimensions:
 2.4×3



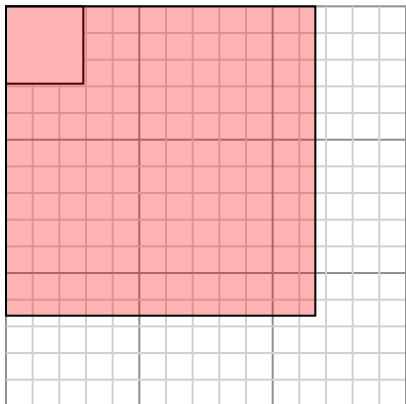
Cree otro rectángulo que esté escalado a 16 multiplicado por el tamaño del rectángulo actual.

- 3) The rectangle below has the dimensions:
 6.5×6.2



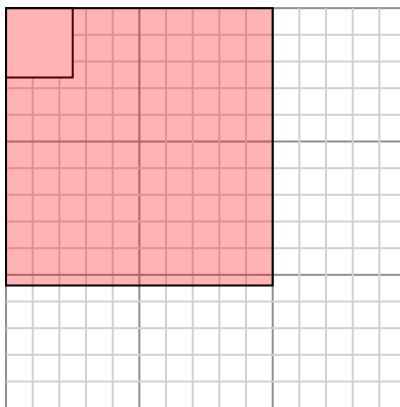
Cree otro rectángulo que esté escalado a 4 multiplicado por el tamaño del rectángulo actual.

- 5) The rectangle below has the dimensions:
 2.9×2.9



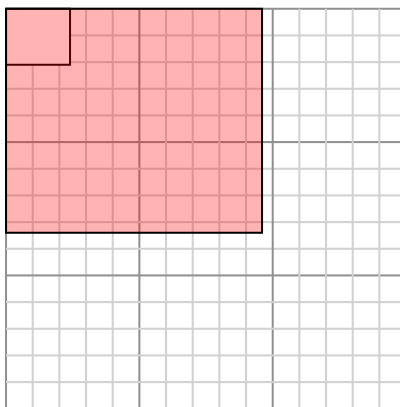
Cree otro rectángulo que esté escalado a 16 multiplicado por el tamaño del

- 2) The rectangle below has the dimensions:
 2.5×2.6



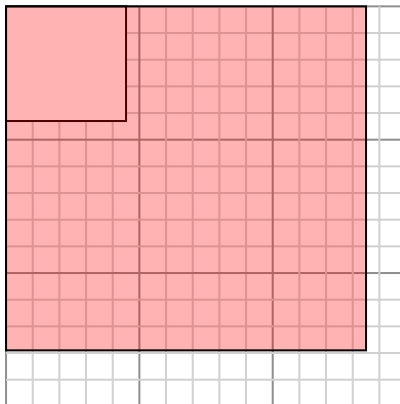
Cree otro rectángulo que esté escalado a 16 multiplicado por el tamaño del rectángulo actual.

- 4) The rectangle below has the dimensions:
 2.4×2.1



Cree otro rectángulo que esté escalado a 16 multiplicado por el tamaño del rectángulo actual.

- 6) The rectangle below has the dimensions:
 4.5×4.3



Cree otro rectángulo que esté escalado a 9 multiplicado por el tamaño del rectángulo

Respuestas

1. 9.6×12

2. 10×10.4

3. 13×12.4

4. 9.6×8.4

5. 11.6×11.6

6. 13.5×12.9