




Determinar si la figura se está trasladando (deslizando), rotando (girando) o reflejando (volteando)

Respuestas

1)



2)



3)



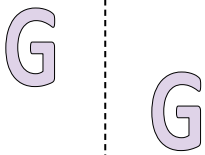
1. _____

2. _____

3. _____

4. _____

4)



5)



6)



5. _____

6. _____

7. _____

8. _____

7)



8)



9)



9. _____

10. _____

11. _____

12. _____

10)



11)



12)



13. _____

14. _____

15. _____



13)



14)



15)





Determinar si la figura se está trasladando (deslizando), rotando (girando) o reflejando (volteando)

1)



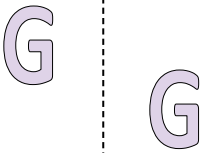
2)



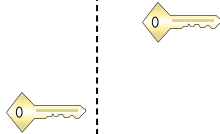
3)



4)



5)



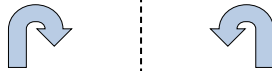
6)



7)



8)



9)



10)



11)



12)



13)



14)



15)



Respuestas

1. **volteando**

2. **deslizando**

3. **girando**

4. **deslizando**

5. **deslizando**

6. **girando**

7. **volteando**

8. **volteando**

9. **deslizando**

10. **deslizando**

11. **deslizando**

12. **volteando**

13. **girando**

14. **girando**

15. **girando**