



Utilizar el modelo visual para resolver cada problema.

Respuestas

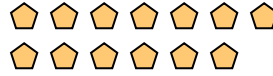
1) Hay 6 círculos debajo.



Si se quitaran 4, ¿cuántos quedarían?

$6 - 4 = ?$

2) Hay 13 pentágonos debajo.



Si se quitaran 10, ¿cuántos quedarían?

$13 - 10 = ?$

3) Hay 3 hexágonos debajo.



Si se quitaran 1, ¿cuántos quedarían?

$3 - 1 = ?$


4) Hay 7 círculos debajo.



Si se quitaran 1, ¿cuántos quedarían?

$7 - 1 = ?$

5) Hay 3 cuadros debajo.



Si se quitaran 2, ¿cuántos quedarían?

$3 - 2 = ?$

6) Hay 9 rectángulos debajo.



Si se quitaran 6, ¿cuántos quedarían?

$9 - 6 = ?$

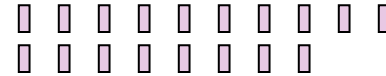
7) Hay 12 estrellas debajo.



Si se quitaran 9, ¿cuántos quedarían?

$12 - 9 = ?$

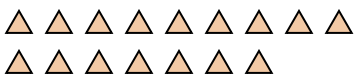
8) Hay 18 rectángulos debajo.



Si se quitaran 3, ¿cuántos quedarían?

$18 - 3 = ?$


9) Hay 16 triángulos debajo.



Si se quitaran 4, ¿cuántos quedarían?

$16 - 4 = ?$

10) Hay 15 cuadros debajo.



Si se quitaran 6, ¿cuántos quedarían?

$15 - 6 = ?$

- 1. _____
- 2. _____
- 3. _____
- 4. _____
- 5. _____
- 6. _____
- 7. _____
- 8. _____
- 9. _____
- 10. _____



Utilizar el modelo visual para resolver cada problema.

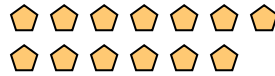
1) Hay 6 círculos debajo.



Si se quitaran 4, ¿cuántos quedarían?

$$6 - 4 = ?$$

2) Hay 13 pentágonos debajo.



Si se quitaran 10, ¿cuántos quedarían?

$$13 - 10 = ?$$

3) Hay 3 hexágonos debajo.



Si se quitaran 1, ¿cuántos quedarían?

$$3 - 1 = ?$$


4) Hay 7 círculos debajo.



Si se quitaran 1, ¿cuántos quedarían?

$$7 - 1 = ?$$

5) Hay 3 cuadros debajo.



Si se quitaran 2, ¿cuántos quedarían?

$$3 - 2 = ?$$

6) Hay 9 rectángulos debajo.



Si se quitaran 6, ¿cuántos quedarían?

$$9 - 6 = ?$$

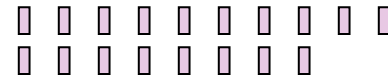
7) Hay 12 estrellas debajo.



Si se quitaran 9, ¿cuántos quedarían?

$$12 - 9 = ?$$

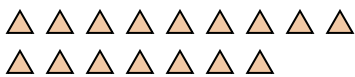
8) Hay 18 rectángulos debajo.



Si se quitaran 3, ¿cuántos quedarían?

$$18 - 3 = ?$$


9) Hay 16 triángulos debajo.



Si se quitaran 4, ¿cuántos quedarían?

$$16 - 4 = ?$$

10) Hay 15 cuadros debajo.



Si se quitaran 6, ¿cuántos quedarían?

$$15 - 6 = ?$$

Respuestas

1. 2

2. 3

3. 2

4. 6

5. 1

6. 3

7. 3

8. 15

9. 12

10. 9