







Utilizar el modelo visual para resolver cada problema.

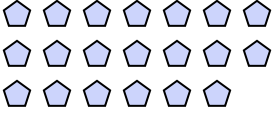
Respuestas


1) Hay 15 estrellas debajo.

 Si se quitaran 8, ¿cuántos quedarían?
 $15 - 8 = ?$

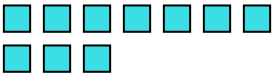
2) Hay 8 triángulos debajo.

 Si se quitaran 4, ¿cuántos quedarían?
 $8 - 4 = ?$


3) Hay 6 cuadros debajo.

 Si se quitaran 2, ¿cuántos quedarían?
 $6 - 2 = ?$

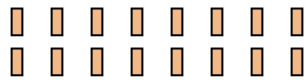
4) Hay 5 rectángulos debajo.

 Si se quitaran 1, ¿cuántos quedarían?
 $5 - 1 = ?$

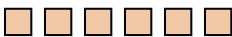
5) Hay 20 pentágonos debajo.

 Si se quitaran 4, ¿cuántos quedarían?
 $20 - 4 = ?$

6) Hay 8 estrellas debajo.

 Si se quitaran 6, ¿cuántos quedarían?
 $8 - 6 = ?$

7) Hay 10 cuadros debajo.

 Si se quitaran 8, ¿cuántos quedarían?
 $10 - 8 = ?$

8) Hay 19 estrellas debajo.

 Si se quitaran 10, ¿cuántos quedarían?
 $19 - 10 = ?$

9) Hay 16 rectángulos debajo.

 Si se quitaran 5, ¿cuántos quedarían?
 $16 - 5 = ?$

10) Hay 6 cuadros debajo.

 Si se quitaran 1, ¿cuántos quedarían?
 $6 - 1 = ?$

1. _____

2. _____

3. _____

4. _____

5. _____

6. _____

7. _____

8. _____

9. _____

10. _____



Utilizar el modelo visual para resolver cada problema.

1) Hay 15 estrellas debajo.



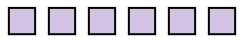
Si se quitaran 8, ¿cuántos quedarían?
 $15 - 8 = ?$

2) Hay 8 triángulos debajo.



Si se quitaran 4, ¿cuántos quedarían?
 $8 - 4 = ?$

3) Hay 6 cuadros debajo.



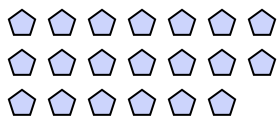
Si se quitaran 2, ¿cuántos quedarían?
 $6 - 2 = ?$

4) Hay 5 rectángulos debajo.



Si se quitaran 1, ¿cuántos quedarían?
 $5 - 1 = ?$

5) Hay 20 pentágonos debajo.



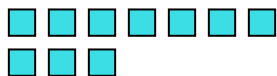
Si se quitaran 4, ¿cuántos quedarían?
 $20 - 4 = ?$

6) Hay 8 estrellas debajo.



Si se quitaran 6, ¿cuántos quedarían?
 $8 - 6 = ?$

7) Hay 10 cuadros debajo.



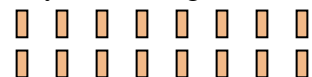
Si se quitaran 8, ¿cuántos quedarían?
 $10 - 8 = ?$

8) Hay 19 estrellas debajo.



Si se quitaran 10, ¿cuántos quedarían?
 $19 - 10 = ?$

9) Hay 16 rectángulos debajo.



Si se quitaran 5, ¿cuántos quedarían?
 $16 - 5 = ?$

10) Hay 6 cuadros debajo.



Si se quitaran 1, ¿cuántos quedarían?
 $6 - 1 = ?$

Respuestas

1. 7

2. 4

3. 4

4. 4

5. 16

6. 2

7. 2

8. 9

9. 11

10. 5