



Determinar el valor de cada grupo de líneas de conteo.

**Respuestas**

1)

1. \_\_\_\_\_

2)

2. \_\_\_\_\_

3)

3. \_\_\_\_\_

4)

4. \_\_\_\_\_

5)

5. \_\_\_\_\_

6)

6. \_\_\_\_\_

7)

7. \_\_\_\_\_

8)

8. \_\_\_\_\_

9)

9. \_\_\_\_\_

10)

10. \_\_\_\_\_

11)

11. \_\_\_\_\_

12)

12. \_\_\_\_\_

13)

13. \_\_\_\_\_

14)

14. \_\_\_\_\_

15)

15. \_\_\_\_\_

16)

16. \_\_\_\_\_

17)

17. \_\_\_\_\_

18)

18. \_\_\_\_\_



Determinar el valor de cada grupo de líneas de conteo.

**Respuestas**

1)

1. 38

2)

2. 24

3)

3. 35

4)

4. 25

5)

5. 7

6)

6. 50

7)

7. 26

8)

8. 39

9)

9. 46

10)

10. 33

11)

11. 18

12)

12. 43

13)

13. 14

14)

14. 41

15)

15. 49

16)

16. 29

17)

17. 19

18)

18. 13



Determinar el valor de cada grupo de líneas de conteo.

**Respuestas**

1)

1. \_\_\_\_\_

2)

2. \_\_\_\_\_

3)

3. \_\_\_\_\_

4)

4. \_\_\_\_\_

5)

5. \_\_\_\_\_

6)

6. \_\_\_\_\_

7)

7. \_\_\_\_\_

8)

8. \_\_\_\_\_

9)

9. \_\_\_\_\_

10)

10. \_\_\_\_\_

11)

11. \_\_\_\_\_

12)

12. \_\_\_\_\_

13)

13. \_\_\_\_\_

14)

14. \_\_\_\_\_

15)

15. \_\_\_\_\_

16)

16. \_\_\_\_\_

17)

17. \_\_\_\_\_

18)

18. \_\_\_\_\_



Determinar el valor de cada grupo de líneas de conteo.

**Respuestas**

1)	1. <u>17</u>
2)	2. <u>28</u>
3)	3. <u>44</u>
4)	4. <u>40</u>
5)	5. <u>49</u>
6)	6. <u>16</u>
7)	7. <u>37</u>
8)	8. <u>33</u>
9)	9. <u>14</u>
10)	10. <u>35</u>
11)	11. <u>32</u>
12)	12. <u>7</u>
13)	13. <u>6</u>
14)	14. <u>47</u>
15)	15. <u>24</u>
16)	16. <u>48</u>
17)	17. <u>8</u>
18)	18. <u>29</u>



Determinar el valor de cada grupo de líneas de conteo.

**Respuestas**

1)

1. \_\_\_\_\_

2)

2. \_\_\_\_\_

3)

3. \_\_\_\_\_

4)

4. \_\_\_\_\_

5)

5. \_\_\_\_\_

6)

6. \_\_\_\_\_

7)

7. \_\_\_\_\_

8)

8. \_\_\_\_\_

9)

9. \_\_\_\_\_

10)

10. \_\_\_\_\_

11)

11. \_\_\_\_\_

12)

12. \_\_\_\_\_

13)

13. \_\_\_\_\_

14)

14. \_\_\_\_\_

15)

15. \_\_\_\_\_

16)

16. \_\_\_\_\_

17)

17. \_\_\_\_\_




18)

18. \_\_\_\_\_



Determinar el valor de cada grupo de líneas de conteo.

**Respuestas**

1) 	1. <u>21</u>
2) 	2. <u>18</u>
3) 	3. <u>35</u>
4)	4. <u>10</u>
5)	5. <u>24</u>
6)	6. <u>39</u>
7)	7. <u>29</u>
8)	8. <u>46</u>
9)	9. <u>12</u>
10)	10. <u>32</u>
11)	11. <u>19</u>
12)	12. <u>16</u>
13)	13. <u>6</u>
14)	14. <u>9</u>
15)	15. <u>30</u>
16)	16. <u>7</u>
17)	17. <u>11</u>
18)	18. <u>13</u>



Determinar el valor de cada grupo de líneas de conteo.

**Respuestas**

1)

1. \_\_\_\_\_

2)

2. \_\_\_\_\_

3)

3. \_\_\_\_\_

4)

4. \_\_\_\_\_

5)

5. \_\_\_\_\_

6)

6. \_\_\_\_\_

7)

7. \_\_\_\_\_

8)

8. \_\_\_\_\_

9)

9. \_\_\_\_\_

10)

10. \_\_\_\_\_

11)

11. \_\_\_\_\_

12)

12. \_\_\_\_\_

13)

13. \_\_\_\_\_

14)

14. \_\_\_\_\_

15)

15. \_\_\_\_\_

16)

16. \_\_\_\_\_

17)

17. \_\_\_\_\_





18)

18. \_\_\_\_\_



Determinar el valor de cada grupo de líneas de conteo.

**Respuestas**

1) 	1. <u>24</u>
2) 	2. <u>27</u>
3) 	3. <u>22</u>
4) 	4. <u>40</u>
5)	5. <u>21</u>
6)	6. <u>13</u>
7)	7. <u>45</u>
8)	8. <u>6</u>
9)	9. <u>16</u>
10)	10. <u>12</u>
11)	11. <u>19</u>
12)	12. <u>49</u>
13)	13. <u>34</u>
14)	14. <u>9</u>
15)	15. <u>41</u>
16)	16. <u>29</u>
17)	17. <u>23</u>
18)	18. <u>28</u>





Determinar el valor de cada grupo de líneas de conteo.

**Respuestas**

1)

1. \_\_\_\_\_

2)

2. \_\_\_\_\_

3)

3. \_\_\_\_\_

4)

4. \_\_\_\_\_

5)

5. \_\_\_\_\_

6)

6. \_\_\_\_\_

7)

7. \_\_\_\_\_

8)

8. \_\_\_\_\_

9)

9. \_\_\_\_\_

10)

10. \_\_\_\_\_

11)

11. \_\_\_\_\_

12)

12. \_\_\_\_\_

13)

13. \_\_\_\_\_

14)

14. \_\_\_\_\_

15)

15. \_\_\_\_\_

16)

16. \_\_\_\_\_

17)

17. \_\_\_\_\_

18)

18. \_\_\_\_\_



Determinar el valor de cada grupo de líneas de conteo.

**Respuestas**

1)	1. <u>9</u>
2)	2. <u>37</u>
3)	3. <u>36</u>
4)	4. <u>26</u>
5)	5. <u>47</u>
6)	6. <u>20</u>
7)	7. <u>15</u>
8)	8. <u>25</u>
9)	9. <u>43</u>
10)	10. <u>21</u>
11)	11. <u>18</u>
12)	12. <u>44</u>
13)	13. <u>14</u>
14)	14. <u>24</u>
15)	15. <u>38</u>
16)	16. <u>40</u>
17)	17. <u>13</u>
18)	18. <u>50</u>



Determinar el valor de cada grupo de líneas de conteo.

**Respuestas**

1)

1. \_\_\_\_\_

2)

2. \_\_\_\_\_

3)

3. \_\_\_\_\_

4)

4. \_\_\_\_\_

5)

5. \_\_\_\_\_

6)

6. \_\_\_\_\_

7)

7. \_\_\_\_\_

8)

8. \_\_\_\_\_

9)

9. \_\_\_\_\_

10)

10. \_\_\_\_\_

11)

11. \_\_\_\_\_

12)

12. \_\_\_\_\_

13)

13. \_\_\_\_\_

14)

14. \_\_\_\_\_

15)

15. \_\_\_\_\_

16)

16. \_\_\_\_\_

17)

17. \_\_\_\_\_

18)

18. \_\_\_\_\_



Determinar el valor de cada grupo de líneas de conteo.

**Respuestas**

1)	1. <u>13</u>
2)	2. <u>18</u>
3)	3. <u>44</u>
4)	4. <u>20</u>
5)	5. <u>23</u>
6)	6. <u>47</u>
7)	7. <u>26</u>
8)	8. <u>9</u>
9)	9. <u>48</u>
10)	10. <u>10</u>
11)	11. <u>16</u>
12)	12. <u>38</u>
13)	13. <u>30</u>
14)	14. <u>15</u>
15)	15. <u>45</u>
16)	16. <u>49</u>
17)	17. <u>56</u>
18)	18. <u>22</u>



Determinar el valor de cada grupo de líneas de conteo.

**Respuestas**

1)

1. \_\_\_\_\_

2)

2. \_\_\_\_\_

3)

3. \_\_\_\_\_

4)

4. \_\_\_\_\_

5)

5. \_\_\_\_\_

6)

6. \_\_\_\_\_

7)

7. \_\_\_\_\_

8)

8. \_\_\_\_\_

9)

9. \_\_\_\_\_

10)

10. \_\_\_\_\_

11)

11. \_\_\_\_\_

12)

12. \_\_\_\_\_

13)

13. \_\_\_\_\_

14)

14. \_\_\_\_\_

15)

15. \_\_\_\_\_

16)

16. \_\_\_\_\_

17)

17. \_\_\_\_\_

18)

18. \_\_\_\_\_



Determinar el valor de cada grupo de líneas de conteo.

**Respuestas**

1)	1. <u>10</u>
2)	2. <u>33</u>
3)	3. <u>45</u>
4)	4. <u>20</u>
5)	5. <u>42</u>
6)	6. <u>26</u>
7)	7. <u>39</u>
8)	8. <u>15</u>
9)	9. <u>11</u>
10)	10. <u>34</u>
11)	11. <u>13</u>
12)	12. <u>8</u>
13)	13. <u>41</u>
14)	14. <u>44</u>
15)	15. <u>25</u>
16)	16. <u>49</u>
17)	17. <u>12</u>
18)	18. <u>21</u>



Determinar el valor de cada grupo de líneas de conteo.

**Respuestas**

1)

1. \_\_\_\_\_

2)

2. \_\_\_\_\_

3)

3. \_\_\_\_\_

4)

4. \_\_\_\_\_

5)

5. \_\_\_\_\_

6)

6. \_\_\_\_\_

7)

7. \_\_\_\_\_

8)

8. \_\_\_\_\_

9)

9. \_\_\_\_\_

10)

10. \_\_\_\_\_

11)

11. \_\_\_\_\_

12)

12. \_\_\_\_\_

13)

13. \_\_\_\_\_

14)

14. \_\_\_\_\_

15)

15. \_\_\_\_\_

16)

16. \_\_\_\_\_

17)

17. \_\_\_\_\_

18)

18. \_\_\_\_\_



Determinar el valor de cada grupo de líneas de conteo.

**Respuestas**

1)	1. <u>15</u>
2)	2. <u>48</u>
3)	3. <u>21</u>
4)	4. <u>17</u>
5)	5. <u>8</u>
6)	6. <u>11</u>
7)	7. <u>43</u>
8)	8. <u>33</u>
9)	9. <u>37</u>
10)	10. <u>16</u>
11)	11. <u>46</u>
12)	12. <u>9</u>
13)	13. <u>7</u>
14)	14. <u>41</u>
15)	15. <u>38</u>
16)	16. <u>47</u>
17)	17. <u>27</u>
18)	18. <u>26</u>





Determinar el valor de cada grupo de líneas de conteo.

**Respuestas**

1)

1. \_\_\_\_\_

2)

2. \_\_\_\_\_

3)

3. \_\_\_\_\_

4)

4. \_\_\_\_\_

5)

5. \_\_\_\_\_

6)

6. \_\_\_\_\_

7)

7. \_\_\_\_\_

8)

8. \_\_\_\_\_

9)

9. \_\_\_\_\_

10)

10. \_\_\_\_\_

11)

11. \_\_\_\_\_

12)

12. \_\_\_\_\_

13)

13. \_\_\_\_\_

14)

14. \_\_\_\_\_

15)

15. \_\_\_\_\_

16)

16. \_\_\_\_\_

17)

17. \_\_\_\_\_

18)

18. \_\_\_\_\_



Determinar el valor de cada grupo de líneas de conteo.

**Respuestas**

1)	1. <u>19</u>
2)	2. <u>31</u>
3)	3. <u>34</u>
4)	4. <u>36</u>
5)	5. <u>16</u>
6)	6. <u>41</u>
7)	7. <u>20</u>
8)	8. <u>13</u>
9)	9. <u>7</u>
10)	10. <u>38</u>
11)	11. <u>50</u>
12)	12. <u>44</u>
13)	13. <u>15</u>
14)	14. <u>17</u>
15)	15. <u>48</u>
16)	16. <u>28</u>
17)	17. <u>27</u>
18)	18. <u>42</u>



Determinar el valor de cada grupo de líneas de conteo.

**Respuestas**

1)

1. \_\_\_\_\_

2)

2. \_\_\_\_\_

3)

3. \_\_\_\_\_

4)

4. \_\_\_\_\_

5)

5. \_\_\_\_\_

6)

6. \_\_\_\_\_

7)

7. \_\_\_\_\_

8)

8. \_\_\_\_\_

9)

9. \_\_\_\_\_

10)

10. \_\_\_\_\_

11)

11. \_\_\_\_\_

12)

12. \_\_\_\_\_

13)

13. \_\_\_\_\_

14)

14. \_\_\_\_\_

15)

15. \_\_\_\_\_

16)

16. \_\_\_\_\_

17)

17. \_\_\_\_\_

18)

18. \_\_\_\_\_

18. \_\_\_\_\_



Determinar el valor de cada grupo de líneas de conteo.

**Respuestas**

1)

1. 49

2)

2. 7

3)

3. 31

4)

4. 44

5)

5. 23

6)

6. 19

7)

7. 17

8)

8. 35

9)

9. 32

10)

10. 50

11)

11. 40

12)

12. 12

13)

13. 9

14)

14. 13

15)

15. 30

16)

16. 15

17)

17. 47

18)

18. 6