



Emparejar las líneas de conteo con las gráficas de barras Nombre: _____

Empareje cada tabla con la gráfica apropiada.

Respuestas

1)

Nombre	Latas Recicladas
Alan	7
Berta	9
Ricardo	2
Andrea	6
Roberto	7

2)

Nombre	Latas Recicladas
Alan	6
Berta	6
Ricardo	9
Andrea	5
Roberto	4

3)

Nombre	Latas Recicladas
Alan	6
Berta	6
Ricardo	5
Andrea	7
Roberto	4

1. _____

2. _____

3. _____

4. _____

5. _____

6. _____

4)

Nombre	Latas Recicladas
Alan	7
Berta	6
Ricardo	9
Andrea	7
Roberto	6

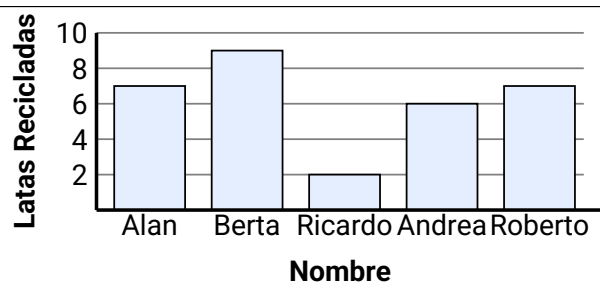
5)

Nombre	Latas Recicladas
Alan	6
Berta	6
Ricardo	9
Andrea	5
Roberto	4

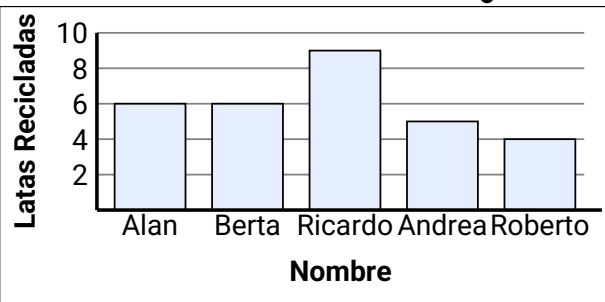
6)

Nombre	Latas Recicladas
Alan	6
Berta	6
Ricardo	5
Andrea	7
Roberto	4

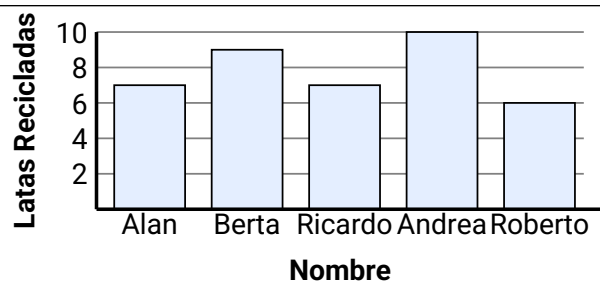
A.



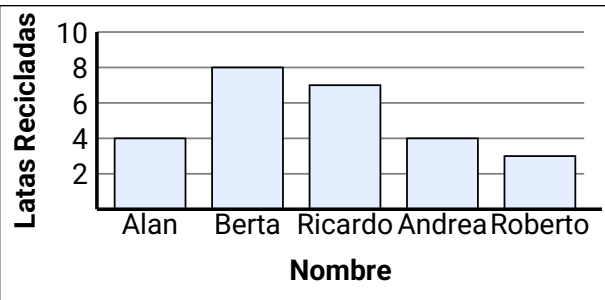
B.



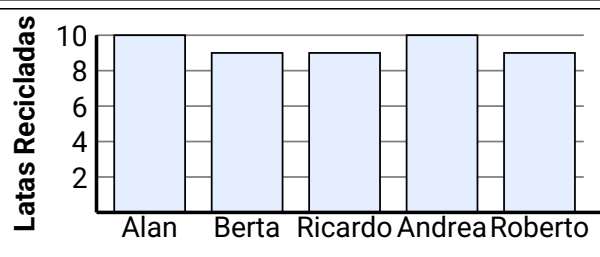
C.



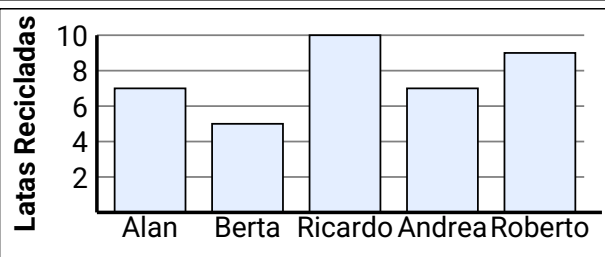
D.



E.



F.





Empareje cada tabla con la gráfica apropiada.

Respuestas

1)

Nombre	Latas Recicladas
Alan	7
Berta	9
Ricardo	2
Andrea	6
Roberto	7

2)

Nombre	Latas Recicladas
Alan	6
Berta	6
Ricardo	9
Andrea	5
Roberto	4

3)

Nombre	Latas Recicladas
Alan	6
Berta	6
Ricardo	5
Andrea	4
Roberto	4

4)

Nombre	Latas Recicladas
Alan	7
Berta	6
Ricardo	6
Andrea	7
Roberto	6

5)

Nombre	Latas Recicladas
Alan	6
Berta	6
Ricardo	9
Andrea	5
Roberto	4

6)

Nombre	Latas Recicladas
Alan	6
Berta	6
Ricardo	5
Andrea	4
Roberto	4

1. **E**

2. **D**

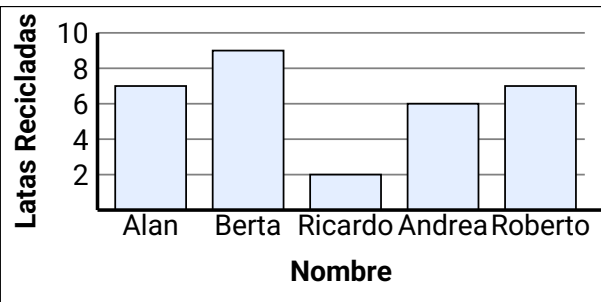
3. **B**

4. **C**

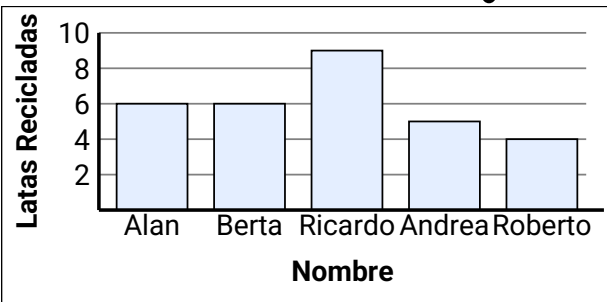
5. **A**

6. **F**

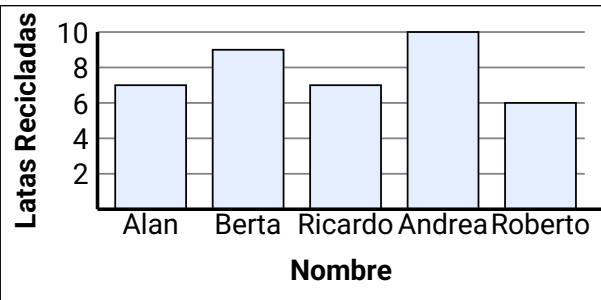
A.



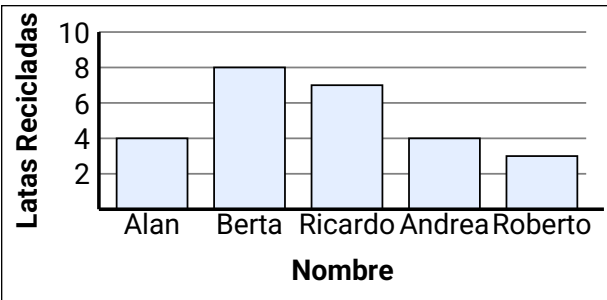
B.



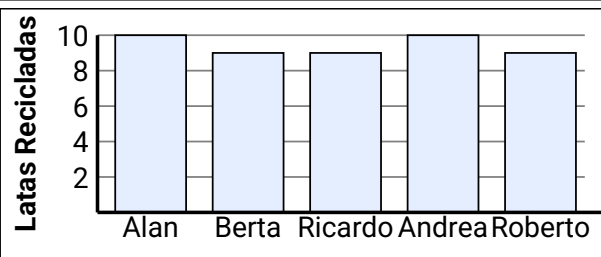
C.



D.



E.



F.

