

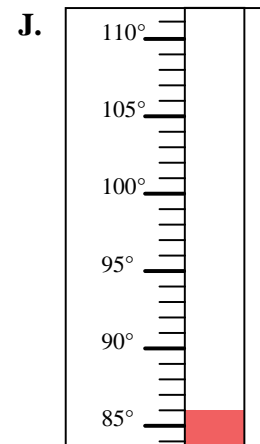
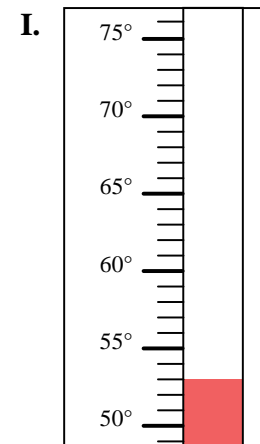
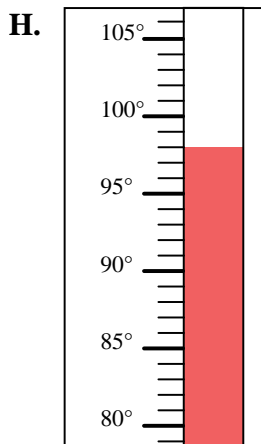
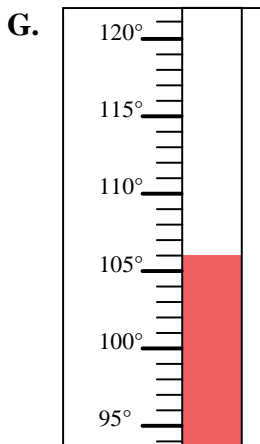
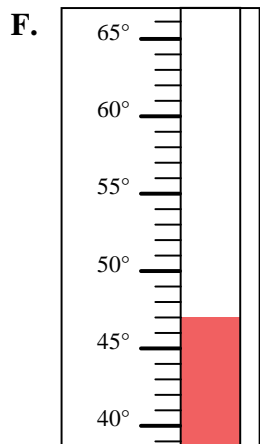
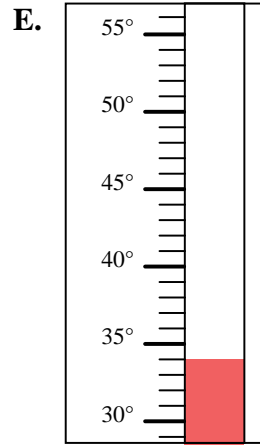
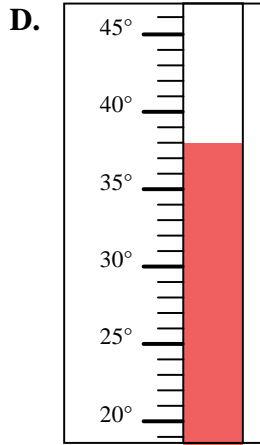
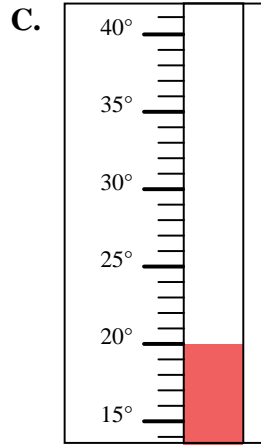
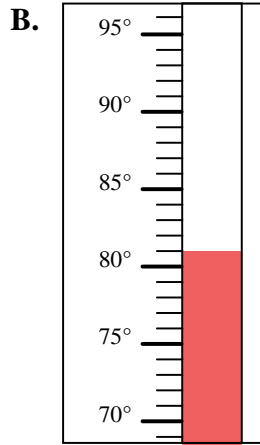
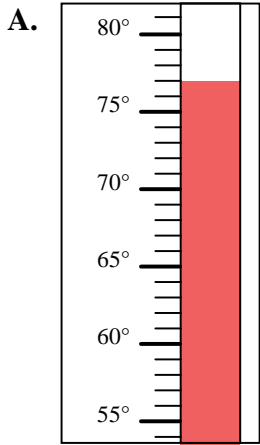


Determinar cuál letra responde mejor a cada pregunta.

Respuestas

- 1) ¿Qué termómetro representa mejor 53° de temperatura?
- 2) ¿Qué termómetro representa mejor 98° de temperatura?
- 3) ¿Qué termómetro representa mejor 77° de temperatura?
- 4) ¿Qué termómetro representa mejor 106° de temperatura?
- 5) ¿Qué termómetro representa mejor 47° de temperatura?
- 6) ¿Qué termómetro representa mejor 86° de temperatura?
- 7) ¿Qué termómetro representa mejor 34° de temperatura?
- 8) ¿Qué termómetro representa mejor 81° de temperatura?
- 9) ¿Qué termómetro representa mejor 20° de temperatura?
- 10) ¿Qué termómetro representa mejor 38° de temperatura?

1. _____
2. _____
3. _____
4. _____
5. _____
6. _____
7. _____
8. _____
9. _____
10. _____





Determinar cuál letra responde mejor a cada pregunta.

Respuestas

- 1) ¿Qué termómetro representa mejor 53° de temperatura?
- 2) ¿Qué termómetro representa mejor 98° de temperatura?
- 3) ¿Qué termómetro representa mejor 77° de temperatura?
- 4) ¿Qué termómetro representa mejor 106° de temperatura?
- 5) ¿Qué termómetro representa mejor 47° de temperatura?
- 6) ¿Qué termómetro representa mejor 86° de temperatura?
- 7) ¿Qué termómetro representa mejor 34° de temperatura?
- 8) ¿Qué termómetro representa mejor 81° de temperatura?
- 9) ¿Qué termómetro representa mejor 20° de temperatura?
- 10) ¿Qué termómetro representa mejor 38° de temperatura?

1. **I**
2. **H**
3. **A**
4. **G**
5. **F**
6. **J**
7. **E**
8. **B**
9. **C**
10. **D**

