

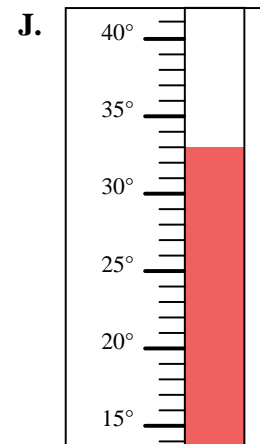
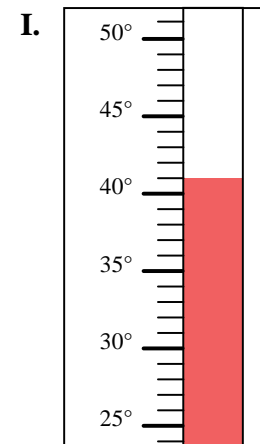
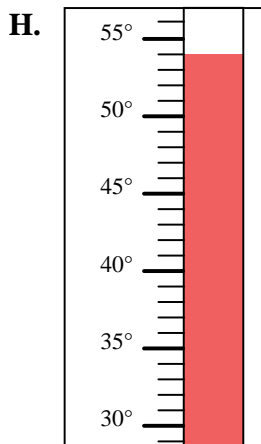
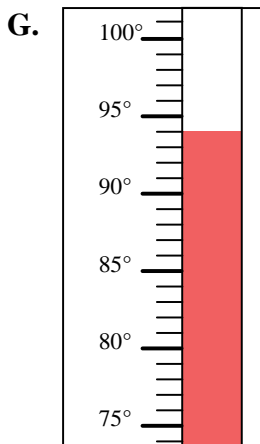
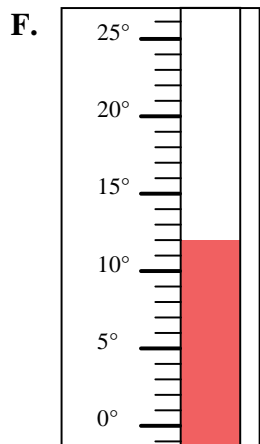
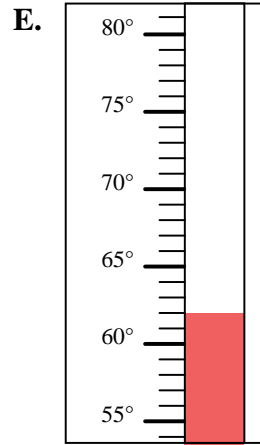
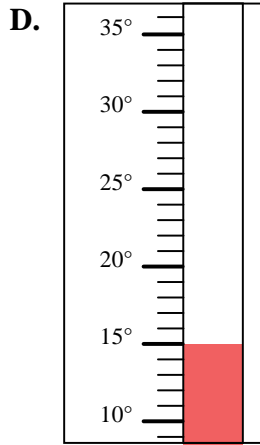
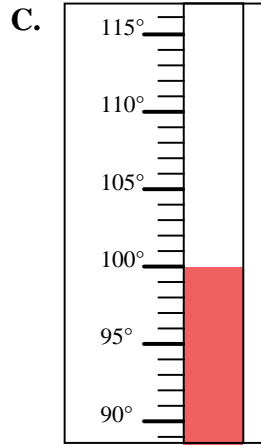
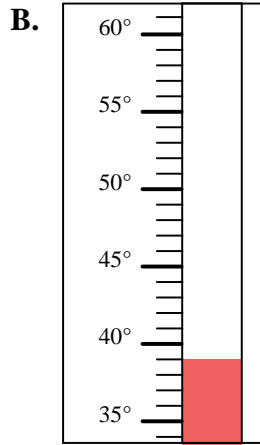
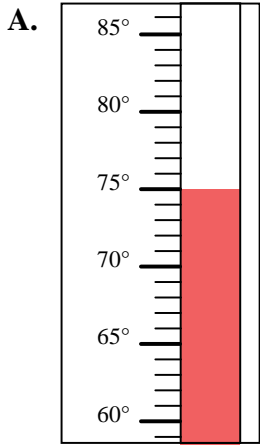


Determinar cuál letra responde mejor a cada pregunta.

Respuestas

- 1) ¿Qué termómetro representa mejor 39° de temperatura?
- 2) ¿Qué termómetro representa mejor 12° de temperatura?
- 3) ¿Qué termómetro representa mejor 75° de temperatura?
- 4) ¿Qué termómetro representa mejor 100° de temperatura?
- 5) ¿Qué termómetro representa mejor 33° de temperatura?
- 6) ¿Qué termómetro representa mejor 15° de temperatura?
- 7) ¿Qué termómetro representa mejor 94° de temperatura?
- 8) ¿Qué termómetro representa mejor 54° de temperatura?
- 9) ¿Qué termómetro representa mejor 62° de temperatura?
- 10) ¿Qué termómetro representa mejor 41° de temperatura?

1. _____
2. _____
3. _____
4. _____
5. _____
6. _____
7. _____
8. _____
9. _____
10. _____





Determinar cuál letra responde mejor a cada pregunta.

Respuestas

- 1) ¿Qué termómetro representa mejor 39° de temperatura?
- 2) ¿Qué termómetro representa mejor 12° de temperatura?
- 3) ¿Qué termómetro representa mejor 75° de temperatura?
- 4) ¿Qué termómetro representa mejor 100° de temperatura?
- 5) ¿Qué termómetro representa mejor 33° de temperatura?
- 6) ¿Qué termómetro representa mejor 15° de temperatura?
- 7) ¿Qué termómetro representa mejor 94° de temperatura?
- 8) ¿Qué termómetro representa mejor 54° de temperatura?
- 9) ¿Qué termómetro representa mejor 62° de temperatura?
- 10) ¿Qué termómetro representa mejor 41° de temperatura?

1. **B**
2. **F**
3. **A**
4. **C**
5. **J**
6. **D**
7. **G**
8. **H**
9. **E**
10. **I**

