

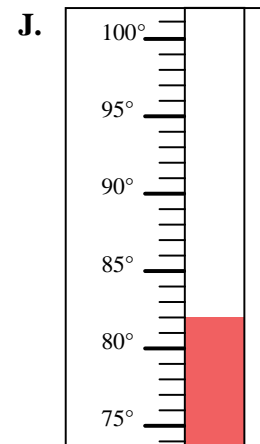
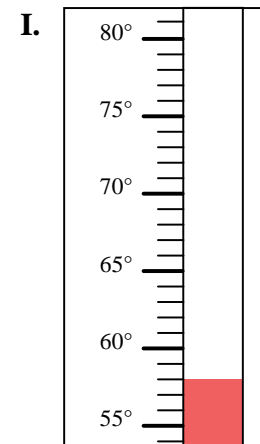
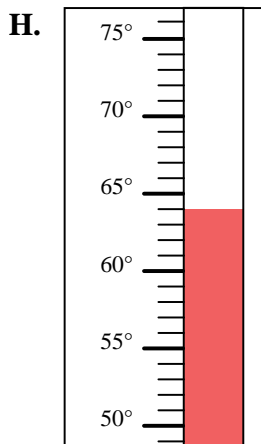
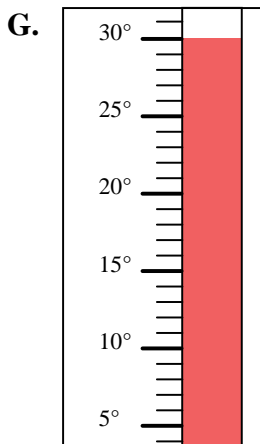
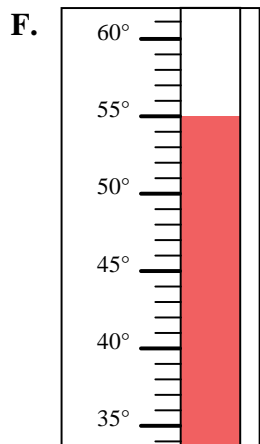
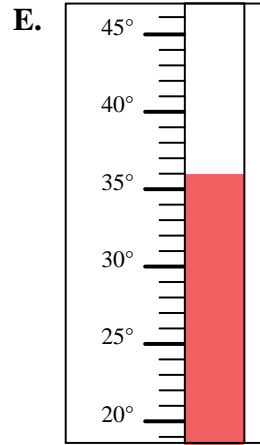
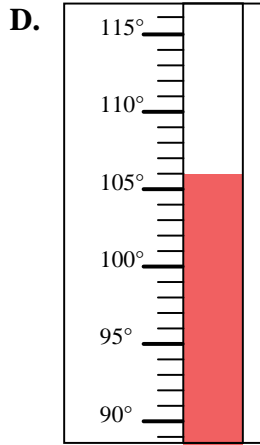
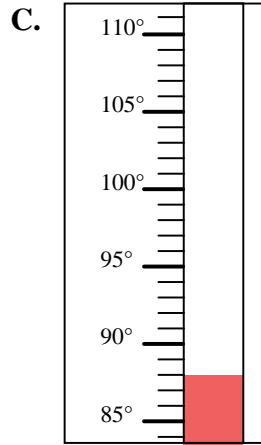
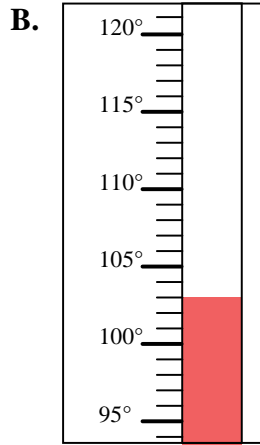
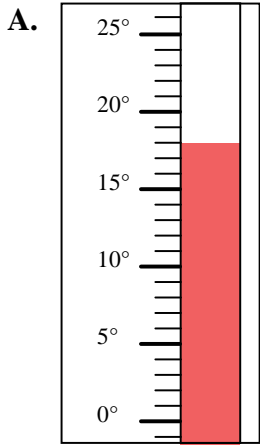


Determinar cuál letra responde mejor a cada pregunta.

Respuestas

- 1) ¿Qué termómetro representa mejor 82° de temperatura?
- 2) ¿Qué termómetro representa mejor 64° de temperatura?
- 3) ¿Qué termómetro representa mejor 58° de temperatura?
- 4) ¿Qué termómetro representa mejor 106° de temperatura?
- 5) ¿Qué termómetro representa mejor 88° de temperatura?
- 6) ¿Qué termómetro representa mejor 36° de temperatura?
- 7) ¿Qué termómetro representa mejor 18° de temperatura?
- 8) ¿Qué termómetro representa mejor 30° de temperatura?
- 9) ¿Qué termómetro representa mejor 55° de temperatura?
- 10) ¿Qué termómetro representa mejor 103° de temperatura?

1. _____
2. _____
3. _____
4. _____
5. _____
6. _____
7. _____
8. _____
9. _____
10. _____





Determinar cuál letra responde mejor a cada pregunta.

Respuestas

- 1) ¿Qué termómetro representa mejor 82° de temperatura?
- 2) ¿Qué termómetro representa mejor 64° de temperatura?
- 3) ¿Qué termómetro representa mejor 58° de temperatura?
- 4) ¿Qué termómetro representa mejor 106° de temperatura?
- 5) ¿Qué termómetro representa mejor 88° de temperatura?
- 6) ¿Qué termómetro representa mejor 36° de temperatura?
- 7) ¿Qué termómetro representa mejor 18° de temperatura?
- 8) ¿Qué termómetro representa mejor 30° de temperatura?
- 9) ¿Qué termómetro representa mejor 55° de temperatura?
- 10) ¿Qué termómetro representa mejor 103° de temperatura?

1. **J**
2. **H**
3. **I**
4. **D**
5. **C**
6. **E**
7. **A**
8. **G**
9. **F**
10. **B**

