

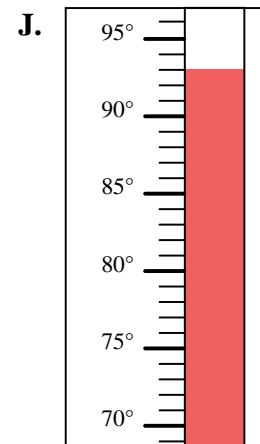
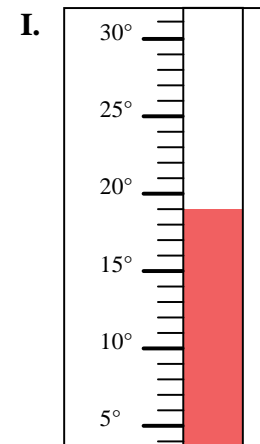
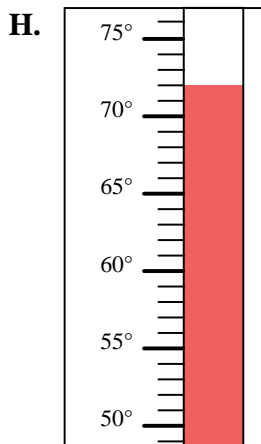
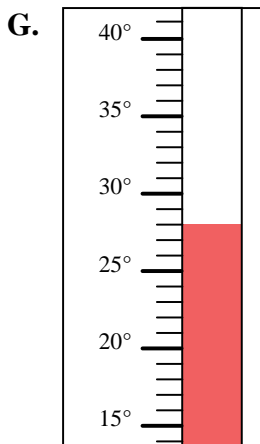
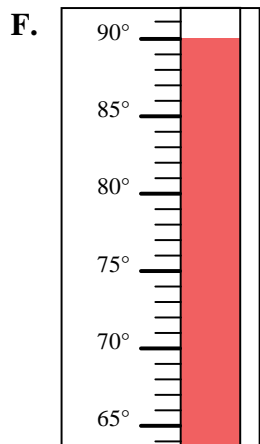
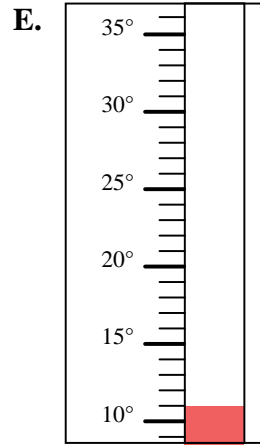
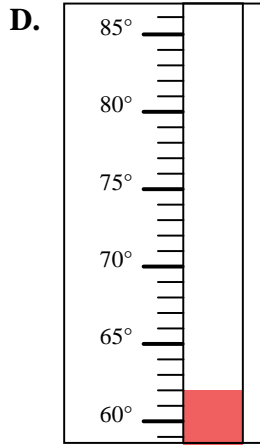
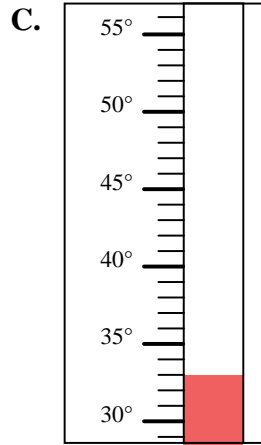
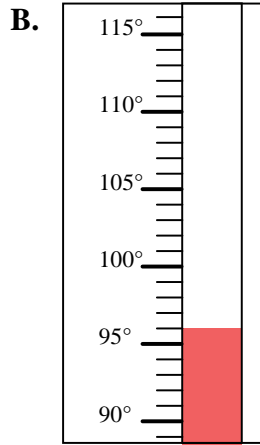
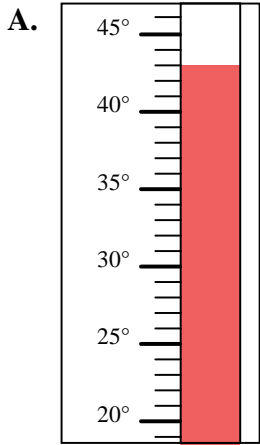


Determinar cuál letra responde mejor a cada pregunta.

Respuestas

- 1) ¿Qué termómetro representa mejor 62° de temperatura?
- 2) ¿Qué termómetro representa mejor 43° de temperatura?
- 3) ¿Qué termómetro representa mejor 72° de temperatura?
- 4) ¿Qué termómetro representa mejor 33° de temperatura?
- 5) ¿Qué termómetro representa mejor 11° de temperatura?
- 6) ¿Qué termómetro representa mejor 93° de temperatura?
- 7) ¿Qué termómetro representa mejor 96° de temperatura?
- 8) ¿Qué termómetro representa mejor 19° de temperatura?
- 9) ¿Qué termómetro representa mejor 28° de temperatura?
- 10) ¿Qué termómetro representa mejor 90° de temperatura?

1. _____
2. _____
3. _____
4. _____
5. _____
6. _____
7. _____
8. _____
9. _____
10. _____





Determinar cuál letra responde mejor a cada pregunta.

Respuestas

- 1) ¿Qué termómetro representa mejor 62° de temperatura?
- 2) ¿Qué termómetro representa mejor 43° de temperatura?
- 3) ¿Qué termómetro representa mejor 72° de temperatura?
- 4) ¿Qué termómetro representa mejor 33° de temperatura?
- 5) ¿Qué termómetro representa mejor 11° de temperatura?
- 6) ¿Qué termómetro representa mejor 93° de temperatura?
- 7) ¿Qué termómetro representa mejor 96° de temperatura?
- 8) ¿Qué termómetro representa mejor 19° de temperatura?
- 9) ¿Qué termómetro representa mejor 28° de temperatura?
- 10) ¿Qué termómetro representa mejor 90° de temperatura?

1. **D**
2. **A**
3. **H**
4. **C**
5. **E**
6. **J**
7. **B**
8. **I**
9. **G**
10. **F**

