

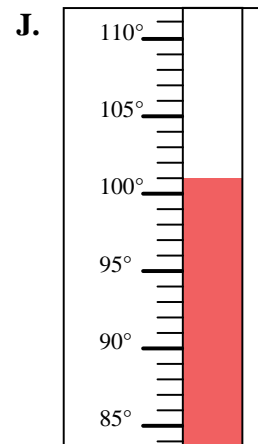
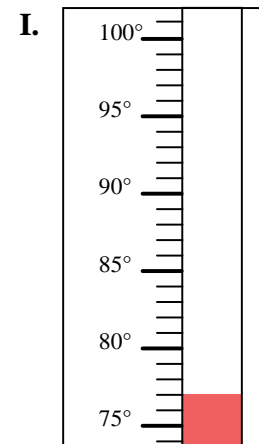
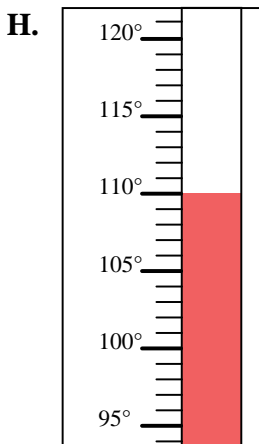
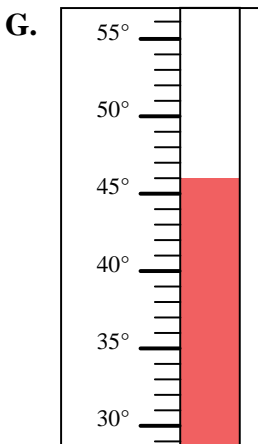
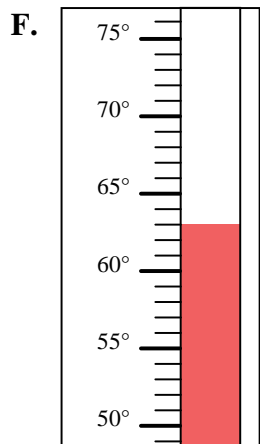
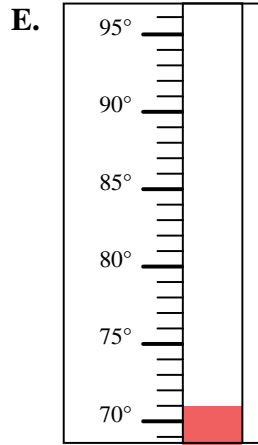
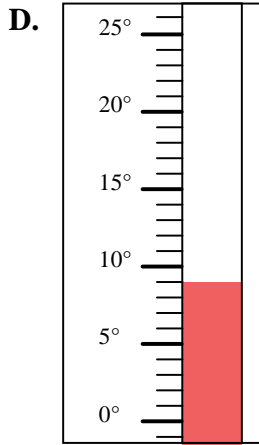
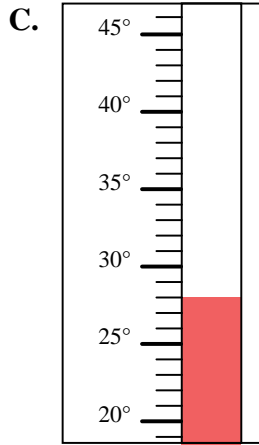
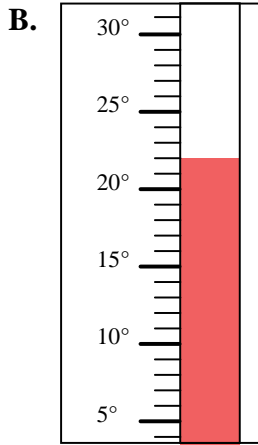
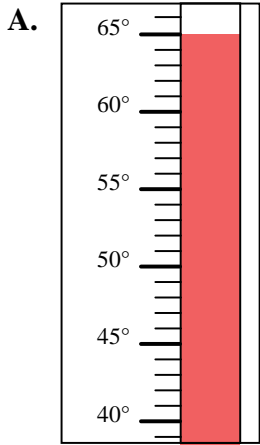


Determinar cuál letra responde mejor a cada pregunta.

Respuestas

- 1) ¿Qué termómetro representa mejor 63° de temperatura?
- 2) ¿Qué termómetro representa mejor 46° de temperatura?
- 3) ¿Qué termómetro representa mejor 65° de temperatura?
- 4) ¿Qué termómetro representa mejor 110° de temperatura?
- 5) ¿Qué termómetro representa mejor 77° de temperatura?
- 6) ¿Qué termómetro representa mejor 22° de temperatura?
- 7) ¿Qué termómetro representa mejor 71° de temperatura?
- 8) ¿Qué termómetro representa mejor 28° de temperatura?
- 9) ¿Qué termómetro representa mejor 9° de temperatura?
- 10) ¿Qué termómetro representa mejor 101° de temperatura?

1. \_\_\_\_\_
2. \_\_\_\_\_
3. \_\_\_\_\_
4. \_\_\_\_\_
5. \_\_\_\_\_
6. \_\_\_\_\_
7. \_\_\_\_\_
8. \_\_\_\_\_
9. \_\_\_\_\_
10. \_\_\_\_\_





Determinar cuál letra responde mejor a cada pregunta.

**Respuestas**

- 1) ¿Qué termómetro representa mejor 63° de temperatura?
- 2) ¿Qué termómetro representa mejor 46° de temperatura?
- 3) ¿Qué termómetro representa mejor 65° de temperatura?
- 4) ¿Qué termómetro representa mejor 110° de temperatura?
- 5) ¿Qué termómetro representa mejor 77° de temperatura?
- 6) ¿Qué termómetro representa mejor 22° de temperatura?
- 7) ¿Qué termómetro representa mejor 71° de temperatura?
- 8) ¿Qué termómetro representa mejor 28° de temperatura?
- 9) ¿Qué termómetro representa mejor 9° de temperatura?
- 10) ¿Qué termómetro representa mejor 101° de temperatura?

1.     **F**
2.     **G**
3.     **A**
4.     **H**
5.     **I**
6.     **B**
7.     **E**
8.     **C**
9.     **D**
10.     **J**

