

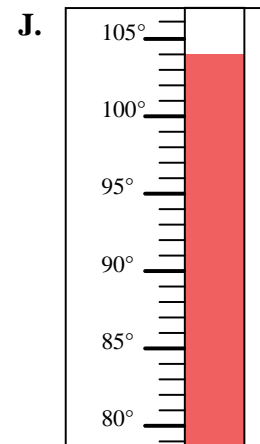
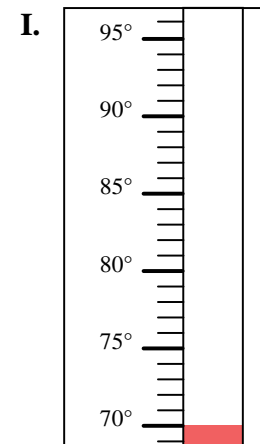
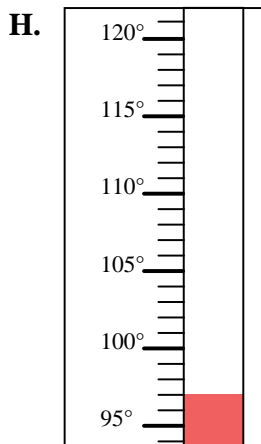
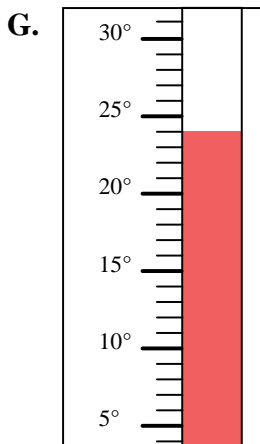
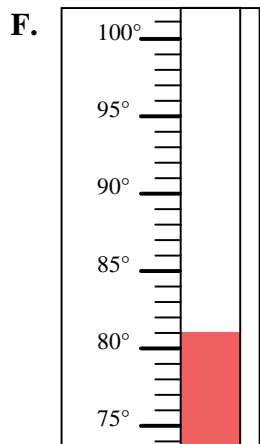
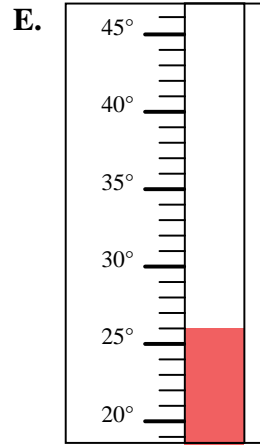
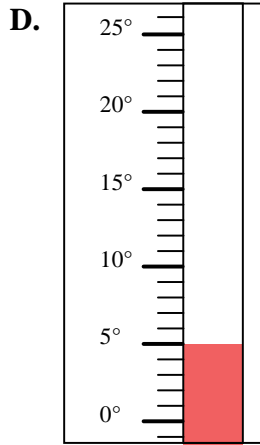
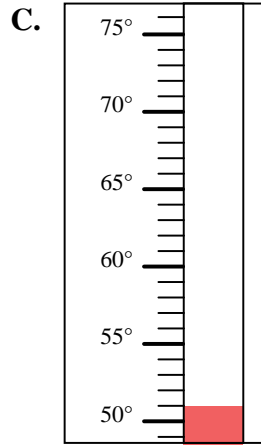
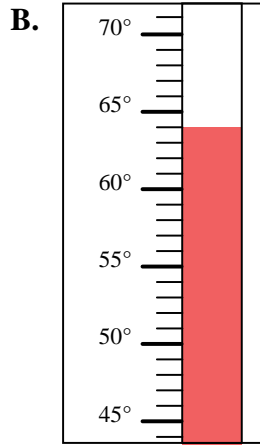
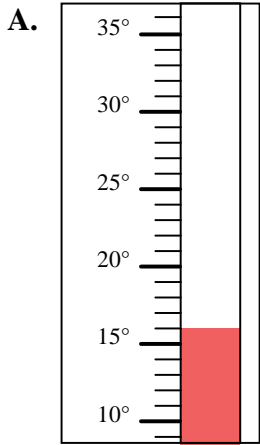


Determinar cuál letra responde mejor a cada pregunta.

Respuestas

- 1) ¿Qué termómetro representa mejor 70° de temperatura?
- 2) ¿Qué termómetro representa mejor 51° de temperatura?
- 3) ¿Qué termómetro representa mejor 64° de temperatura?
- 4) ¿Qué termómetro representa mejor 26° de temperatura?
- 5) ¿Qué termómetro representa mejor 104° de temperatura?
- 6) ¿Qué termómetro representa mejor 97° de temperatura?
- 7) ¿Qué termómetro representa mejor 5° de temperatura?
- 8) ¿Qué termómetro representa mejor 81° de temperatura?
- 9) ¿Qué termómetro representa mejor 16° de temperatura?
- 10) ¿Qué termómetro representa mejor 24° de temperatura?

1. _____
2. _____
3. _____
4. _____
5. _____
6. _____
7. _____
8. _____
9. _____
10. _____





Determinar cuál letra responde mejor a cada pregunta.

Respuestas

- 1) ¿Qué termómetro representa mejor 70° de temperatura?
- 2) ¿Qué termómetro representa mejor 51° de temperatura?
- 3) ¿Qué termómetro representa mejor 64° de temperatura?
- 4) ¿Qué termómetro representa mejor 26° de temperatura?
- 5) ¿Qué termómetro representa mejor 104° de temperatura?
- 6) ¿Qué termómetro representa mejor 97° de temperatura?
- 7) ¿Qué termómetro representa mejor 5° de temperatura?
- 8) ¿Qué termómetro representa mejor 81° de temperatura?
- 9) ¿Qué termómetro representa mejor 16° de temperatura?
- 10) ¿Qué termómetro representa mejor 24° de temperatura?

1. **I**

2. **C**

3. **B**

4. **E**

5. **J**

6. **H**

7. **D**

8. **F**

9. **A**

10. **G**

