

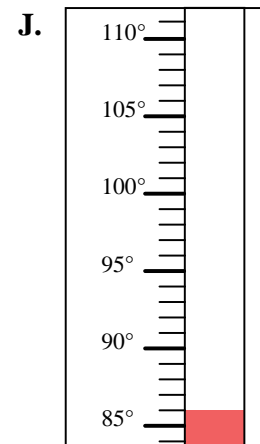
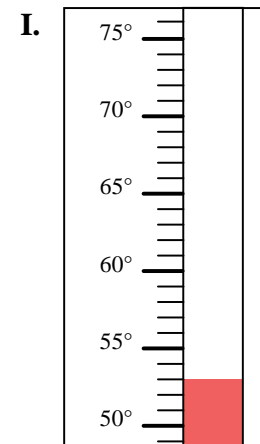
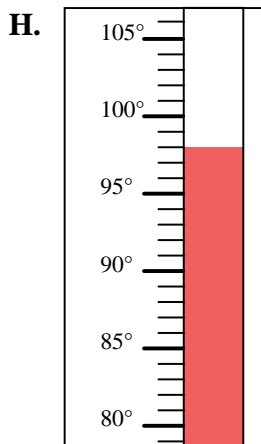
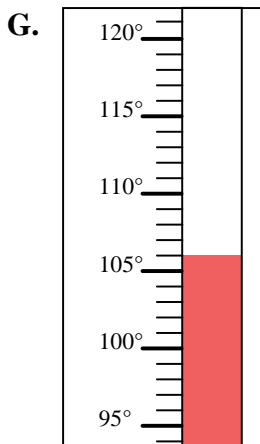
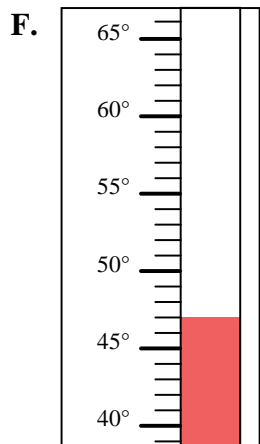
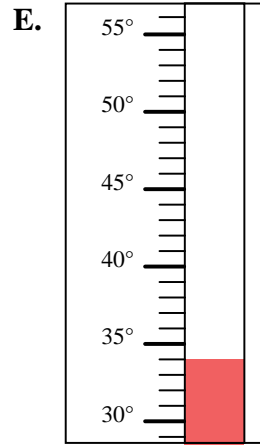
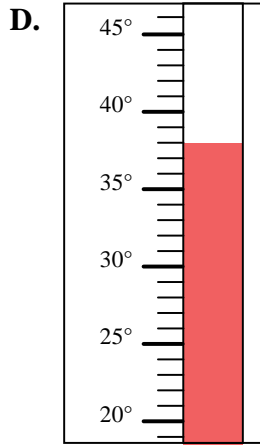
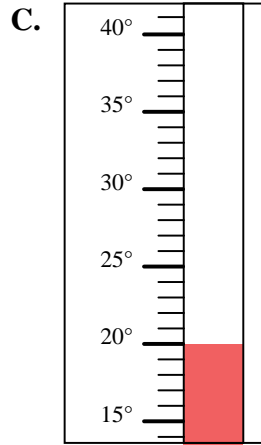
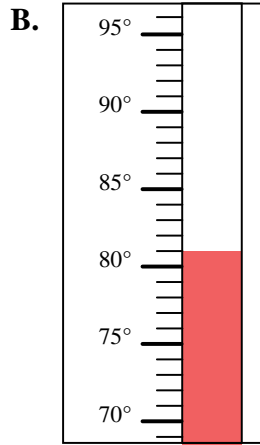
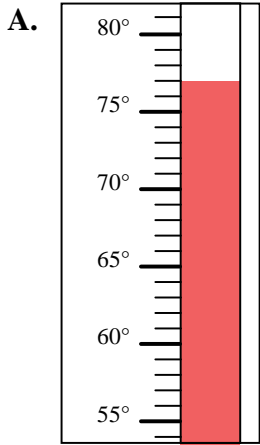


Determinar cuál letra responde mejor a cada pregunta.

Respuestas

- 1) ¿Qué termómetro representa mejor 53° de temperatura?
- 2) ¿Qué termómetro representa mejor 98° de temperatura?
- 3) ¿Qué termómetro representa mejor 77° de temperatura?
- 4) ¿Qué termómetro representa mejor 106° de temperatura?
- 5) ¿Qué termómetro representa mejor 47° de temperatura?
- 6) ¿Qué termómetro representa mejor 86° de temperatura?
- 7) ¿Qué termómetro representa mejor 34° de temperatura?
- 8) ¿Qué termómetro representa mejor 81° de temperatura?
- 9) ¿Qué termómetro representa mejor 20° de temperatura?
- 10) ¿Qué termómetro representa mejor 38° de temperatura?

1. \_\_\_\_\_
2. \_\_\_\_\_
3. \_\_\_\_\_
4. \_\_\_\_\_
5. \_\_\_\_\_
6. \_\_\_\_\_
7. \_\_\_\_\_
8. \_\_\_\_\_
9. \_\_\_\_\_
10. \_\_\_\_\_



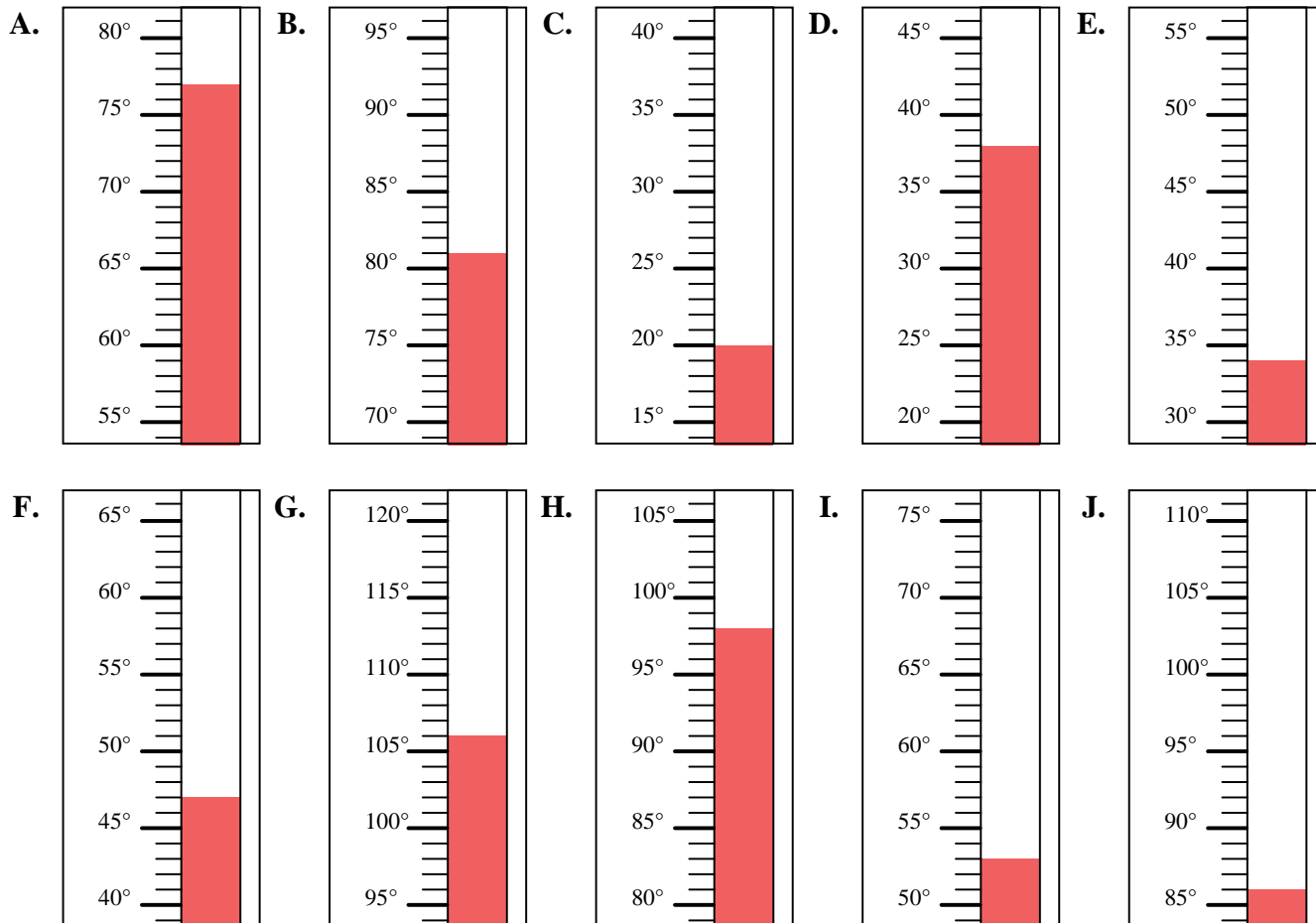


Determinar cuál letra responde mejor a cada pregunta.

**Respuestas**

- 1) ¿Qué termómetro representa mejor 53° de temperatura?
- 2) ¿Qué termómetro representa mejor 98° de temperatura?
- 3) ¿Qué termómetro representa mejor 77° de temperatura?
- 4) ¿Qué termómetro representa mejor 106° de temperatura?
- 5) ¿Qué termómetro representa mejor 47° de temperatura?
- 6) ¿Qué termómetro representa mejor 86° de temperatura?
- 7) ¿Qué termómetro representa mejor 34° de temperatura?
- 8) ¿Qué termómetro representa mejor 81° de temperatura?
- 9) ¿Qué termómetro representa mejor 20° de temperatura?
- 10) ¿Qué termómetro representa mejor 38° de temperatura?

1.     **I**
2.     **H**
3.     **A**
4.     **G**
5.     **F**
6.     **J**
7.     **E**
8.     **B**
9.     **C**
10.     **D**



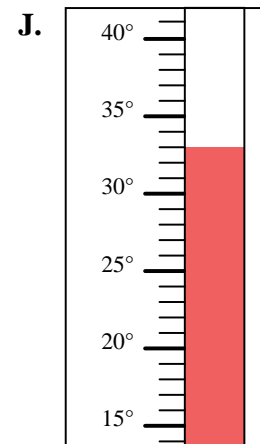
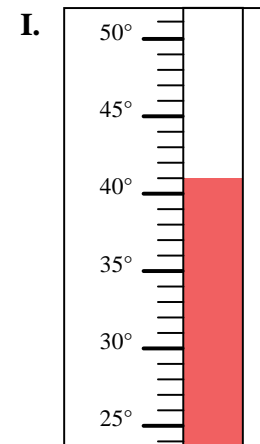
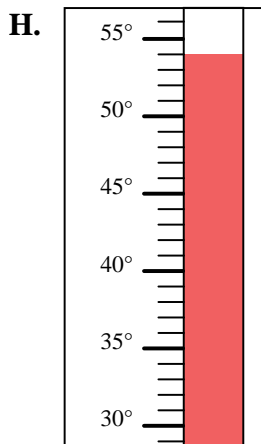
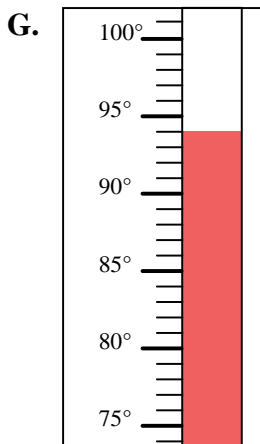
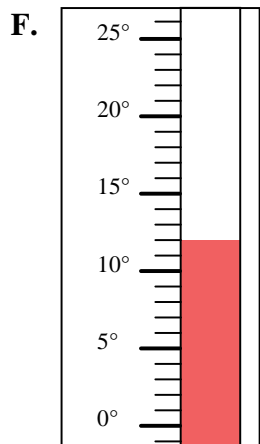
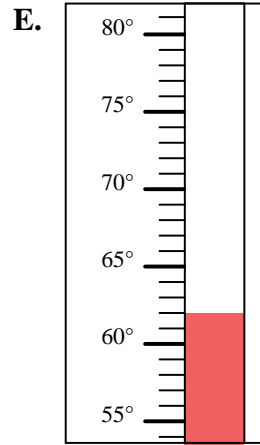
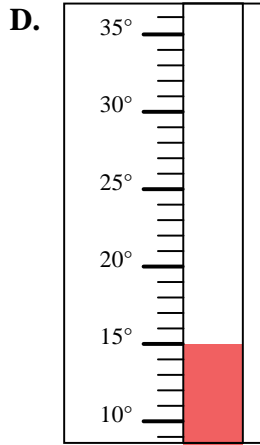
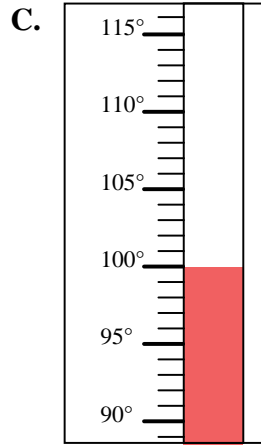
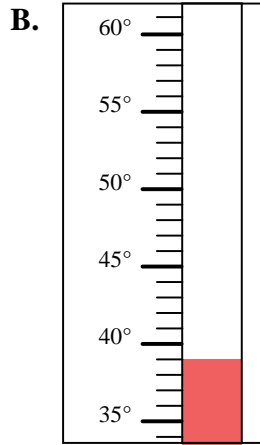
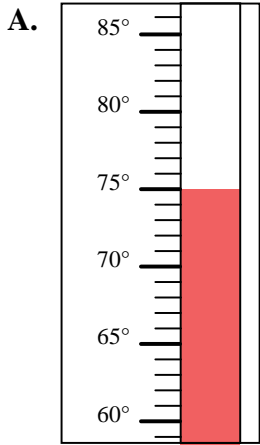


Determinar cuál letra responde mejor a cada pregunta.

Respuestas

- 1) ¿Qué termómetro representa mejor 39° de temperatura?
- 2) ¿Qué termómetro representa mejor 12° de temperatura?
- 3) ¿Qué termómetro representa mejor 75° de temperatura?
- 4) ¿Qué termómetro representa mejor 100° de temperatura?
- 5) ¿Qué termómetro representa mejor 33° de temperatura?
- 6) ¿Qué termómetro representa mejor 15° de temperatura?
- 7) ¿Qué termómetro representa mejor 94° de temperatura?
- 8) ¿Qué termómetro representa mejor 54° de temperatura?
- 9) ¿Qué termómetro representa mejor 62° de temperatura?
- 10) ¿Qué termómetro representa mejor 41° de temperatura?

1. \_\_\_\_\_
2. \_\_\_\_\_
3. \_\_\_\_\_
4. \_\_\_\_\_
5. \_\_\_\_\_
6. \_\_\_\_\_
7. \_\_\_\_\_
8. \_\_\_\_\_
9. \_\_\_\_\_
10. \_\_\_\_\_



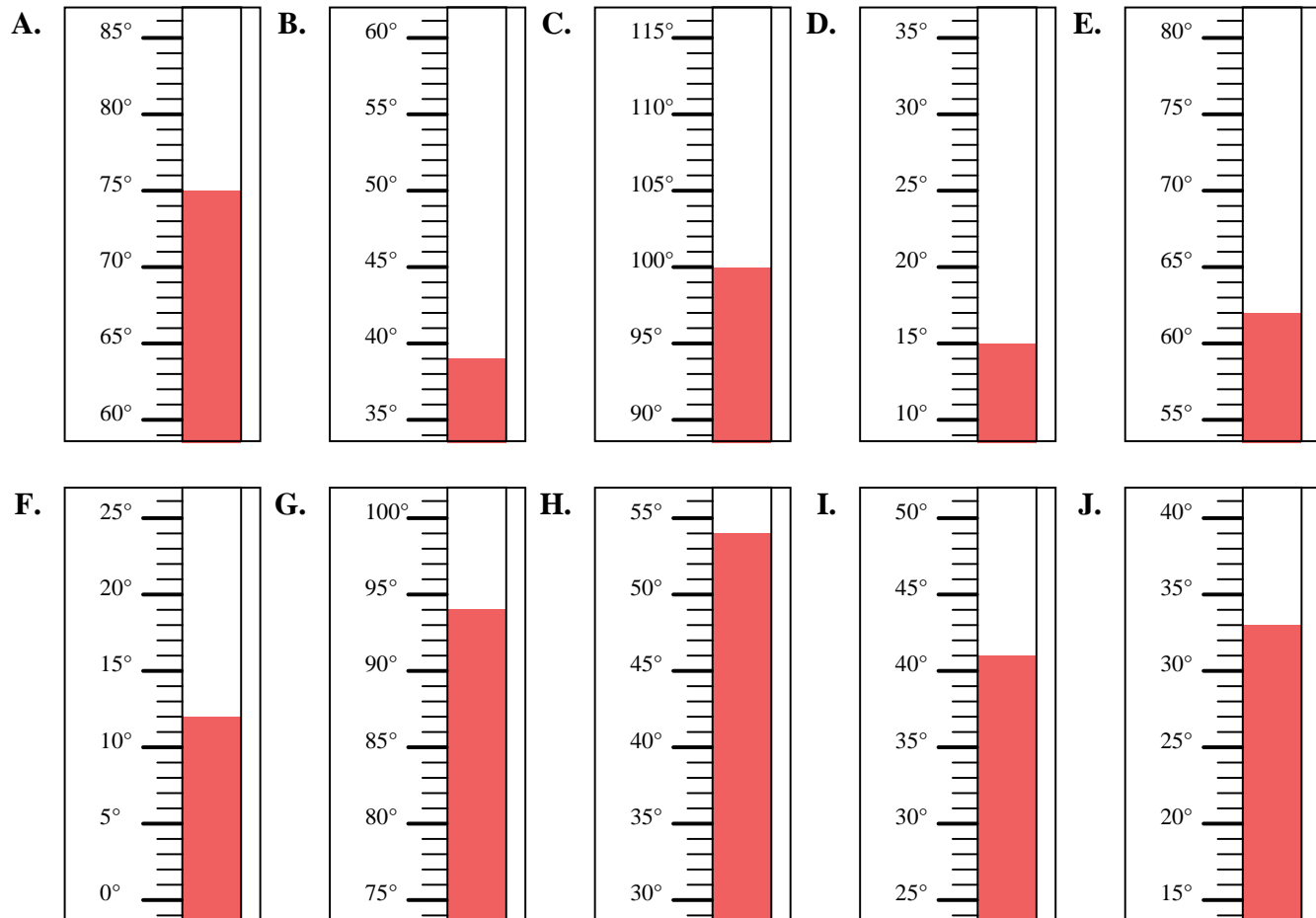


Determinar cuál letra responde mejor a cada pregunta.

**Respuestas**

- 1) ¿Qué termómetro representa mejor 39° de temperatura?
- 2) ¿Qué termómetro representa mejor 12° de temperatura?
- 3) ¿Qué termómetro representa mejor 75° de temperatura?
- 4) ¿Qué termómetro representa mejor 100° de temperatura?
- 5) ¿Qué termómetro representa mejor 33° de temperatura?
- 6) ¿Qué termómetro representa mejor 15° de temperatura?
- 7) ¿Qué termómetro representa mejor 94° de temperatura?
- 8) ¿Qué termómetro representa mejor 54° de temperatura?
- 9) ¿Qué termómetro representa mejor 62° de temperatura?
- 10) ¿Qué termómetro representa mejor 41° de temperatura?

1.     **B**
2.     **F**
3.     **A**
4.     **C**
5.     **J**
6.     **D**
7.     **G**
8.     **H**
9.     **E**
10.     **I**



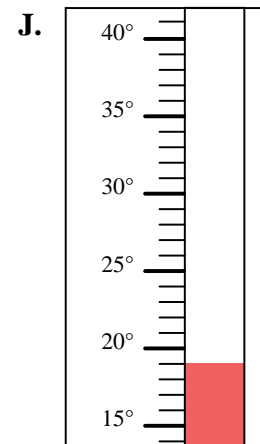
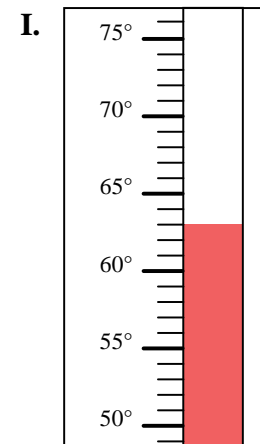
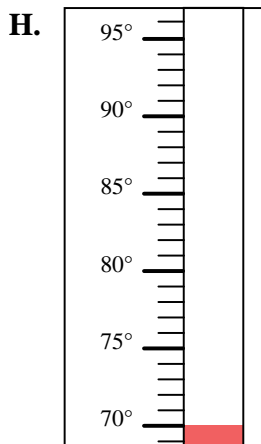
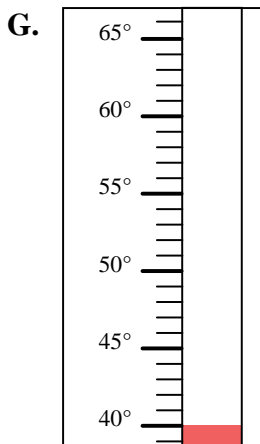
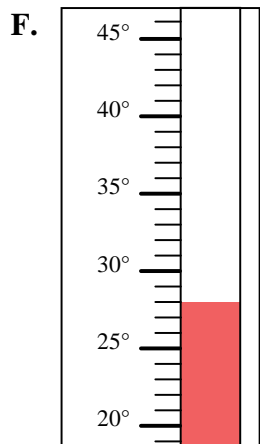
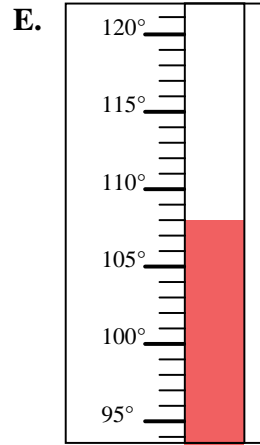
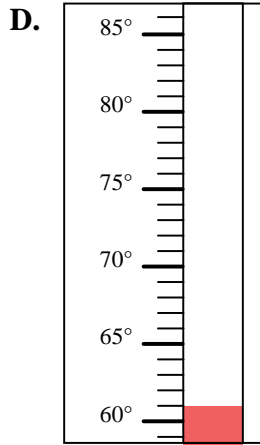
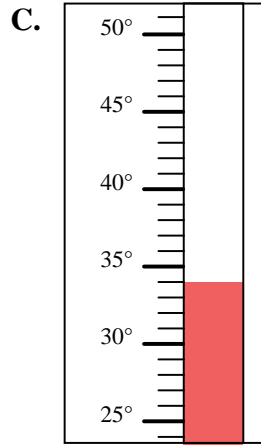
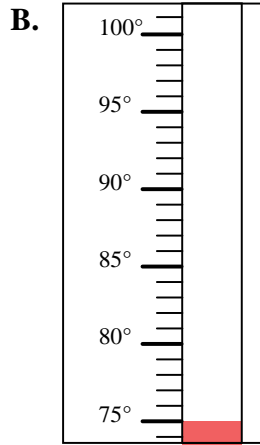
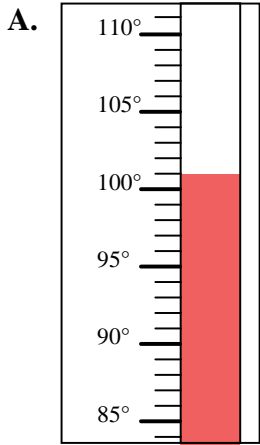


Determinar cuál letra responde mejor a cada pregunta.

Respuestas

- 1) ¿Qué termómetro representa mejor 101° de temperatura?
- 2) ¿Qué termómetro representa mejor 34° de temperatura?
- 3) ¿Qué termómetro representa mejor 63° de temperatura?
- 4) ¿Qué termómetro representa mejor 108° de temperatura?
- 5) ¿Qué termómetro representa mejor 61° de temperatura?
- 6) ¿Qué termómetro representa mejor 75° de temperatura?
- 7) ¿Qué termómetro representa mejor 40° de temperatura?
- 8) ¿Qué termómetro representa mejor 28° de temperatura?
- 9) ¿Qué termómetro representa mejor 70° de temperatura?
- 10) ¿Qué termómetro representa mejor 19° de temperatura?

1. \_\_\_\_\_
2. \_\_\_\_\_
3. \_\_\_\_\_
4. \_\_\_\_\_
5. \_\_\_\_\_
6. \_\_\_\_\_
7. \_\_\_\_\_
8. \_\_\_\_\_
9. \_\_\_\_\_
10. \_\_\_\_\_



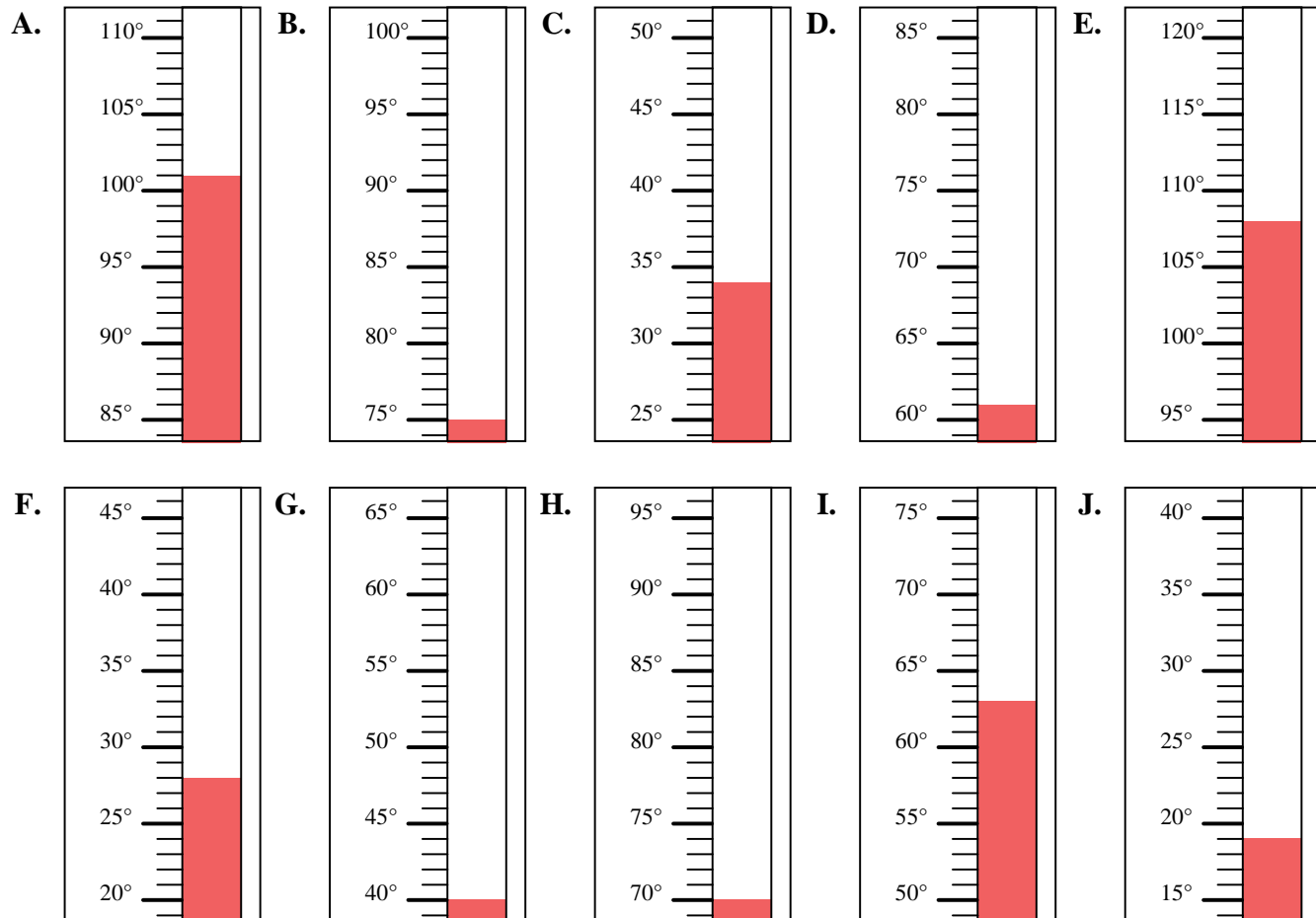


Determinar cuál letra responde mejor a cada pregunta.

**Respuestas**

- 1) ¿Qué termómetro representa mejor  $101^\circ$  de temperatura?
- 2) ¿Qué termómetro representa mejor  $34^\circ$  de temperatura?
- 3) ¿Qué termómetro representa mejor  $63^\circ$  de temperatura?
- 4) ¿Qué termómetro representa mejor  $108^\circ$  de temperatura?
- 5) ¿Qué termómetro representa mejor  $61^\circ$  de temperatura?
- 6) ¿Qué termómetro representa mejor  $75^\circ$  de temperatura?
- 7) ¿Qué termómetro representa mejor  $40^\circ$  de temperatura?
- 8) ¿Qué termómetro representa mejor  $28^\circ$  de temperatura?
- 9) ¿Qué termómetro representa mejor  $70^\circ$  de temperatura?
- 10) ¿Qué termómetro representa mejor  $19^\circ$  de temperatura?

1.     **A**
2.     **C**
3.     **I**
4.     **E**
5.     **D**
6.     **B**
7.     **G**
8.     **F**
9.     **H**
10.     **J**



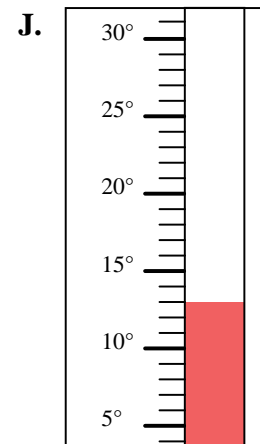
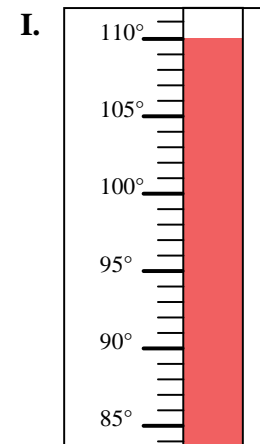
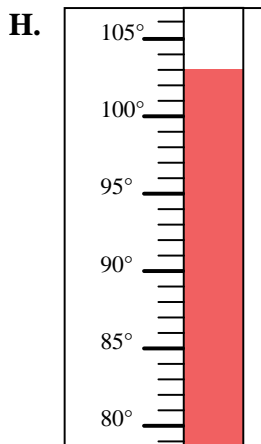
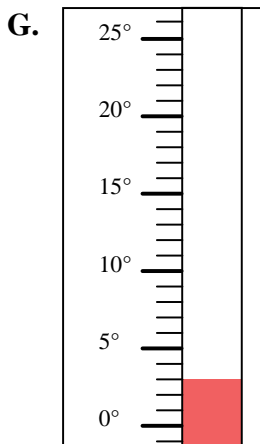
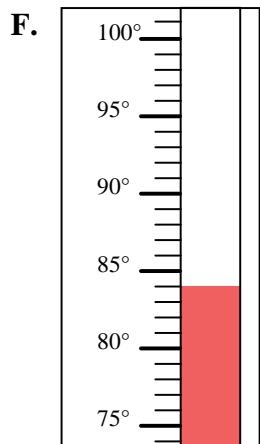
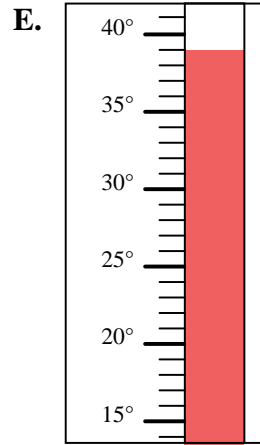
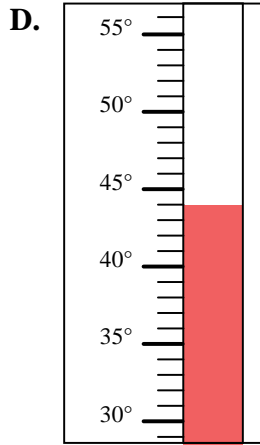
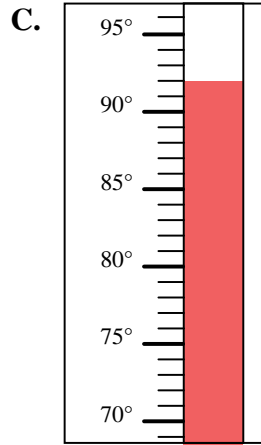
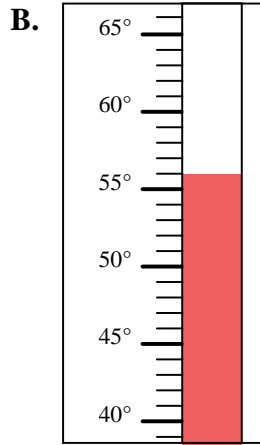
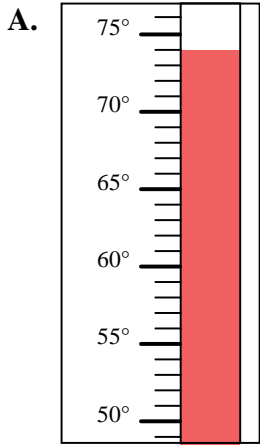


Determinar cuál letra responde mejor a cada pregunta.

Respuestas

- 1) ¿Qué termómetro representa mejor  $92^\circ$  de temperatura?
- 2) ¿Qué termómetro representa mejor  $84^\circ$  de temperatura?
- 3) ¿Qué termómetro representa mejor  $56^\circ$  de temperatura?
- 4) ¿Qué termómetro representa mejor  $110^\circ$  de temperatura?
- 5) ¿Qué termómetro representa mejor  $13^\circ$  de temperatura?
- 6) ¿Qué termómetro representa mejor  $39^\circ$  de temperatura?
- 7) ¿Qué termómetro representa mejor  $3^\circ$  de temperatura?
- 8) ¿Qué termómetro representa mejor  $44^\circ$  de temperatura?
- 9) ¿Qué termómetro representa mejor  $74^\circ$  de temperatura?
- 10) ¿Qué termómetro representa mejor  $103^\circ$  de temperatura?

1. \_\_\_\_\_
2. \_\_\_\_\_
3. \_\_\_\_\_
4. \_\_\_\_\_
5. \_\_\_\_\_
6. \_\_\_\_\_
7. \_\_\_\_\_
8. \_\_\_\_\_
9. \_\_\_\_\_
10. \_\_\_\_\_



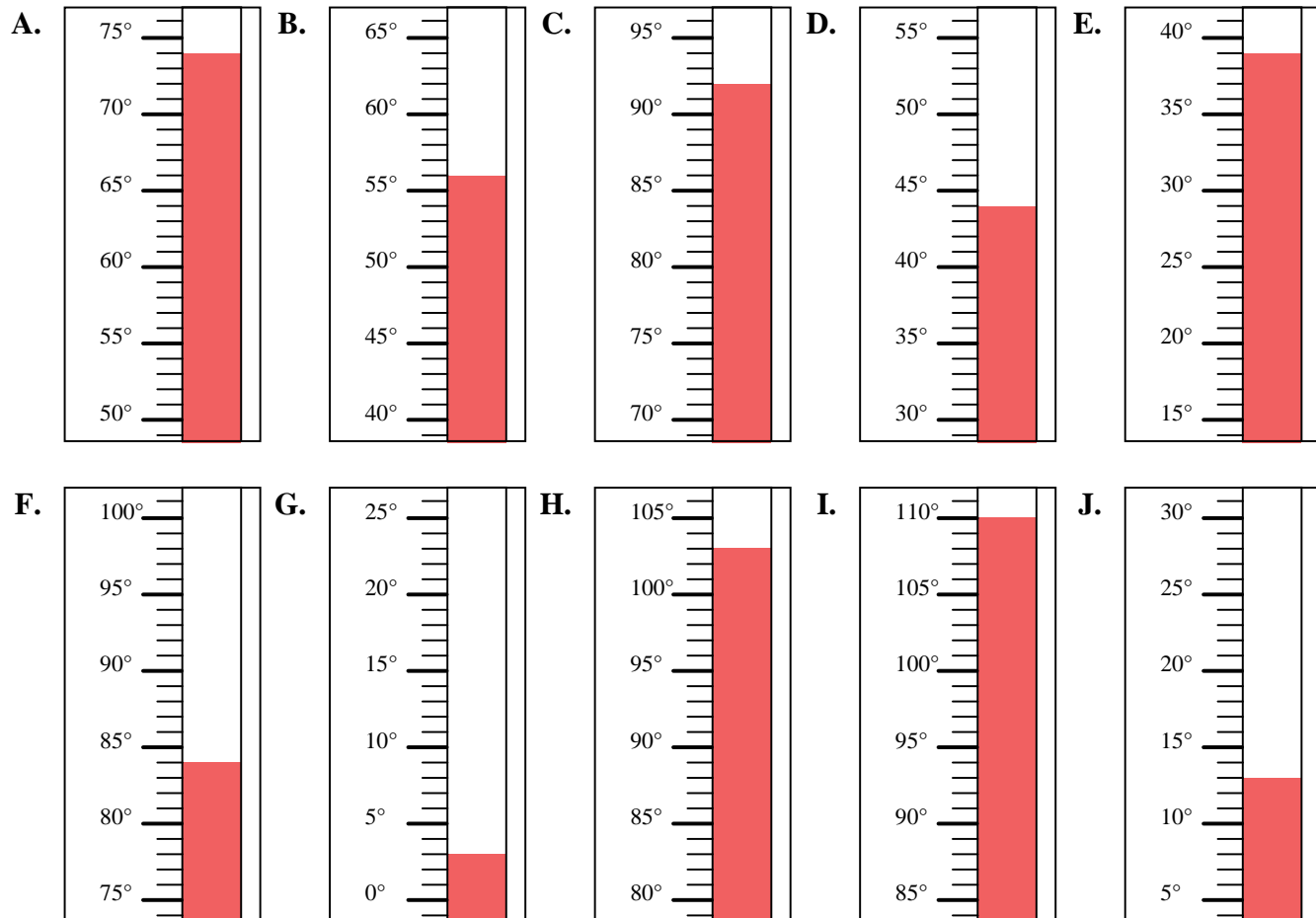


Determinar cuál letra responde mejor a cada pregunta.

**Respuestas**

- 1) ¿Qué termómetro representa mejor  $92^\circ$  de temperatura?
- 2) ¿Qué termómetro representa mejor  $84^\circ$  de temperatura?
- 3) ¿Qué termómetro representa mejor  $56^\circ$  de temperatura?
- 4) ¿Qué termómetro representa mejor  $110^\circ$  de temperatura?
- 5) ¿Qué termómetro representa mejor  $13^\circ$  de temperatura?
- 6) ¿Qué termómetro representa mejor  $39^\circ$  de temperatura?
- 7) ¿Qué termómetro representa mejor  $3^\circ$  de temperatura?
- 8) ¿Qué termómetro representa mejor  $44^\circ$  de temperatura?
- 9) ¿Qué termómetro representa mejor  $74^\circ$  de temperatura?
- 10) ¿Qué termómetro representa mejor  $103^\circ$  de temperatura?

1.     **C**
2.     **F**
3.     **B**
4.     **I**
5.     **J**
6.     **E**
7.     **G**
8.     **D**
9.     **A**
10.     **H**





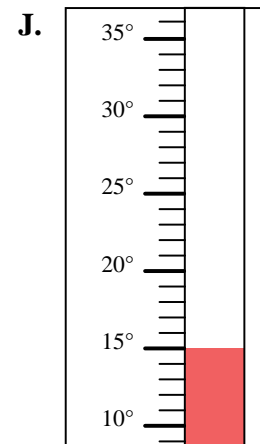
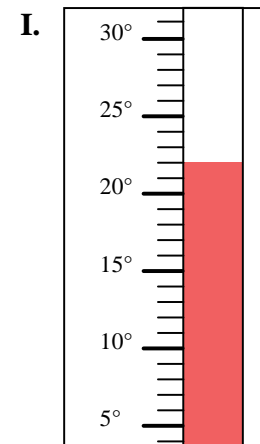
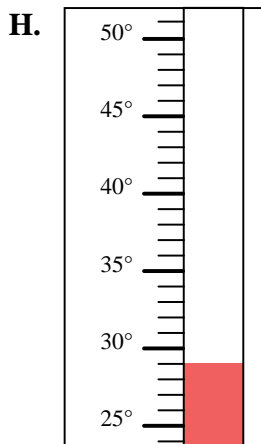
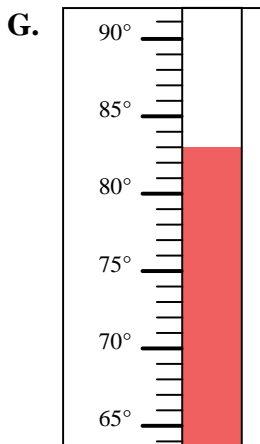
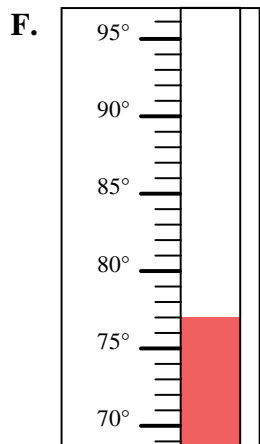
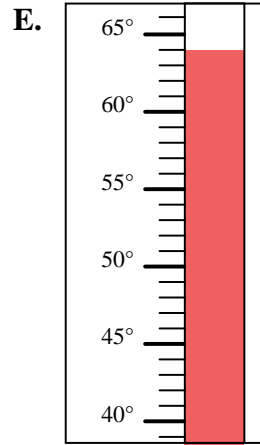
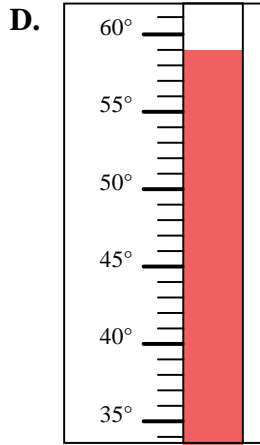
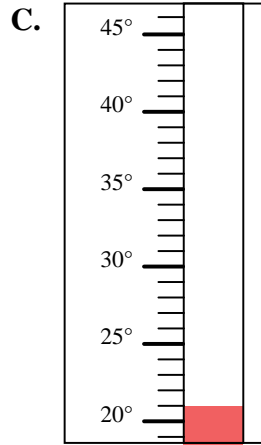
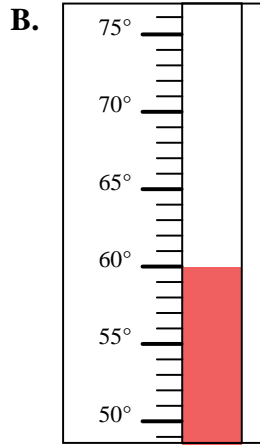
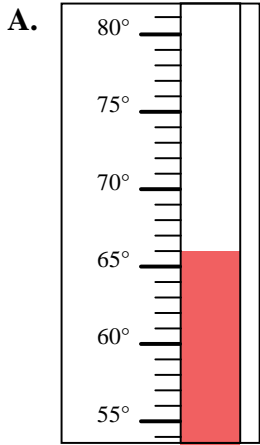


Determinar cuál letra responde mejor a cada pregunta.

Respuestas

- 1) ¿Qué termómetro representa mejor 22° de temperatura?
- 2) ¿Qué termómetro representa mejor 66° de temperatura?
- 3) ¿Qué termómetro representa mejor 15° de temperatura?
- 4) ¿Qué termómetro representa mejor 83° de temperatura?
- 5) ¿Qué termómetro representa mejor 21° de temperatura?
- 6) ¿Qué termómetro representa mejor 59° de temperatura?
- 7) ¿Qué termómetro representa mejor 60° de temperatura?
- 8) ¿Qué termómetro representa mejor 77° de temperatura?
- 9) ¿Qué termómetro representa mejor 64° de temperatura?
- 10) ¿Qué termómetro representa mejor 29° de temperatura?

1. \_\_\_\_\_
2. \_\_\_\_\_
3. \_\_\_\_\_
4. \_\_\_\_\_
5. \_\_\_\_\_
6. \_\_\_\_\_
7. \_\_\_\_\_
8. \_\_\_\_\_
9. \_\_\_\_\_
10. \_\_\_\_\_



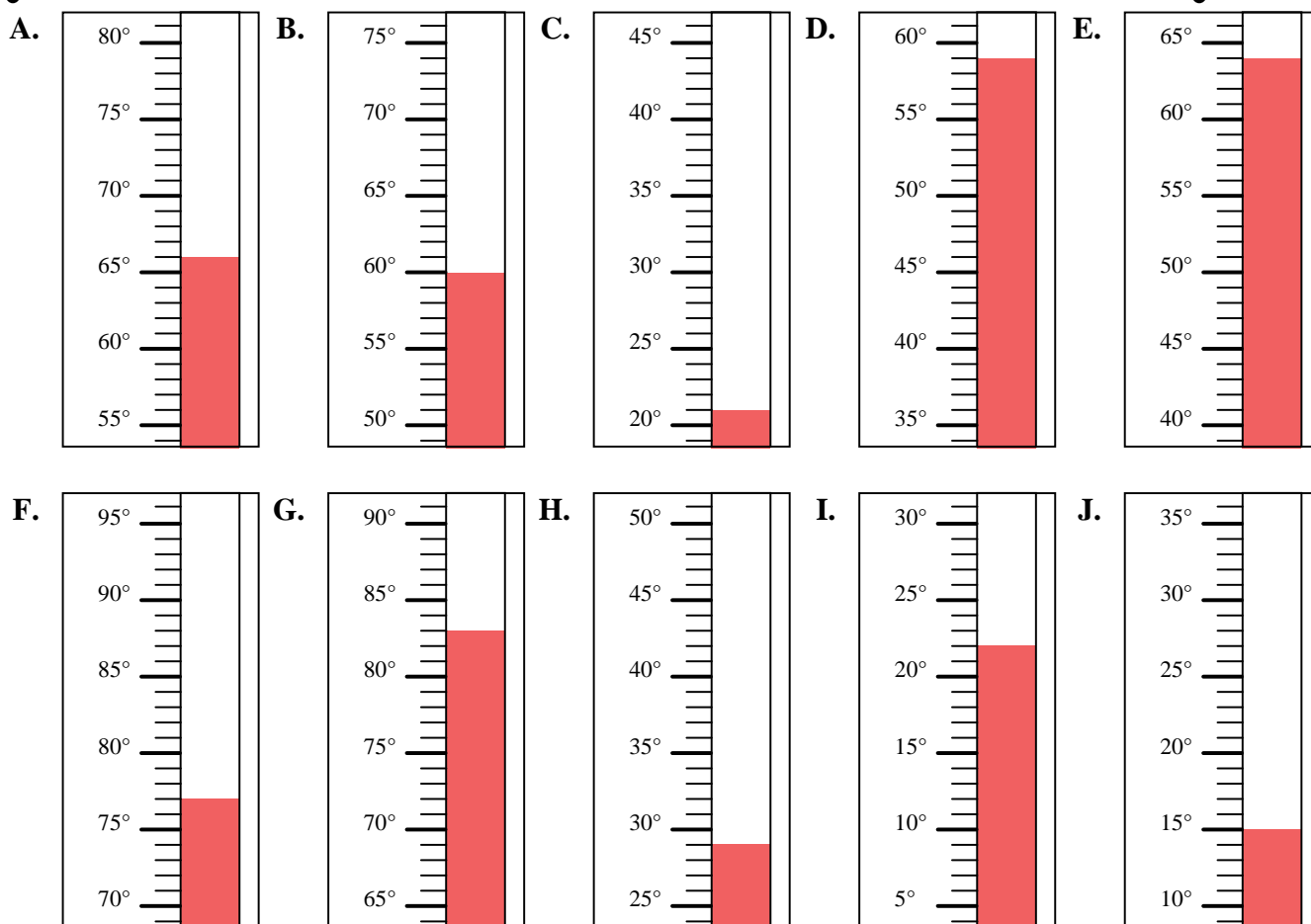


Determinar cuál letra responde mejor a cada pregunta.

**Respuestas**

- 1) ¿Qué termómetro representa mejor 22° de temperatura?
- 2) ¿Qué termómetro representa mejor 66° de temperatura?
- 3) ¿Qué termómetro representa mejor 15° de temperatura?
- 4) ¿Qué termómetro representa mejor 83° de temperatura?
- 5) ¿Qué termómetro representa mejor 21° de temperatura?
- 6) ¿Qué termómetro representa mejor 59° de temperatura?
- 7) ¿Qué termómetro representa mejor 60° de temperatura?
- 8) ¿Qué termómetro representa mejor 77° de temperatura?
- 9) ¿Qué termómetro representa mejor 64° de temperatura?
- 10) ¿Qué termómetro representa mejor 29° de temperatura?

1.     **I**
2.     **A**
3.     **J**
4.     **G**
5.     **C**
6.     **D**
7.     **B**
8.     **F**
9.     **E**
10.     **H**



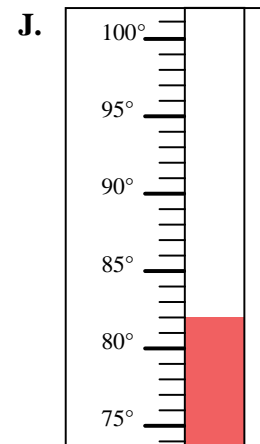
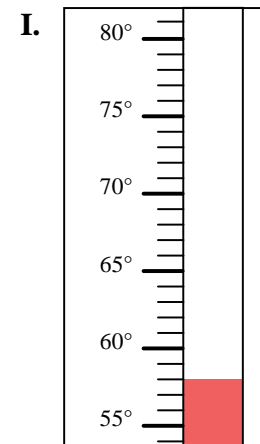
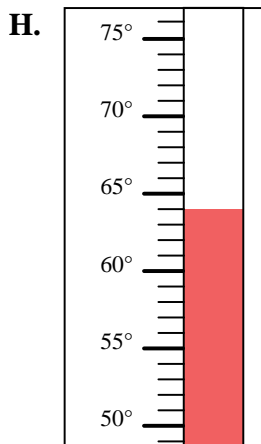
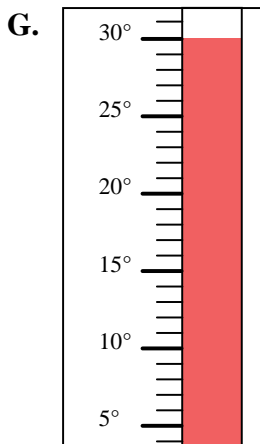
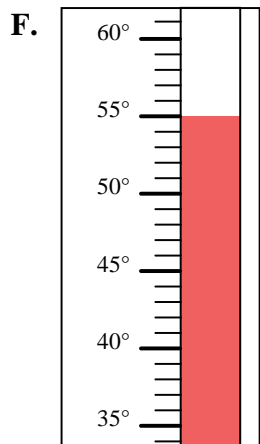
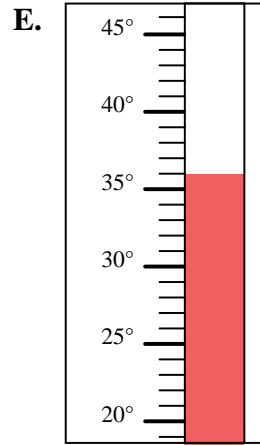
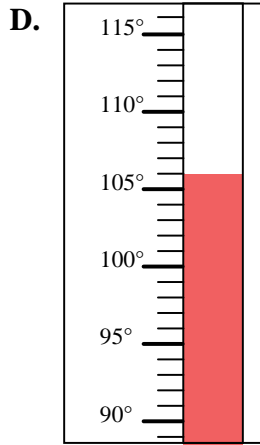
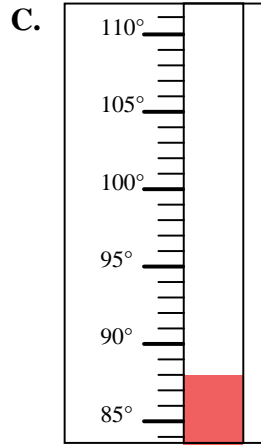
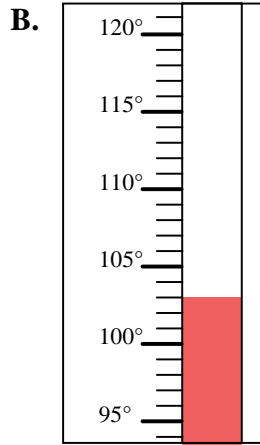
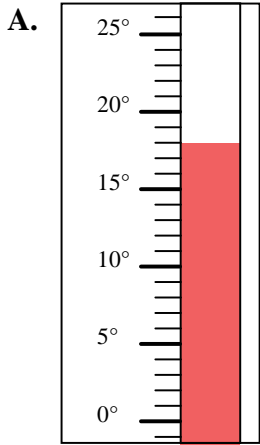


Determinar cuál letra responde mejor a cada pregunta.

Respuestas

- 1) ¿Qué termómetro representa mejor 82° de temperatura?
- 2) ¿Qué termómetro representa mejor 64° de temperatura?
- 3) ¿Qué termómetro representa mejor 58° de temperatura?
- 4) ¿Qué termómetro representa mejor 106° de temperatura?
- 5) ¿Qué termómetro representa mejor 88° de temperatura?
- 6) ¿Qué termómetro representa mejor 36° de temperatura?
- 7) ¿Qué termómetro representa mejor 18° de temperatura?
- 8) ¿Qué termómetro representa mejor 30° de temperatura?
- 9) ¿Qué termómetro representa mejor 55° de temperatura?
- 10) ¿Qué termómetro representa mejor 103° de temperatura?

1. \_\_\_\_\_
2. \_\_\_\_\_
3. \_\_\_\_\_
4. \_\_\_\_\_
5. \_\_\_\_\_
6. \_\_\_\_\_
7. \_\_\_\_\_
8. \_\_\_\_\_
9. \_\_\_\_\_
10. \_\_\_\_\_





Determinar cuál letra responde mejor a cada pregunta.

- 1) ¿Qué termómetro representa mejor 82° de temperatura?
- 2) ¿Qué termómetro representa mejor 64° de temperatura?
- 3) ¿Qué termómetro representa mejor 58° de temperatura?
- 4) ¿Qué termómetro representa mejor 106° de temperatura?
- 5) ¿Qué termómetro representa mejor 88° de temperatura?
- 6) ¿Qué termómetro representa mejor 36° de temperatura?
- 7) ¿Qué termómetro representa mejor 18° de temperatura?
- 8) ¿Qué termómetro representa mejor 30° de temperatura?
- 9) ¿Qué termómetro representa mejor 55° de temperatura?
- 10) ¿Qué termómetro representa mejor 103° de temperatura?

**Respuestas**

1.     **J**    

2.     **H**    

3.     **I**    

4.     **D**    

5.     **C**    

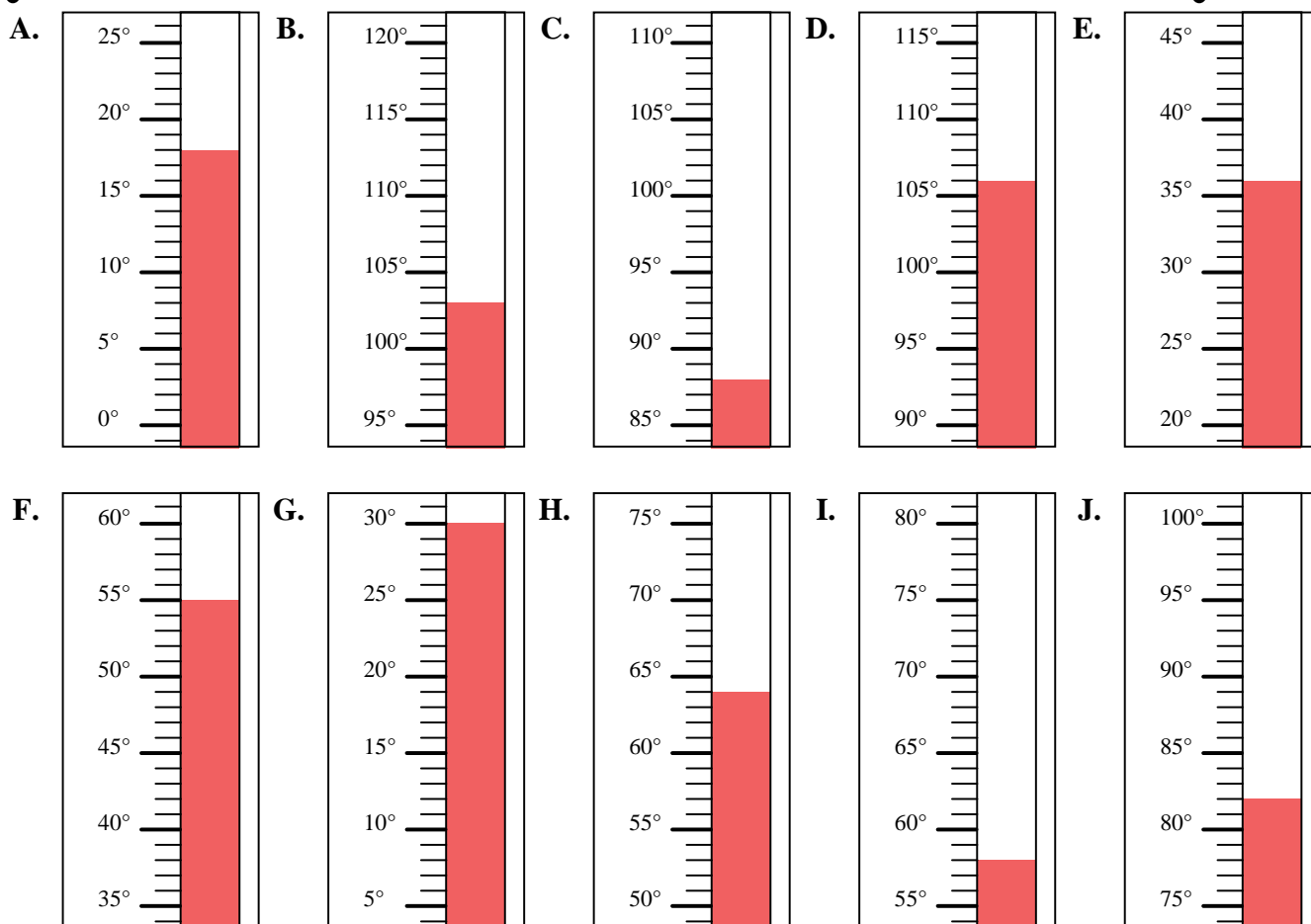
6.     **E**    

7.     **A**    

8.     **G**    

9.     **F**    

10.     **B**    



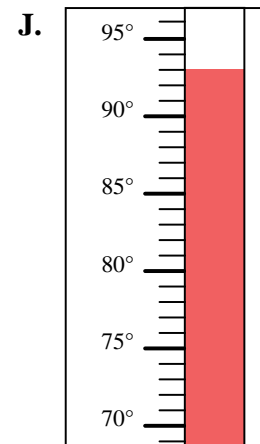
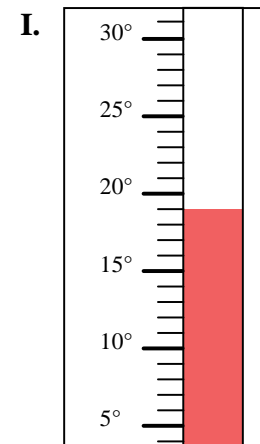
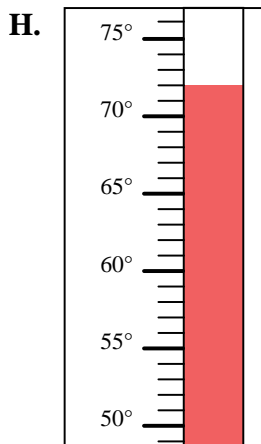
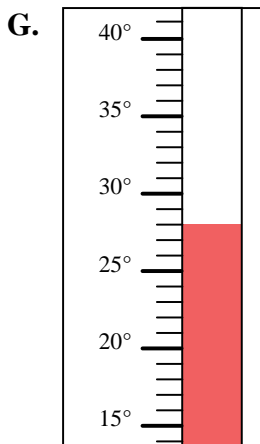
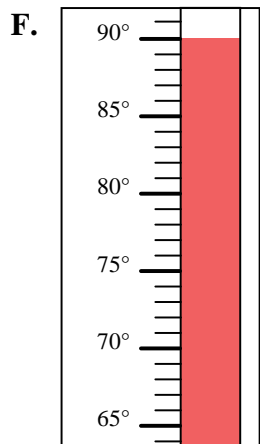
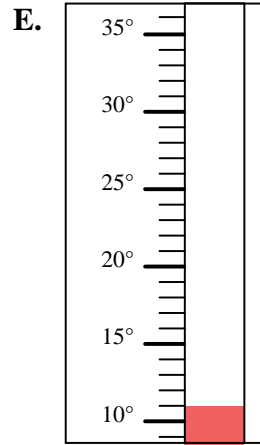
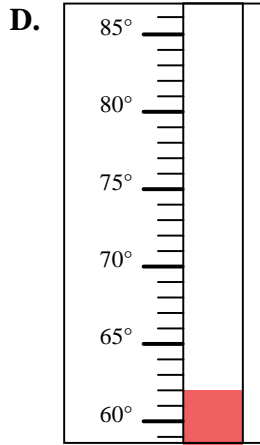
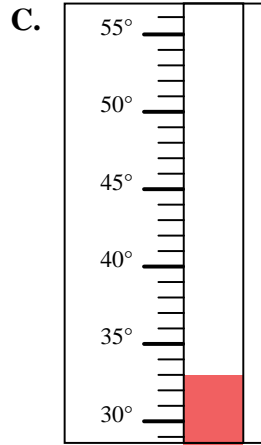
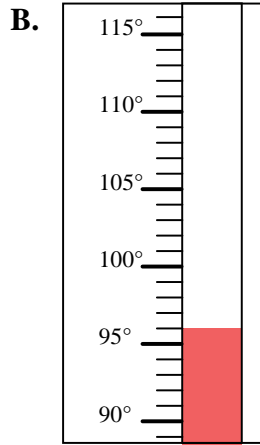
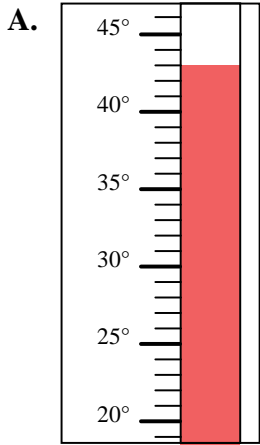


Determinar cuál letra responde mejor a cada pregunta.

Respuestas

- 1) ¿Qué termómetro representa mejor 62° de temperatura?
- 2) ¿Qué termómetro representa mejor 43° de temperatura?
- 3) ¿Qué termómetro representa mejor 72° de temperatura?
- 4) ¿Qué termómetro representa mejor 33° de temperatura?
- 5) ¿Qué termómetro representa mejor 11° de temperatura?
- 6) ¿Qué termómetro representa mejor 93° de temperatura?
- 7) ¿Qué termómetro representa mejor 96° de temperatura?
- 8) ¿Qué termómetro representa mejor 19° de temperatura?
- 9) ¿Qué termómetro representa mejor 28° de temperatura?
- 10) ¿Qué termómetro representa mejor 90° de temperatura?

1. \_\_\_\_\_
2. \_\_\_\_\_
3. \_\_\_\_\_
4. \_\_\_\_\_
5. \_\_\_\_\_
6. \_\_\_\_\_
7. \_\_\_\_\_
8. \_\_\_\_\_
9. \_\_\_\_\_
10. \_\_\_\_\_



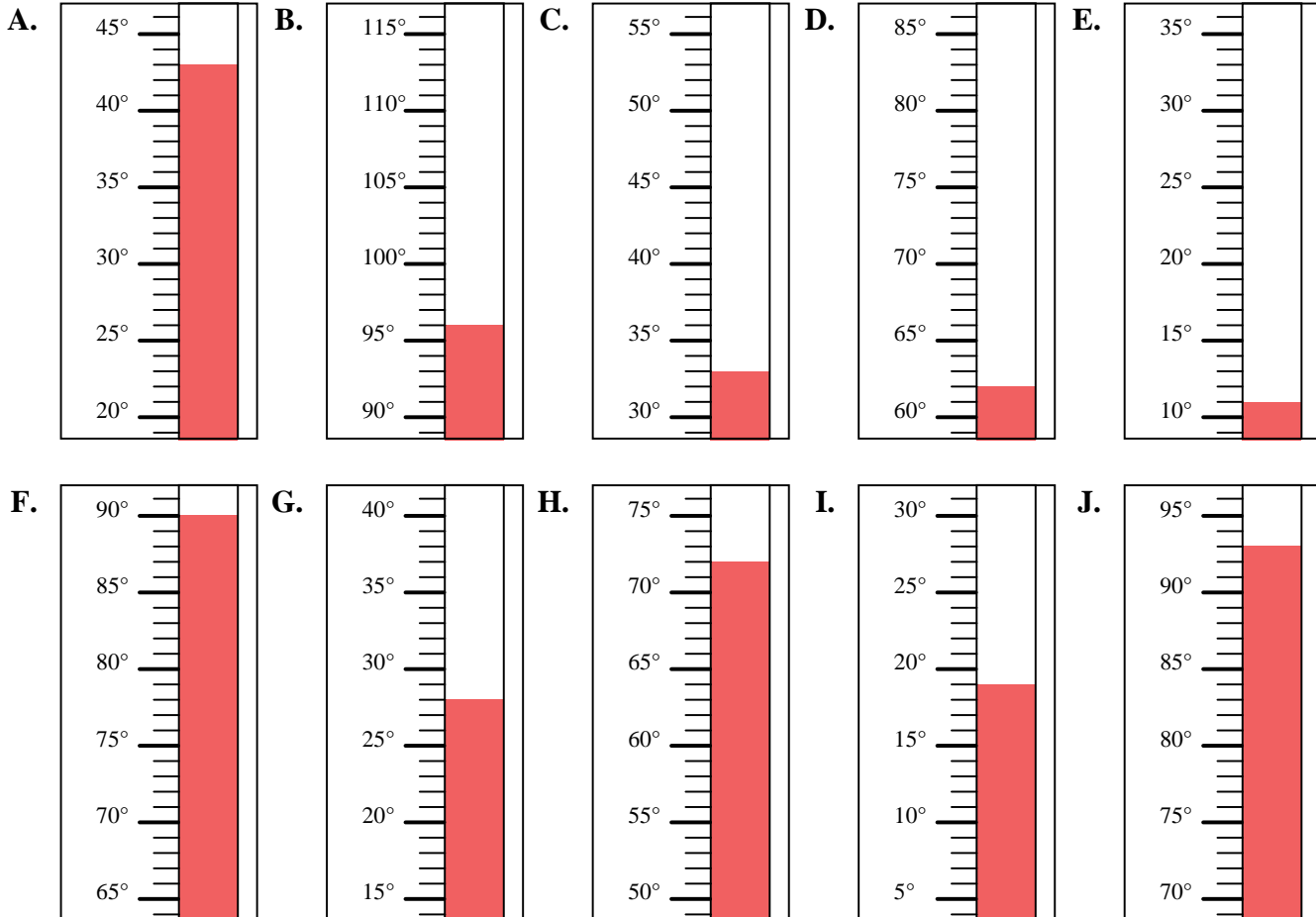


Determinar cuál letra responde mejor a cada pregunta.

**Respuestas**

- 1) ¿Qué termómetro representa mejor 62° de temperatura?
- 2) ¿Qué termómetro representa mejor 43° de temperatura?
- 3) ¿Qué termómetro representa mejor 72° de temperatura?
- 4) ¿Qué termómetro representa mejor 33° de temperatura?
- 5) ¿Qué termómetro representa mejor 11° de temperatura?
- 6) ¿Qué termómetro representa mejor 93° de temperatura?
- 7) ¿Qué termómetro representa mejor 96° de temperatura?
- 8) ¿Qué termómetro representa mejor 19° de temperatura?
- 9) ¿Qué termómetro representa mejor 28° de temperatura?
- 10) ¿Qué termómetro representa mejor 90° de temperatura?

1.     **D**
2.     **A**
3.     **H**
4.     **C**
5.     **E**
6.     **J**
7.     **B**
8.     **I**
9.     **G**
10.     **F**



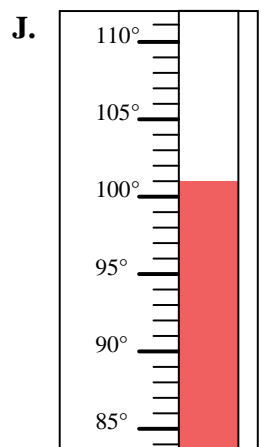
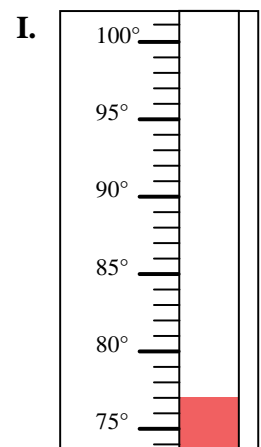
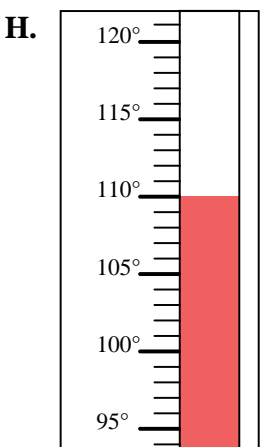
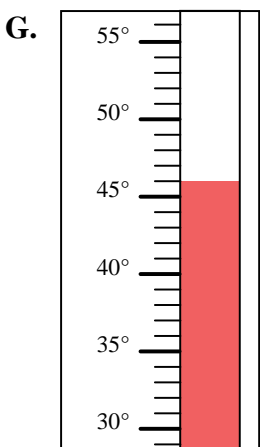
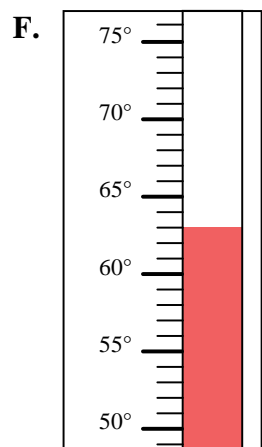
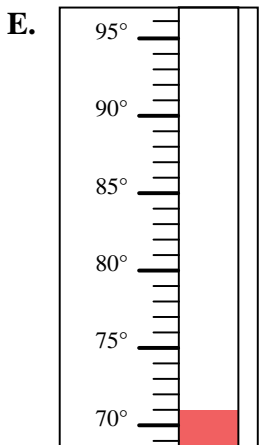
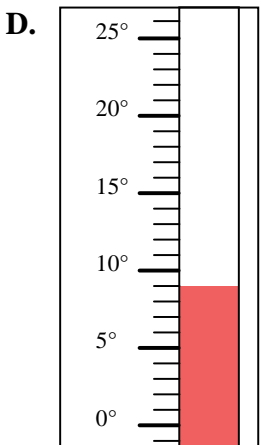
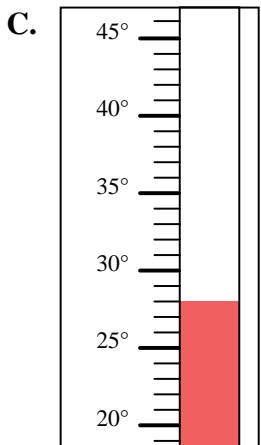
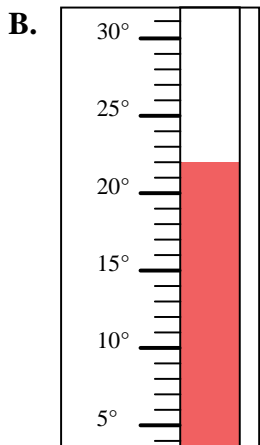
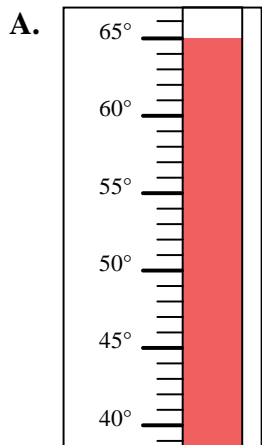


Determinar cuál letra responde mejor a cada pregunta.

Respuestas

- 1) ¿Qué termómetro representa mejor 63° de temperatura?
- 2) ¿Qué termómetro representa mejor 46° de temperatura?
- 3) ¿Qué termómetro representa mejor 65° de temperatura?
- 4) ¿Qué termómetro representa mejor 110° de temperatura?
- 5) ¿Qué termómetro representa mejor 77° de temperatura?
- 6) ¿Qué termómetro representa mejor 22° de temperatura?
- 7) ¿Qué termómetro representa mejor 71° de temperatura?
- 8) ¿Qué termómetro representa mejor 28° de temperatura?
- 9) ¿Qué termómetro representa mejor 9° de temperatura?
- 10) ¿Qué termómetro representa mejor 101° de temperatura?

1. \_\_\_\_\_
2. \_\_\_\_\_
3. \_\_\_\_\_
4. \_\_\_\_\_
5. \_\_\_\_\_
6. \_\_\_\_\_
7. \_\_\_\_\_
8. \_\_\_\_\_
9. \_\_\_\_\_
10. \_\_\_\_\_



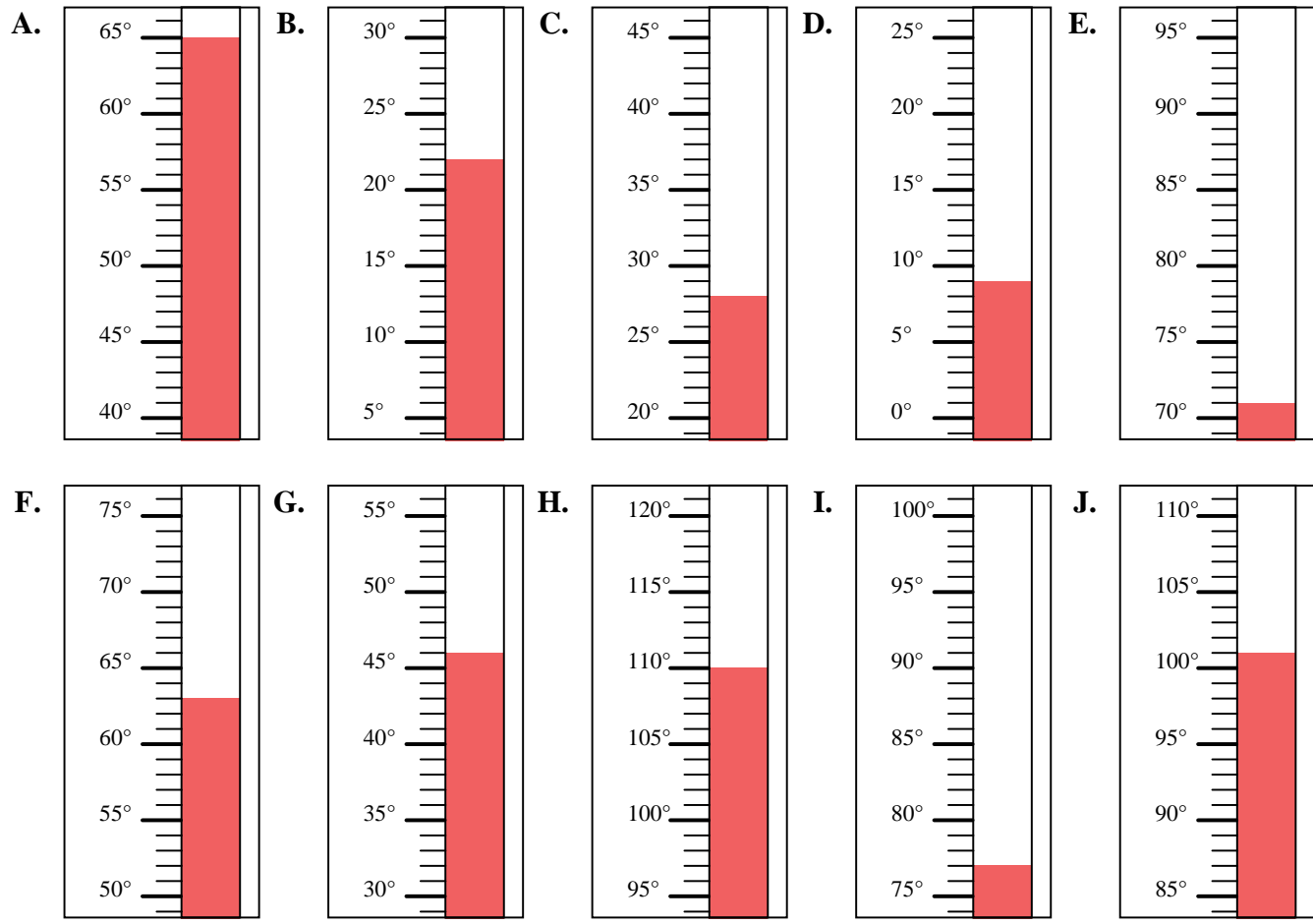


Determinar cuál letra responde mejor a cada pregunta.

**Respuestas**

- 1) ¿Qué termómetro representa mejor  $63^\circ$  de temperatura?
- 2) ¿Qué termómetro representa mejor  $46^\circ$  de temperatura?
- 3) ¿Qué termómetro representa mejor  $65^\circ$  de temperatura?
- 4) ¿Qué termómetro representa mejor  $110^\circ$  de temperatura?
- 5) ¿Qué termómetro representa mejor  $77^\circ$  de temperatura?
- 6) ¿Qué termómetro representa mejor  $22^\circ$  de temperatura?
- 7) ¿Qué termómetro representa mejor  $71^\circ$  de temperatura?
- 8) ¿Qué termómetro representa mejor  $28^\circ$  de temperatura?
- 9) ¿Qué termómetro representa mejor  $9^\circ$  de temperatura?
- 10) ¿Qué termómetro representa mejor  $101^\circ$  de temperatura?

1.     **F**
2.     **G**
3.     **A**
4.     **H**
5.     **I**
6.     **B**
7.     **E**
8.     **C**
9.     **D**
10.     **J**





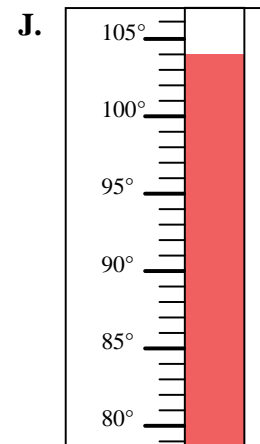
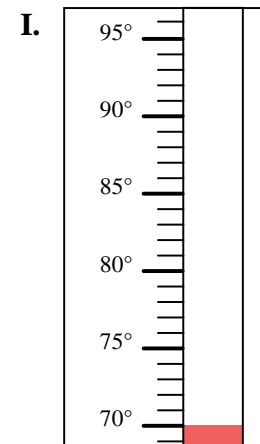
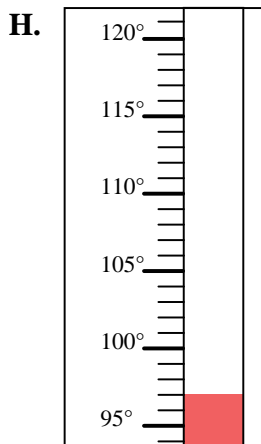
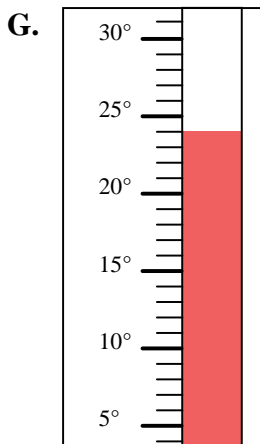
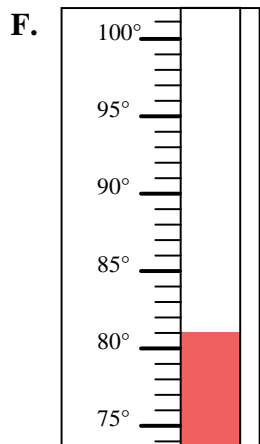
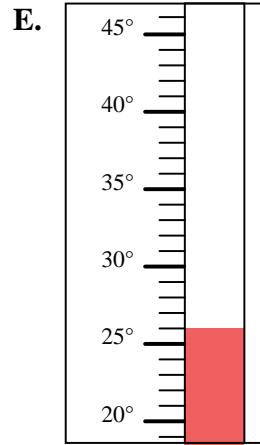
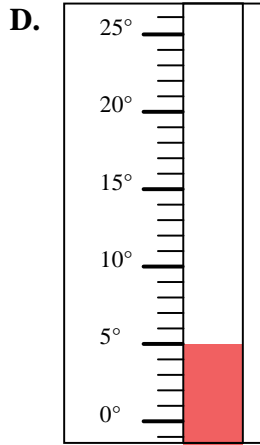
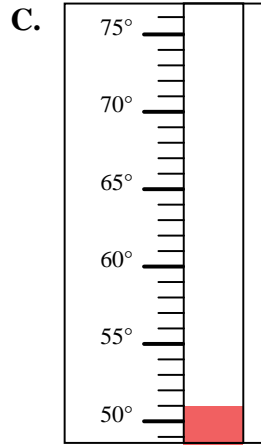
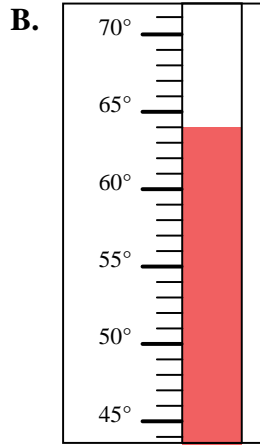
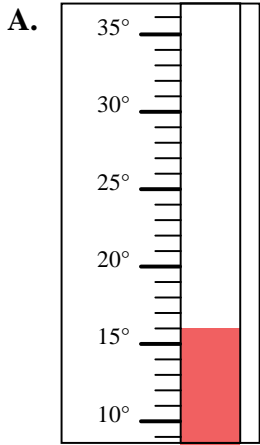


Determinar cuál letra responde mejor a cada pregunta.

Respuestas

- 1) ¿Qué termómetro representa mejor 70° de temperatura?
- 2) ¿Qué termómetro representa mejor 51° de temperatura?
- 3) ¿Qué termómetro representa mejor 64° de temperatura?
- 4) ¿Qué termómetro representa mejor 26° de temperatura?
- 5) ¿Qué termómetro representa mejor 104° de temperatura?
- 6) ¿Qué termómetro representa mejor 97° de temperatura?
- 7) ¿Qué termómetro representa mejor 5° de temperatura?
- 8) ¿Qué termómetro representa mejor 81° de temperatura?
- 9) ¿Qué termómetro representa mejor 16° de temperatura?
- 10) ¿Qué termómetro representa mejor 24° de temperatura?

1. \_\_\_\_\_
2. \_\_\_\_\_
3. \_\_\_\_\_
4. \_\_\_\_\_
5. \_\_\_\_\_
6. \_\_\_\_\_
7. \_\_\_\_\_
8. \_\_\_\_\_
9. \_\_\_\_\_
10. \_\_\_\_\_





Determinar cuál letra responde mejor a cada pregunta.

**Respuestas**

- 1) ¿Qué termómetro representa mejor 70° de temperatura?
- 2) ¿Qué termómetro representa mejor 51° de temperatura?
- 3) ¿Qué termómetro representa mejor 64° de temperatura?
- 4) ¿Qué termómetro representa mejor 26° de temperatura?
- 5) ¿Qué termómetro representa mejor 104° de temperatura?
- 6) ¿Qué termómetro representa mejor 97° de temperatura?
- 7) ¿Qué termómetro representa mejor 5° de temperatura?
- 8) ¿Qué termómetro representa mejor 81° de temperatura?
- 9) ¿Qué termómetro representa mejor 16° de temperatura?
- 10) ¿Qué termómetro representa mejor 24° de temperatura?

1.     **I**    

2.     **C**    

3.     **B**    

4.     **E**    

5.     **J**    

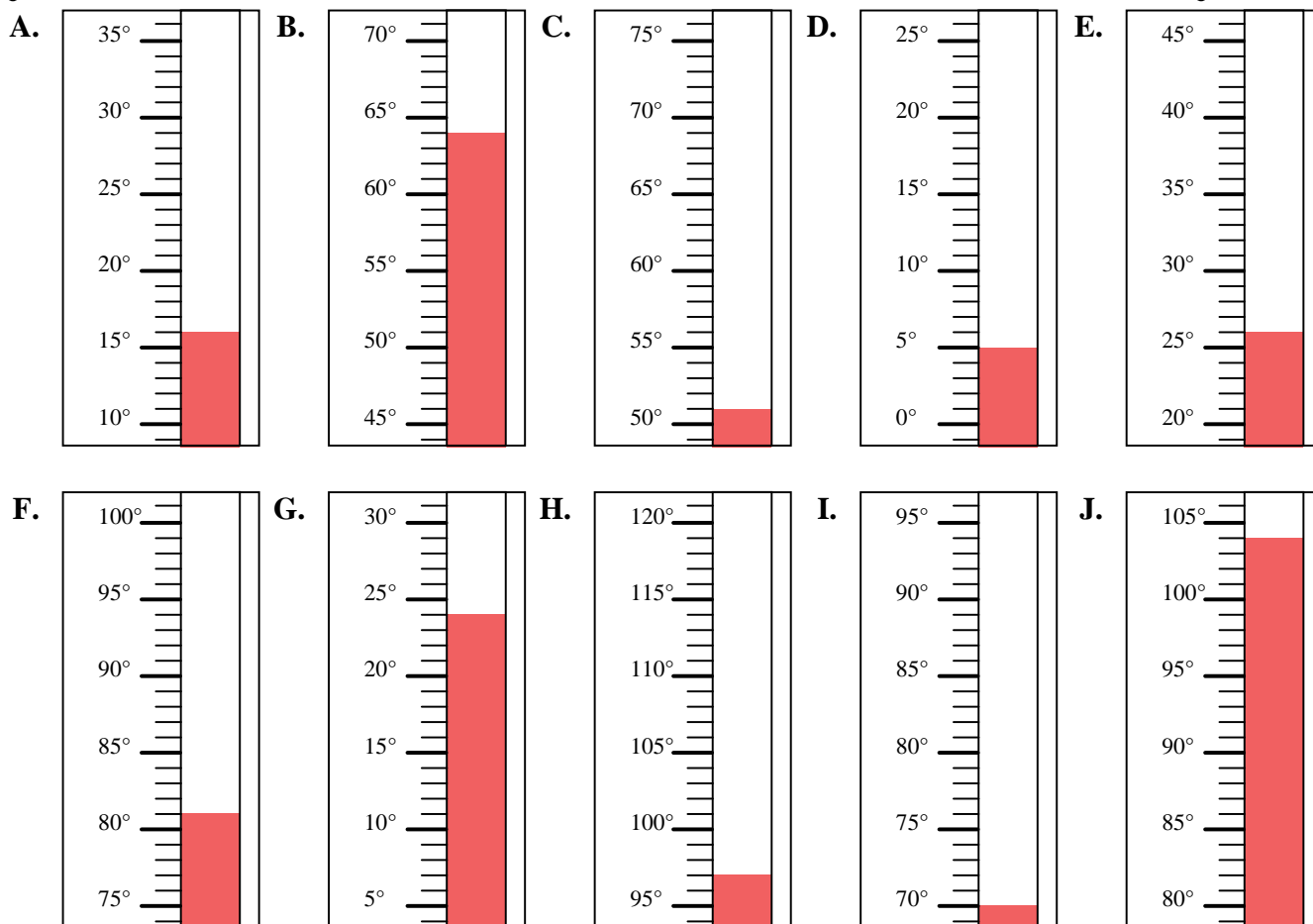
6.     **H**    

7.     **D**    

8.     **F**    

9.     **A**    

10.     **G**    



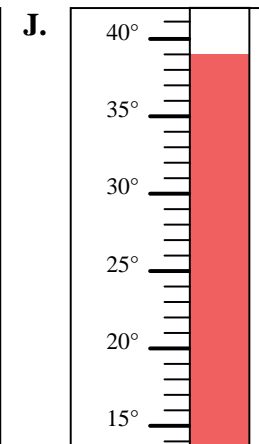
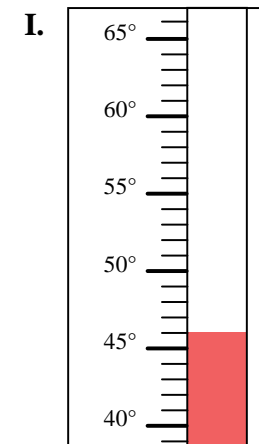
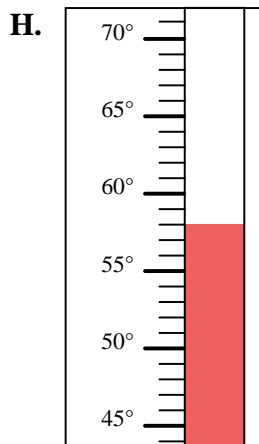
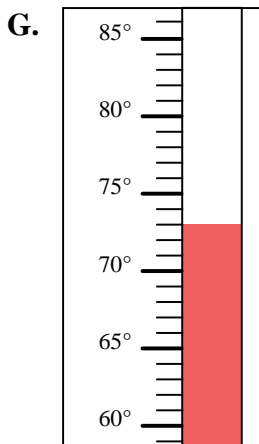
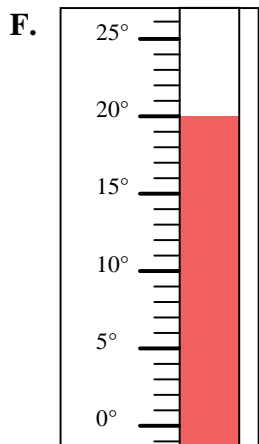
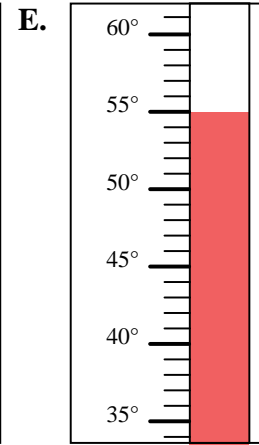
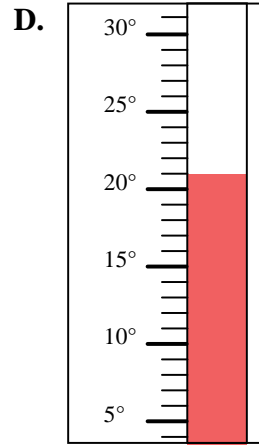
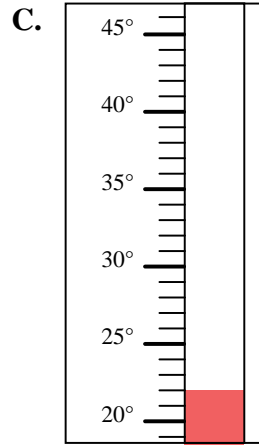
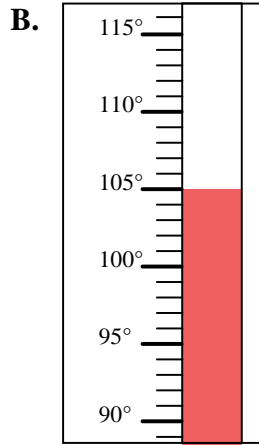
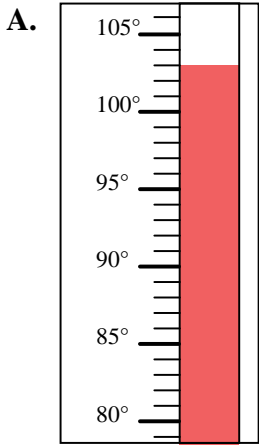


Determinar cuál letra responde mejor a cada pregunta.

Respuestas

- 1) ¿Qué termómetro representa mejor 103° de temperatura?
- 2) ¿Qué termómetro representa mejor 73° de temperatura?
- 3) ¿Qué termómetro representa mejor 22° de temperatura?
- 4) ¿Qué termómetro representa mejor 21° de temperatura?
- 5) ¿Qué termómetro representa mejor 46° de temperatura?
- 6) ¿Qué termómetro representa mejor 20° de temperatura?
- 7) ¿Qué termómetro representa mejor 39° de temperatura?
- 8) ¿Qué termómetro representa mejor 55° de temperatura?
- 9) ¿Qué termómetro representa mejor 105° de temperatura?
- 10) ¿Qué termómetro representa mejor 58° de temperatura?

1. \_\_\_\_\_
2. \_\_\_\_\_
3. \_\_\_\_\_
4. \_\_\_\_\_
5. \_\_\_\_\_
6. \_\_\_\_\_
7. \_\_\_\_\_
8. \_\_\_\_\_
9. \_\_\_\_\_
10. \_\_\_\_\_





Determinar cuál letra responde mejor a cada pregunta.

**Respuestas**

- 1) ¿Qué termómetro representa mejor 103° de temperatura?
- 2) ¿Qué termómetro representa mejor 73° de temperatura?
- 3) ¿Qué termómetro representa mejor 22° de temperatura?
- 4) ¿Qué termómetro representa mejor 21° de temperatura?
- 5) ¿Qué termómetro representa mejor 46° de temperatura?
- 6) ¿Qué termómetro representa mejor 20° de temperatura?
- 7) ¿Qué termómetro representa mejor 39° de temperatura?
- 8) ¿Qué termómetro representa mejor 55° de temperatura?
- 9) ¿Qué termómetro representa mejor 105° de temperatura?
- 10) ¿Qué termómetro representa mejor 58° de temperatura?

1.     **A**
2.     **G**
3.     **C**
4.     **D**
5.     **I**
6.     **F**
7.     **J**
8.     **E**
9.     **B**
10.     **H**

