

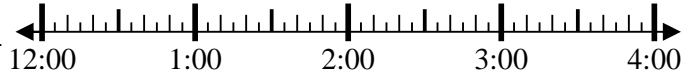


Resuelve cada problema.

1) Inicio: 12:10

Transcurrido: _____

Final: 1:35

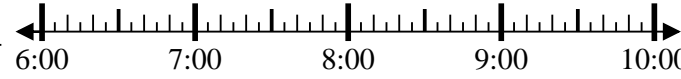


1. _____

2) Inicio: 6:40

Transcurrido: _____

Final: 8:50

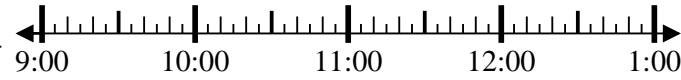


2. _____

3) Inicio: 9:05

Transcurrido: _____

Final: 11:55

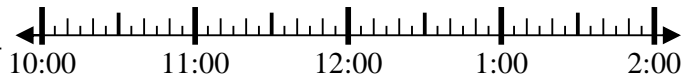


3. _____

4) Inicio: 10:45

Transcurrido: _____

Final: 1:25

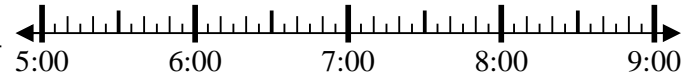


4. _____

5) Inicio: 5:35

Transcurrido: _____

Final: 7:05

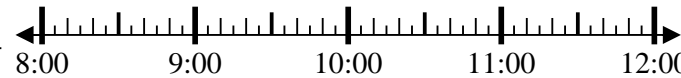


5. _____

6) Inicio: 8:15

Transcurrido: _____

Final: 10:40

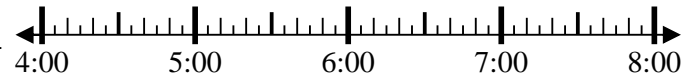


6. _____

7) Inicio: 4:10

Transcurrido: _____

Final: 7:05

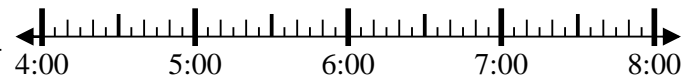


7. _____

8) Inicio: 4:00

Transcurrido: _____

Final: 6:20



8. _____

Respuestas



Resuelve cada problema.

- 1) Inicio: 12:10
 Transcurrido: 1 hr y 25 mins
 Final: 1:35
- 2) Inicio: 6:40
 Transcurrido: 2 hrs y 10 mins
 Final: 8:50
- 3) Inicio: 9:05
 Transcurrido: 2 hrs y 50 mins
 Final: 11:55
- 4) Inicio: 10:45
 Transcurrido: 2 hrs y 40 mins
 Final: 1:25
- 5) Inicio: 5:35
 Transcurrido: 1 hr y 30 mins
 Final: 7:05
- 6) Inicio: 8:15
 Transcurrido: 2 hrs y 25 mins
 Final: 10:40
- 7) Inicio: 4:10
 Transcurrido: 2 hrs y 55 mins
 Final: 7:05
- 8) Inicio: 4:00
 Transcurrido: 2 hrs y 20 mins
 Final: 6:20

Respuestas

1. 1 hr y 25 mins
2. 2 hrs y 10 mins
3. 2 hrs y 50 mins
4. 2 hrs y 40 mins
5. 1 hr y 30 mins
6. 2 hrs y 25 mins
7. 2 hrs y 55 mins
8. 2 hrs y 20 mins