



Resuelve cada problema.

1) Inicio: 2:15

Transcurrido: 1 hr y 40 mins

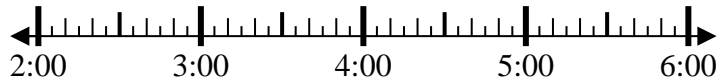
Final: \_\_\_\_\_



2) Inicio: 2:10

Transcurrido: 2 hrs y 45 mins

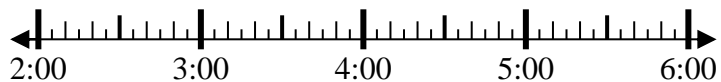
Final: \_\_\_\_\_



3) Inicio: 2:45

Transcurrido: 2 hrs y 10 mins

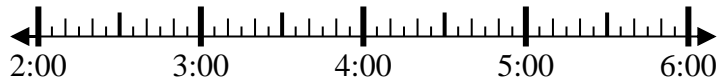
Final: \_\_\_\_\_



4) Inicio: 2:20

Transcurrido: 1 hr y 20 mins

Final: \_\_\_\_\_



5) Inicio: 11:05

Transcurrido: 2 hrs y 25 mins

Final: \_\_\_\_\_



6) Inicio: 11:05

Transcurrido: 2 hrs y 20 mins

Final: \_\_\_\_\_



7) Inicio: 3:45

Transcurrido: 2 hrs y 20 mins

Final: \_\_\_\_\_



8) Inicio: 6:20

Transcurrido: 1 hr y 30 mins

Final: \_\_\_\_\_



**Respuestas**

1. \_\_\_\_\_

2. \_\_\_\_\_

3. \_\_\_\_\_

4. \_\_\_\_\_

5. \_\_\_\_\_

6. \_\_\_\_\_

7. \_\_\_\_\_

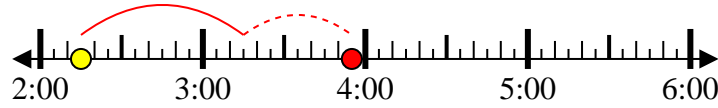
8. \_\_\_\_\_



Resuelve cada problema.

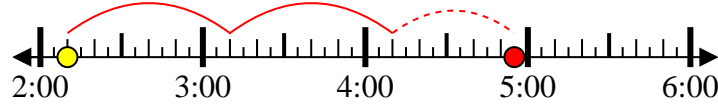
1) Inicio: 2:15

Transcurrido: 1 hr y 40 mins

Final: 3:55

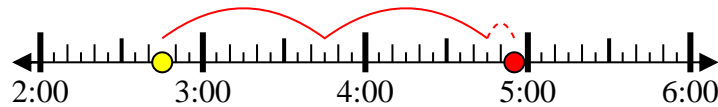
2) Inicio: 2:10

Transcurrido: 2 hrs y 45 mins

Final: 4:55

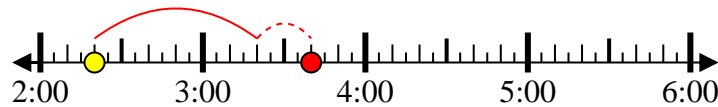
3) Inicio: 2:45

Transcurrido: 2 hrs y 10 mins

Final: 4:55

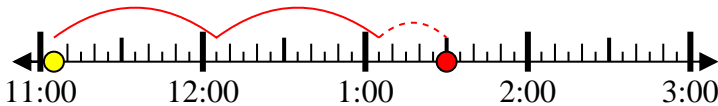
4) Inicio: 2:20

Transcurrido: 1 hr y 20 mins

Final: 3:40

5) Inicio: 11:05

Transcurrido: 2 hrs y 25 mins

Final: 1:30

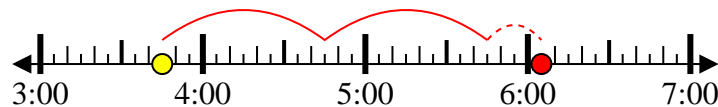
6) Inicio: 11:05

Transcurrido: 2 hrs y 20 mins

Final: 1:25

7) Inicio: 3:45

Transcurrido: 2 hrs y 20 mins

Final: 6:05

8) Inicio: 6:20

Transcurrido: 1 hr y 30 mins

Final: 7:50**Respuestas**1. 3:552. 4:553. 4:554. 3:405. 1:306. 1:257. 6:058. 7:50