

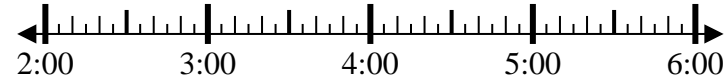


Resuelve cada problema.

1) Inicio: 2:00

Transcurrido: 1 hr y 45 mins

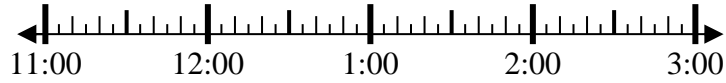
Final: _____



2) Inicio: 11:35

Transcurrido: 2 hrs y 45 mins

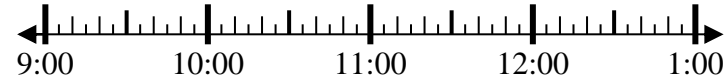
Final: _____



3) Inicio: 9:00

Transcurrido: 1 hr y 10 mins

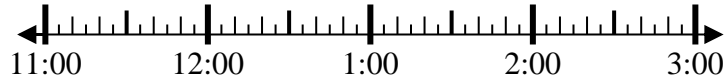
Final: _____



4) Inicio: 11:45

Transcurrido: 1 hr y 20 mins

Final: _____



5) Inicio: 12:20

Transcurrido: 1 hr y 15 mins

Final: _____



6) Inicio: 5:25

Transcurrido: 1 hr y 10 mins

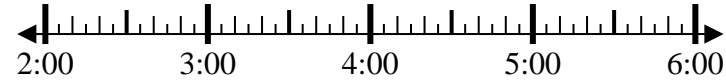
Final: _____



7) Inicio: 2:35

Transcurrido: 1 hr y 45 mins

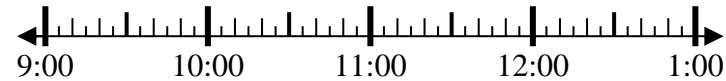
Final: _____



8) Inicio: 9:35

Transcurrido: 2 hrs y 45 mins

Final: _____



Respuestas

1. _____

2. _____

3. _____

4. _____

5. _____

6. _____

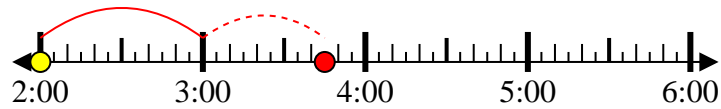
7. _____

8. _____



Resuelve cada problema.

- 1) Inicio: 2:00
 Transcurrido: 1 hr y 45 mins
 Final: 3:45



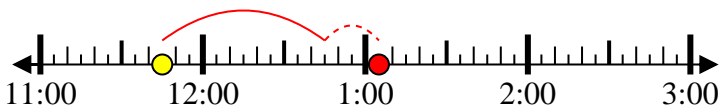
- 2) Inicio: 11:35
 Transcurrido: 2 hrs y 45 mins
 Final: 2:20



- 3) Inicio: 9:00
 Transcurrido: 1 hr y 10 mins
 Final: 10:10



- 4) Inicio: 11:45
 Transcurrido: 1 hr y 20 mins
 Final: 1:05



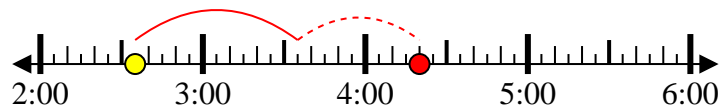
- 5) Inicio: 12:20
 Transcurrido: 1 hr y 15 mins
 Final: 1:35



- 6) Inicio: 5:25
 Transcurrido: 1 hr y 10 mins
 Final: 6:35



- 7) Inicio: 2:35
 Transcurrido: 1 hr y 45 mins
 Final: 4:20



- 8) Inicio: 9:35
 Transcurrido: 2 hrs y 45 mins
 Final: 12:20

**Respuestas**

1. 3:45
 2. 2:20
 3. 10:10
 4. 1:05
 5. 1:35
 6. 6:35
 7. 4:20
 8. 12:20