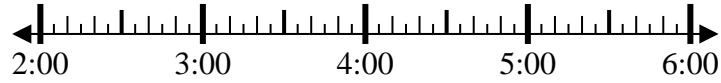


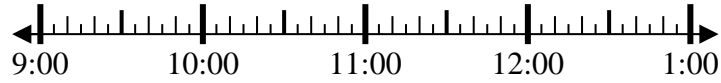


Resuelve cada problema.

1) Inicio: 2:50
 Transcurrido: 2 hrs y 50 mins
 Final: _____



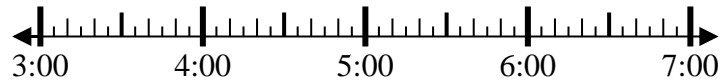
2) Inicio: 9:10
 Transcurrido: 1 hr y 10 mins
 Final: _____



3) Inicio: 7:05
 Transcurrido: 1 hr y 15 mins
 Final: _____



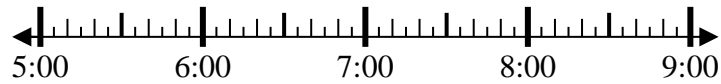
4) Inicio: 3:00
 Transcurrido: 1 hr y 15 mins
 Final: _____



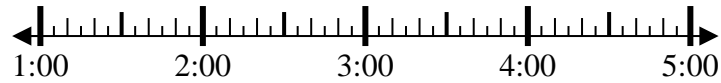
5) Inicio: 7:15
 Transcurrido: 1 hr y 40 mins
 Final: _____



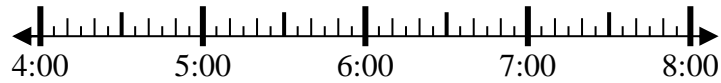
6) Inicio: 5:00
 Transcurrido: 2 hrs y 15 mins
 Final: _____



7) Inicio: 1:00
 Transcurrido: 2 hrs y 45 mins
 Final: _____



8) Inicio: 4:35
 Transcurrido: 1 hr y 20 mins
 Final: _____



Respuestas

1. _____
2. _____
3. _____
4. _____
5. _____
6. _____
7. _____
8. _____



Resuelve cada problema.

- 1) Inicio: 2:50
Transcurrido: 2 hrs y 50 mins
Final: 5:40
-
- 2) Inicio: 9:10
Transcurrido: 1 hr y 10 mins
Final: 10:20
-
- 3) Inicio: 7:05
Transcurrido: 1 hr y 15 mins
Final: 8:20
-
- 4) Inicio: 3:00
Transcurrido: 1 hr y 15 mins
Final: 4:15
-
- 5) Inicio: 7:15
Transcurrido: 1 hr y 40 mins
Final: 8:55
-
- 6) Inicio: 5:00
Transcurrido: 2 hrs y 15 mins
Final: 7:15
-
- 7) Inicio: 1:00
Transcurrido: 2 hrs y 45 mins
Final: 3:45
-
- 8) Inicio: 4:35
Transcurrido: 1 hr y 20 mins
Final: 5:55
-

Respuestas

1. 5:40
2. 10:20
3. 8:20
4. 4:15
5. 8:55
6. 7:15
7. 3:45
8. 5:55