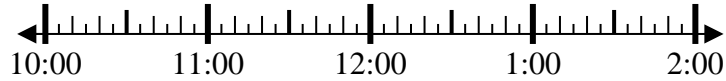


**Resuelve cada problema.**

1) Inicio: 10:50

Transcurrido: 2 hrs y 30 mins

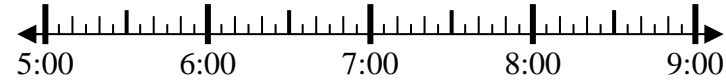
Final: _____



2) Inicio: 5:10

Transcurrido: 1 hr y 25 mins

Final: _____



3) Inicio: 11:40

Transcurrido: 1 hr y 35 mins

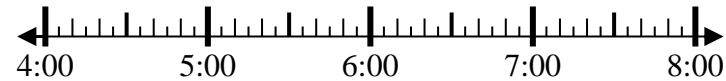
Final: _____



4) Inicio: 4:20

Transcurrido: 2 hrs y 15 mins

Final: _____



5) Inicio: 5:15

Transcurrido: 2 hrs y 25 mins

Final: _____



6) Inicio: 10:20

Transcurrido: 2 hrs y 35 mins

Final: _____



7) Inicio: 12:45

Transcurrido: 2 hrs y 50 mins

Final: _____



8) Inicio: 10:40

Transcurrido: 1 hr y 30 mins

Final: _____

**Respuestas**

1. _____

2. _____

3. _____

4. _____

5. _____

6. _____

7. _____

8. _____

**Resuelve cada problema.**

- 1) Inicio: 10:50
Transcurrido: 2 hrs y 30 mins
Final: 1:20
-
- 2) Inicio: 5:10
Transcurrido: 1 hr y 25 mins
Final: 6:35
-
- 3) Inicio: 11:40
Transcurrido: 1 hr y 35 mins
Final: 1:15
-
- 4) Inicio: 4:20
Transcurrido: 2 hrs y 15 mins
Final: 6:35
-
- 5) Inicio: 5:15
Transcurrido: 2 hrs y 25 mins
Final: 7:40
-
- 6) Inicio: 10:20
Transcurrido: 2 hrs y 35 mins
Final: 12:55
-
- 7) Inicio: 12:45
Transcurrido: 2 hrs y 50 mins
Final: 3:35
-
- 8) Inicio: 10:40
Transcurrido: 1 hr y 30 mins
Final: 12:10
-

Respuestas

1. 1:20
2. 6:35
3. 1:15
4. 6:35
5. 7:40
6. 12:55
7. 3:35
8. 12:10