



Resuelve cada problema.

Respuestas

1) Inicio: _____
 Transcurrido: 1 hr y 40 mins
 Final: 3:55

1. _____

2) Inicio: _____
 Transcurrido: 2 hrs y 45 mins
 Final: 4:55

2. _____

3) Inicio: _____
 Transcurrido: 2 hrs y 10 mins
 Final: 4:55

3. _____

4) Inicio: _____
 Transcurrido: 1 hr y 20 mins
 Final: 3:40

4. _____

5) Inicio: _____
 Transcurrido: 2 hrs y 25 mins
 Final: 1:30

5. _____

6) Inicio: _____
 Transcurrido: 2 hrs y 20 mins
 Final: 1:25

6. _____

7) Inicio: _____
 Transcurrido: 2 hrs y 20 mins
 Final: 6:05

7. _____

8) Inicio: _____
 Transcurrido: 1 hr y 30 mins
 Final: 7:50

8. _____



Resuelve cada problema.

1) Inicio: 2:15
 Transcurrido: 1 hr y 40 mins
 Final: 3:55

2) Inicio: 2:10
 Transcurrido: 2 hrs y 45 mins
 Final: 4:55

3) Inicio: 2:45
 Transcurrido: 2 hrs y 10 mins
 Final: 4:55

4) Inicio: 2:20
 Transcurrido: 1 hr y 20 mins
 Final: 3:40

5) Inicio: 11:05
 Transcurrido: 2 hrs y 25 mins
 Final: 1:30

6) Inicio: 11:05
 Transcurrido: 2 hrs y 20 mins
 Final: 1:25

7) Inicio: 3:45
 Transcurrido: 2 hrs y 20 mins
 Final: 6:05

8) Inicio: 6:20
 Transcurrido: 1 hr y 30 mins
 Final: 7:50

Respuestas

1. 2:15
2. 2:10
3. 2:45
4. 2:20
5. 11:05
6. 11:05
7. 3:45
8. 6:20



Resuelve cada problema.

Respuestas

1) Inicio: _____
 Transcurrido: 1 hr y 10 mins
 Final: 7:55

1. _____

2) Inicio: _____
 Transcurrido: 2 hrs y 40 mins
 Final: 9:05

2. _____

3) Inicio: _____
 Transcurrido: 1 hr y 50 mins
 Final: 3:00

3. _____

4) Inicio: _____
 Transcurrido: 1 hr y 45 mins
 Final: 1:00

4. _____

5) Inicio: _____
 Transcurrido: 2 hrs y 10 mins
 Final: 5:35

5. _____

6) Inicio: _____
 Transcurrido: 2 hrs y 35 mins
 Final: 5:55

6. _____

7) Inicio: _____
 Transcurrido: 1 hr y 50 mins
 Final: 12:25

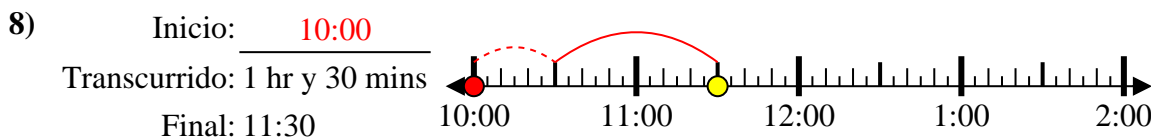
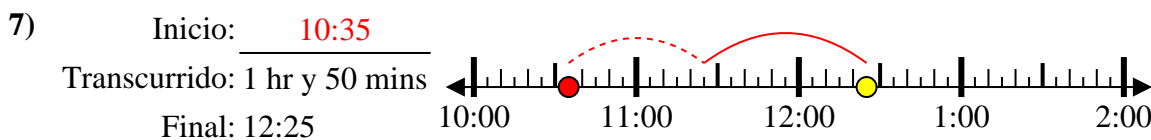
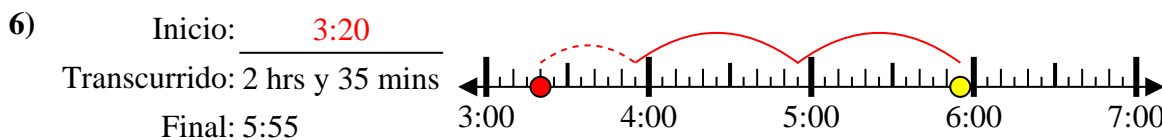
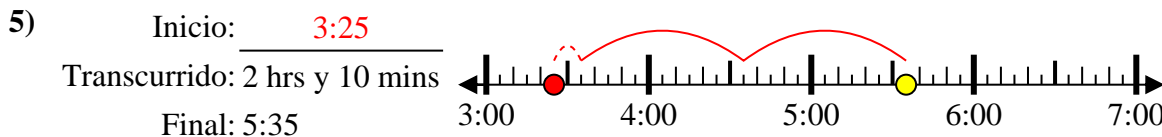
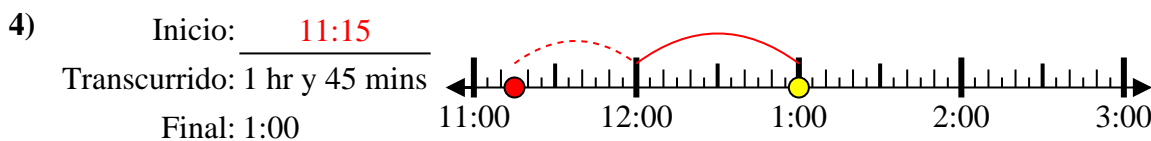
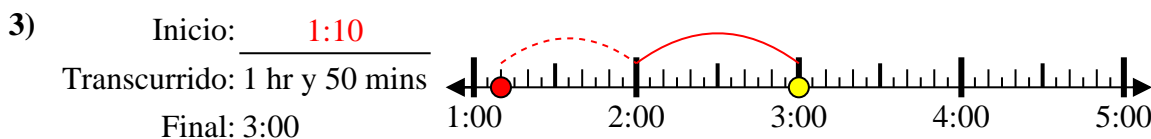
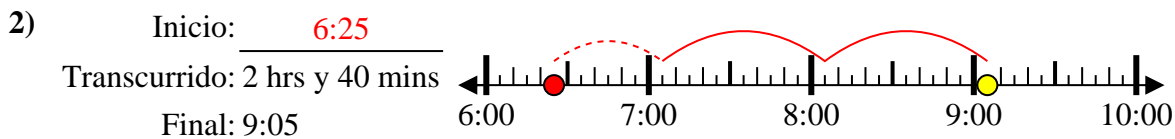
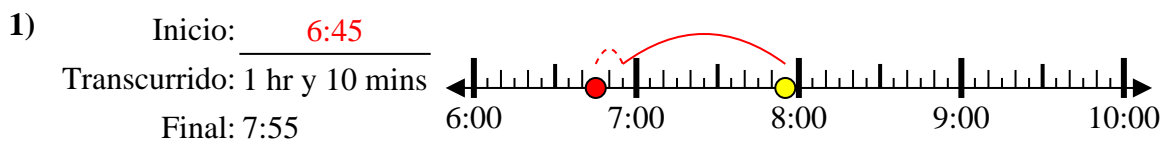
7. _____

8) Inicio: _____
 Transcurrido: 1 hr y 30 mins
 Final: 11:30

8. _____



Resuelve cada problema.



Respuestas

1. 6:45

2. 6:25

3. 1:10

4. 11:15

5. 3:25

6. 3:20

7. 10:35

8. 10:00



Resuelve cada problema.

Respuestas

1) Inicio: _____
 Transcurrido: 1 hr y 45 mins
 Final: 3:45

1. _____

2) Inicio: _____
 Transcurrido: 2 hrs y 45 mins
 Final: 2:20

2. _____

3) Inicio: _____
 Transcurrido: 1 hr y 10 mins
 Final: 10:10

3. _____

4) Inicio: _____
 Transcurrido: 1 hr y 20 mins
 Final: 1:05

4. _____

5) Inicio: _____
 Transcurrido: 1 hr y 15 mins
 Final: 1:35

5. _____

6) Inicio: _____
 Transcurrido: 1 hr y 10 mins
 Final: 6:35

6. _____

7) Inicio: _____
 Transcurrido: 1 hr y 45 mins
 Final: 4:20

7. _____

8) Inicio: _____
 Transcurrido: 2 hrs y 45 mins
 Final: 12:20

8. _____



Resuelve cada problema.

- 1) Inicio: 2:00
 Transcurrido: 1 hr y 45 mins
 Final: 3:45
- 2) Inicio: 11:35
 Transcurrido: 2 hrs y 45 mins
 Final: 2:20
- 3) Inicio: 9:00
 Transcurrido: 1 hr y 10 mins
 Final: 10:10
- 4) Inicio: 11:45
 Transcurrido: 1 hr y 20 mins
 Final: 1:05
- 5) Inicio: 12:20
 Transcurrido: 1 hr y 15 mins
 Final: 1:35
- 6) Inicio: 5:25
 Transcurrido: 1 hr y 10 mins
 Final: 6:35
- 7) Inicio: 2:35
 Transcurrido: 1 hr y 45 mins
 Final: 4:20
- 8) Inicio: 9:35
 Transcurrido: 2 hrs y 45 mins
 Final: 12:20

Respuestas

1. 2:00
2. 11:35
3. 9:00
4. 11:45
5. 12:20
6. 5:25
7. 2:35
8. 9:35



Resuelve cada problema.

Respuestas

1) Inicio: _____
 Transcurrido: 2 hrs y 50 mins
 Final: 5:40

1. _____

2) Inicio: _____
 Transcurrido: 1 hr y 10 mins
 Final: 10:20

2. _____

3) Inicio: _____
 Transcurrido: 1 hr y 15 mins
 Final: 8:20

3. _____

4) Inicio: _____
 Transcurrido: 1 hr y 15 mins
 Final: 4:15

4. _____

5) Inicio: _____
 Transcurrido: 1 hr y 40 mins
 Final: 8:55

5. _____

6) Inicio: _____
 Transcurrido: 2 hrs y 15 mins
 Final: 7:15

6. _____

7) Inicio: _____
 Transcurrido: 2 hrs y 45 mins
 Final: 3:45

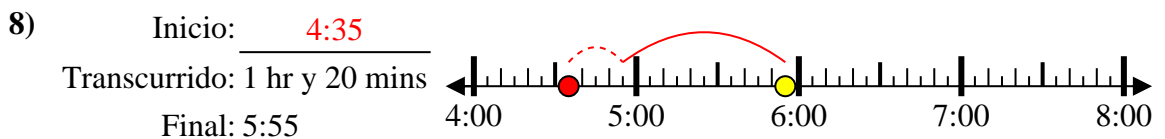
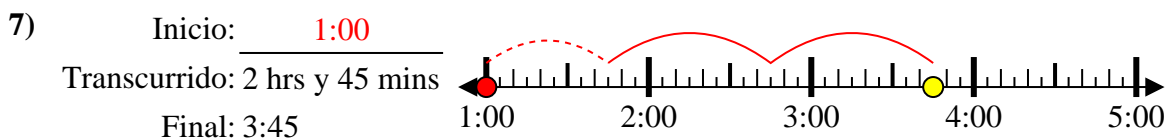
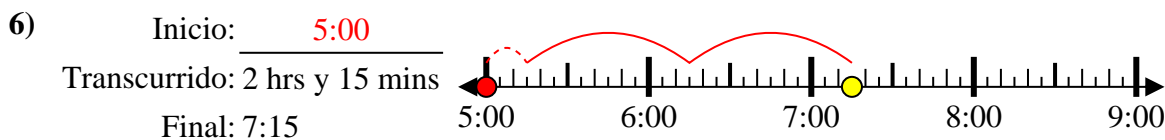
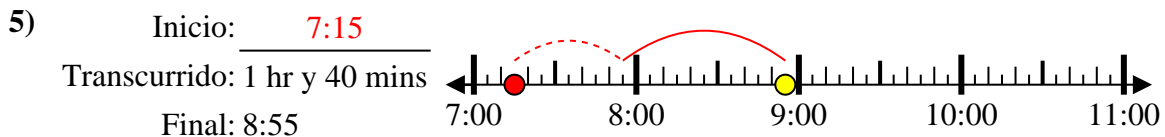
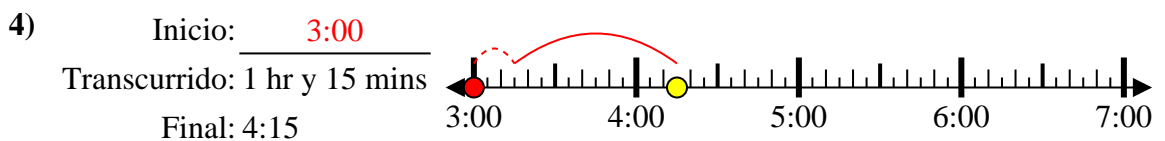
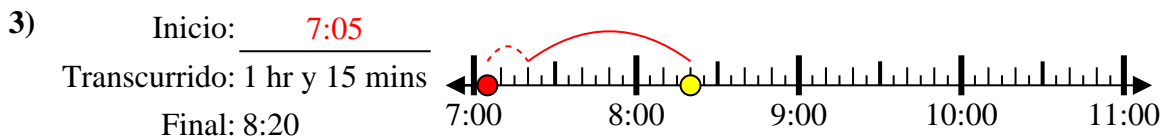
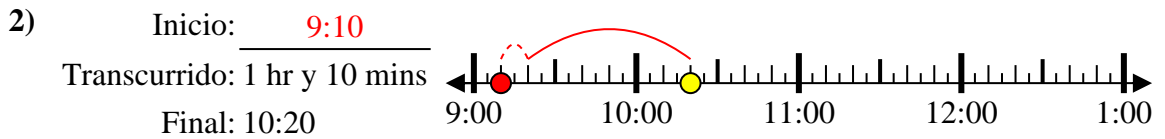
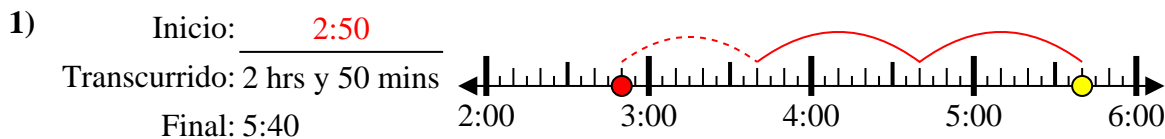
7. _____

8) Inicio: _____
 Transcurrido: 1 hr y 20 mins
 Final: 5:55

8. _____



Resuelve cada problema.



Respuestas

1. 2:50

2. 9:10

3. 7:05

4. 3:00

5. 7:15

6. 5:00

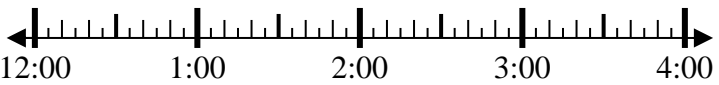
7. 1:00

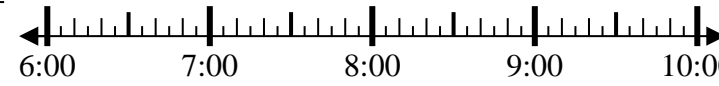
8. 4:35

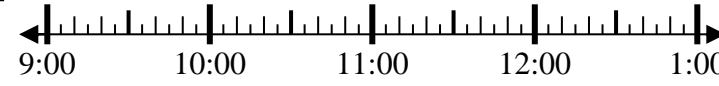


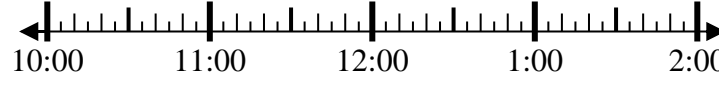
Resuelve cada problema.


Respuestas

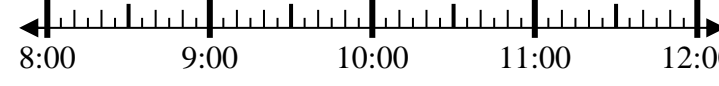
- 1) Inicio: _____
 Transcurrido: 1 hr y 25 mins
 Final: 1:35 

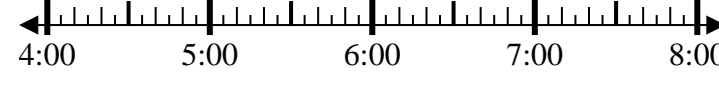
- 2) Inicio: _____
 Transcurrido: 2 hrs y 10 mins
 Final: 8:50 

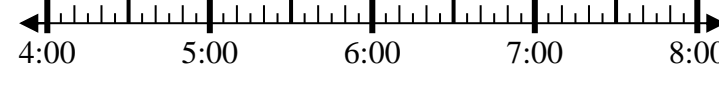
- 3) Inicio: _____
 Transcurrido: 2 hrs y 50 mins
 Final: 11:55 

- 4) Inicio: _____
 Transcurrido: 2 hrs y 40 mins
 Final: 1:25 

- 5) Inicio: _____
 Transcurrido: 1 hr y 30 mins
 Final: 7:05 

- 6) Inicio: _____
 Transcurrido: 2 hrs y 25 mins
 Final: 10:40 

- 7) Inicio: _____
 Transcurrido: 2 hrs y 55 mins
 Final: 7:05 

- 8) Inicio: _____
 Transcurrido: 2 hrs y 20 mins
 Final: 6:20 

1. _____
2. _____
3. _____
4. _____
5. _____
6. _____
7. _____
8. _____



Resuelve cada problema.

1) Inicio: 12:10
 Transcurrido: 1 hr y 25 mins
 Final: 1:35

2) Inicio: 6:40
 Transcurrido: 2 hrs y 10 mins
 Final: 8:50

3) Inicio: 9:05
 Transcurrido: 2 hrs y 50 mins
 Final: 11:55

4) Inicio: 10:45
 Transcurrido: 2 hrs y 40 mins
 Final: 1:25

5) Inicio: 5:35
 Transcurrido: 1 hr y 30 mins
 Final: 7:05

6) Inicio: 8:15
 Transcurrido: 2 hrs y 25 mins
 Final: 10:40

7) Inicio: 4:10
 Transcurrido: 2 hrs y 55 mins
 Final: 7:05

8) Inicio: 4:00
 Transcurrido: 2 hrs y 20 mins
 Final: 6:20

Respuestas

1. 12:10
2. 6:40
3. 9:05
4. 10:45
5. 5:35
6. 8:15
7. 4:10
8. 4:00



Resuelve cada problema.

Respuestas

1) Inicio: _____
 Transcurrido: 2 hrs y 30 mins
 Final: 12:05

1. _____

2) Inicio: _____
 Transcurrido: 1 hr y 45 mins
 Final: 2:35

2. _____

3) Inicio: _____
 Transcurrido: 1 hr y 25 mins
 Final: 11:40

3. _____

4) Inicio: _____
 Transcurrido: 1 hr y 45 mins
 Final: 8:10

4. _____

5) Inicio: _____
 Transcurrido: 1 hr y 15 mins
 Final: 10:25

5. _____

6) Inicio: _____
 Transcurrido: 2 hrs y 15 mins
 Final: 2:00

6. _____

7) Inicio: _____
 Transcurrido: 1 hr y 40 mins
 Final: 2:00

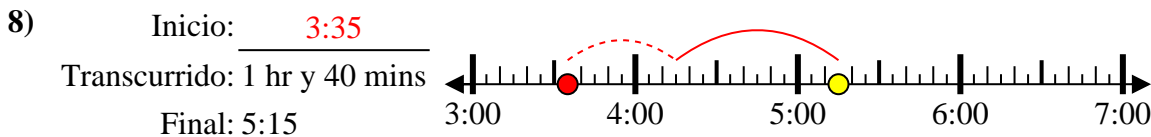
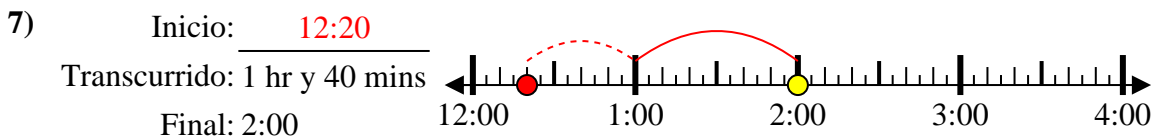
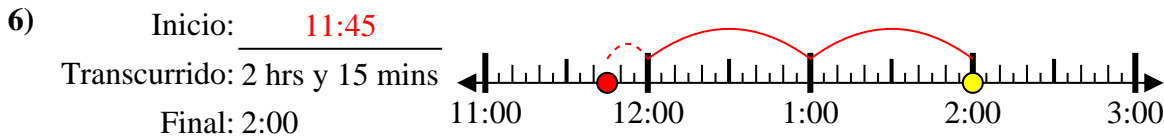
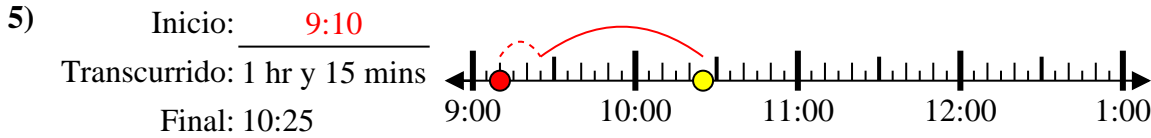
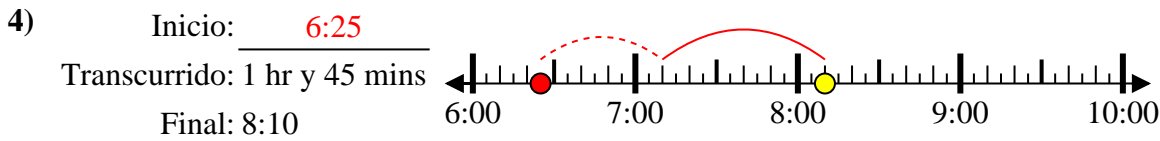
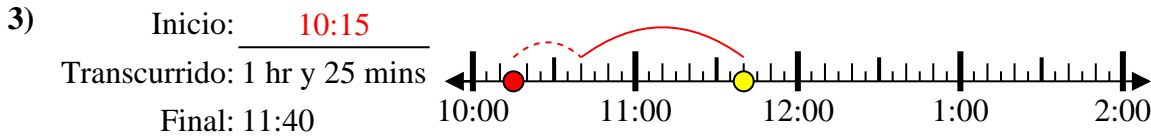
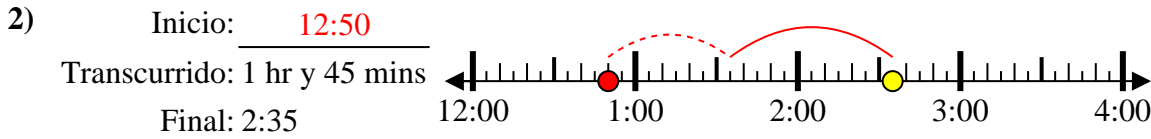
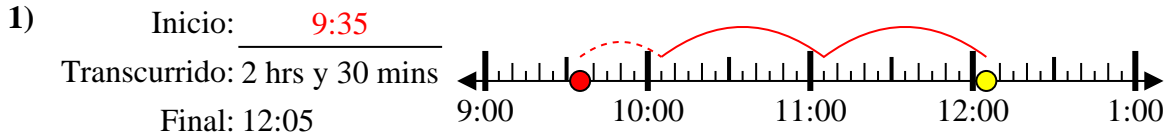
7. _____

8) Inicio: _____
 Transcurrido: 1 hr y 40 mins
 Final: 5:15

8. _____



Resuelve cada problema.



Respuestas

1. 9:35

2. 12:50

3. 10:15

4. 6:25

5. 9:10

6. 11:45

7. 12:20

8. 3:35



Resuelve cada problema.

1) Inicio: _____
 Transcurrido: 2 hrs y 20 mins
 Final: 9:25

2) Inicio: _____
 Transcurrido: 2 hrs y 20 mins
 Final: 7:45

3) Inicio: _____
 Transcurrido: 1 hr y 35 mins
 Final: 5:50

4) Inicio: _____
 Transcurrido: 2 hrs y 40 mins
 Final: 2:45

5) Inicio: _____
 Transcurrido: 1 hr y 45 mins
 Final: 11:50

6) Inicio: _____
 Transcurrido: 2 hrs y 15 mins
 Final: 2:00

7) Inicio: _____
 Transcurrido: 1 hr y 40 mins
 Final: 7:05

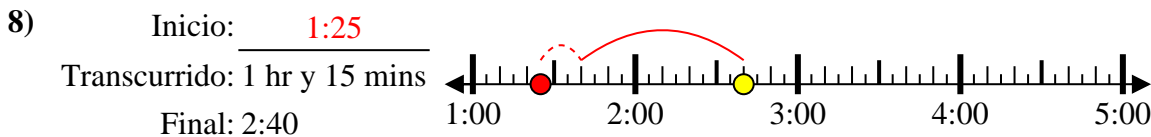
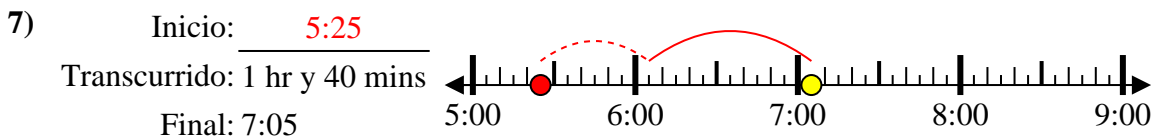
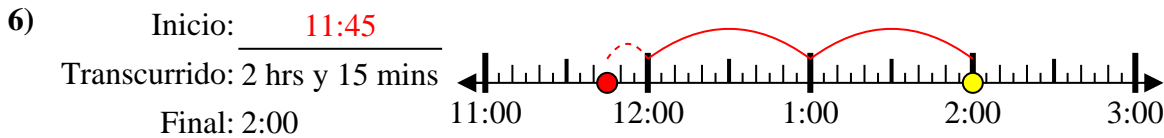
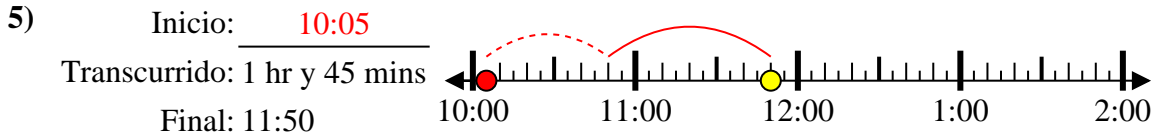
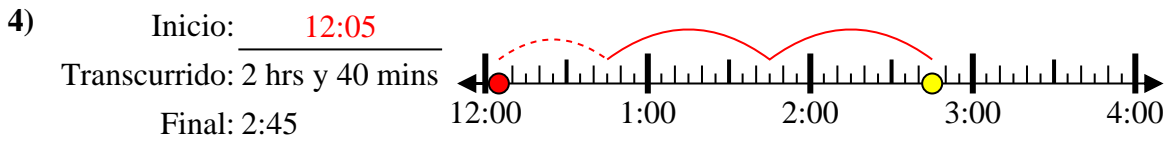
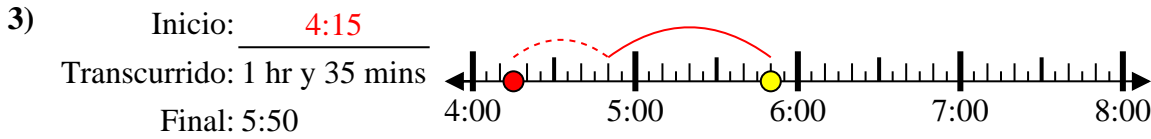
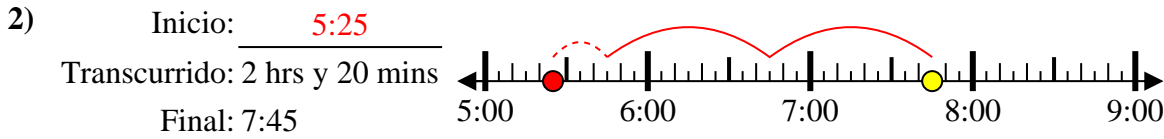
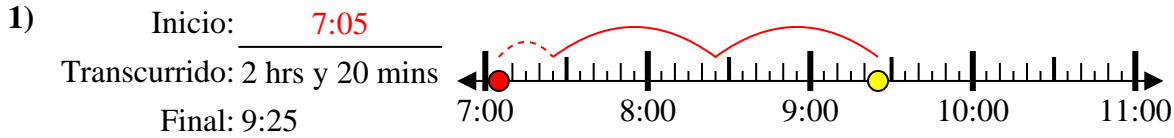
8) Inicio: _____
 Transcurrido: 1 hr y 15 mins
 Final: 2:40

Respuestas

1. _____
2. _____
3. _____
4. _____
5. _____
6. _____
7. _____
8. _____



Resuelve cada problema.



Respuestas

1. 7:05

2. 5:25

3. 4:15

4. 12:05

5. 10:05

6. 11:45

7. 5:25

8. 1:25



Resuelve cada problema.

Respuestas

1) Inicio: _____
 Transcurrido: 1 hr y 35 mins
 Final: 1:50

1. _____

2) Inicio: _____
 Transcurrido: 1 hr y 25 mins
 Final: 12:55

2. _____

3) Inicio: _____
 Transcurrido: 1 hr y 35 mins
 Final: 6:45

3. _____

4) Inicio: _____
 Transcurrido: 1 hr y 10 mins
 Final: 12:10

4. _____

5) Inicio: _____
 Transcurrido: 1 hr y 10 mins
 Final: 1:40

5. _____

6) Inicio: _____
 Transcurrido: 1 hr y 25 mins
 Final: 2:05

6. _____

7) Inicio: _____
 Transcurrido: 1 hr y 50 mins
 Final: 11:30

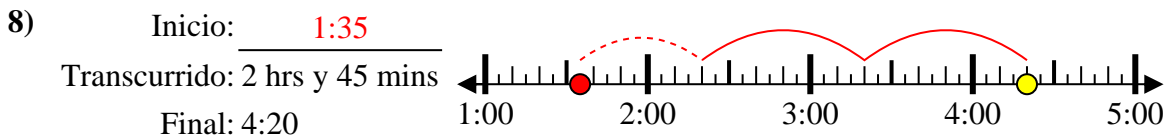
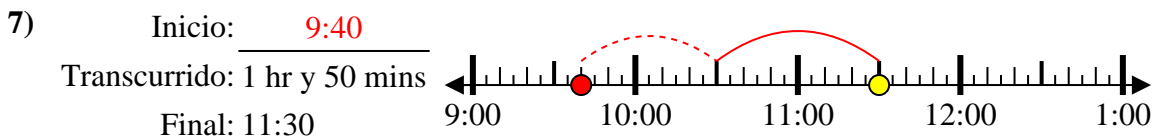
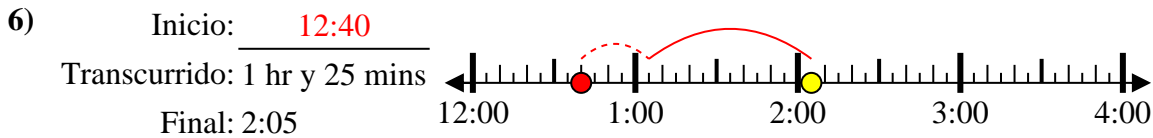
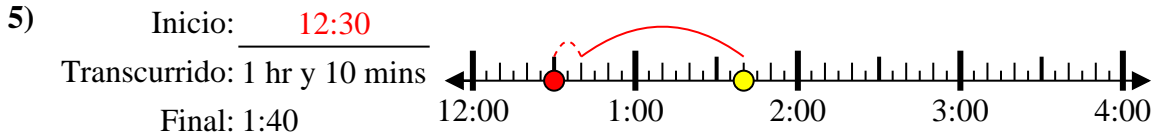
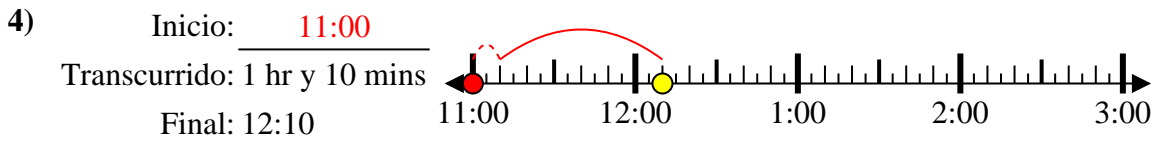
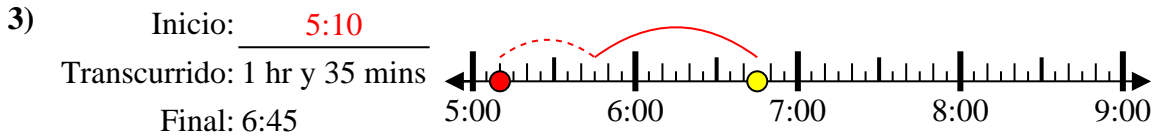
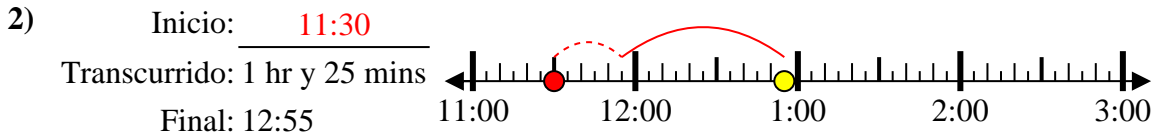
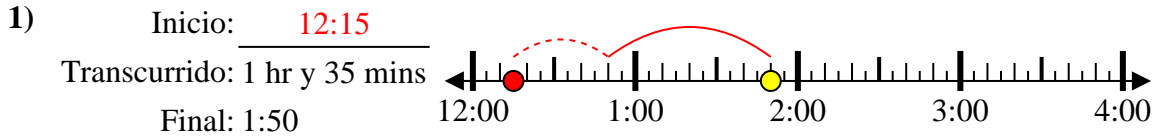
7. _____

8) Inicio: _____
 Transcurrido: 2 hrs y 45 mins
 Final: 4:20

8. _____



Resuelve cada problema.



Respuestas

1. 12:15

2. 11:30

3. 5:10

4. 11:00

5. 12:30

6. 12:40

7. 9:40

8. 1:35



Resuelve cada problema.

Respuestas

1) Inicio: _____
 Transcurrido: 2 hrs y 30 mins
 Final: 1:20

1. _____

2) Inicio: _____
 Transcurrido: 1 hr y 25 mins
 Final: 6:35

2. _____

3) Inicio: _____
 Transcurrido: 1 hr y 35 mins
 Final: 1:15

3. _____

4) Inicio: _____
 Transcurrido: 2 hrs y 15 mins
 Final: 6:35

4. _____

5) Inicio: _____
 Transcurrido: 2 hrs y 25 mins
 Final: 7:40

5. _____

6) Inicio: _____
 Transcurrido: 2 hrs y 35 mins
 Final: 12:55

6. _____

7) Inicio: _____
 Transcurrido: 2 hrs y 50 mins
 Final: 3:35

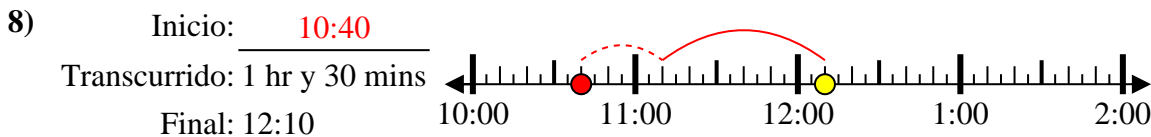
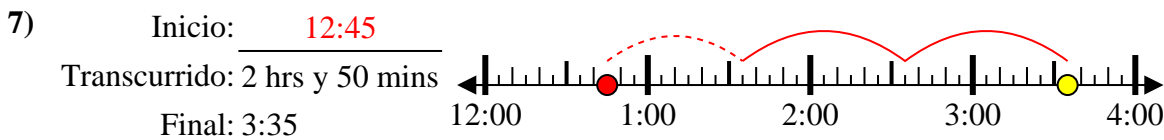
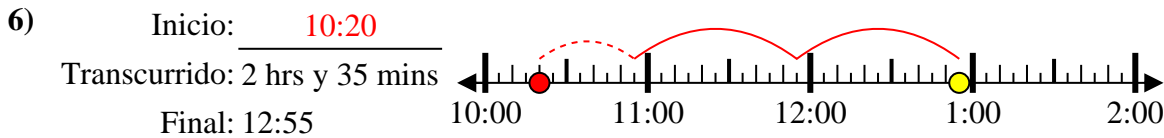
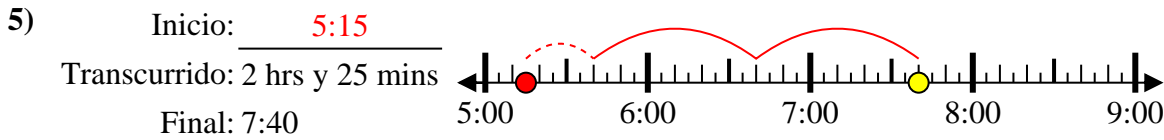
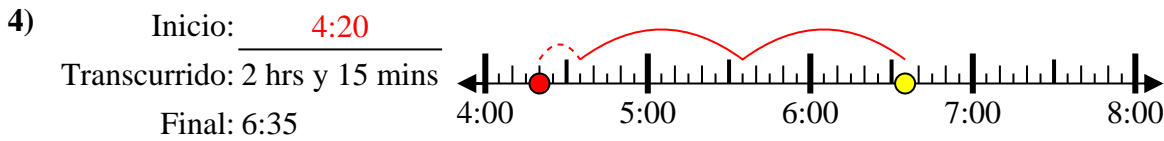
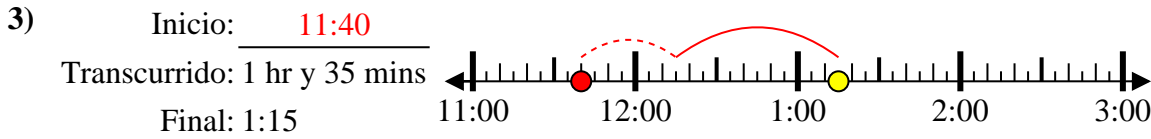
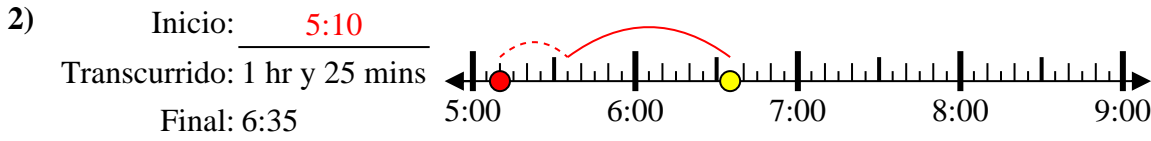
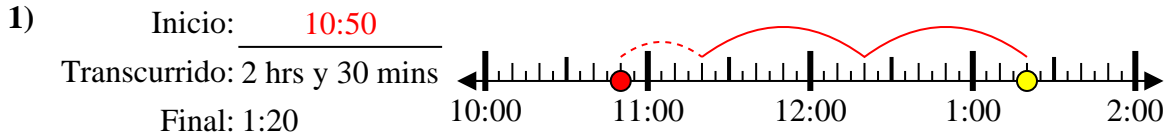
7. _____

8) Inicio: _____
 Transcurrido: 1 hr y 30 mins
 Final: 12:10

8. _____



Resuelve cada problema.



Respuestas

1. 10:50

2. 5:10

3. 11:40

4. 4:20

5. 5:15

6. 10:20

7. 12:45

8. 10:40



Resuelve cada problema.

Respuestas

1) Inicio: _____
 Transcurrido: 1 hr y 25 mins
 Final: 10:45

1. _____

2) Inicio: _____
 Transcurrido: 2 hrs y 55 mins
 Final: 4:55

2. _____

3) Inicio: _____
 Transcurrido: 2 hrs y 15 mins
 Final: 9:55

3. _____

4) Inicio: _____
 Transcurrido: 1 hr y 10 mins
 Final: 8:25

4. _____

5) Inicio: _____
 Transcurrido: 2 hrs y 25 mins
 Final: 1:40

5. _____

6) Inicio: _____
 Transcurrido: 1 hr y 25 mins
 Final: 6:55

6. _____

7) Inicio: _____
 Transcurrido: 2 hrs y 40 mins
 Final: 2:40

7. _____

8) Inicio: _____
 Transcurrido: 1 hr y 20 mins
 Final: 1:35

8. _____



Resuelve cada problema.

1) Inicio: 9:20
 Transcurrido: 1 hr y 25 mins
 Final: 10:45

2) Inicio: 2:00
 Transcurrido: 2 hrs y 55 mins
 Final: 4:55

3) Inicio: 7:40
 Transcurrido: 2 hrs y 15 mins
 Final: 9:55

4) Inicio: 7:15
 Transcurrido: 1 hr y 10 mins
 Final: 8:25

5) Inicio: 11:15
 Transcurrido: 2 hrs y 25 mins
 Final: 1:40

6) Inicio: 5:30
 Transcurrido: 1 hr y 25 mins
 Final: 6:55

7) Inicio: 12:00
 Transcurrido: 2 hrs y 40 mins
 Final: 2:40

8) Inicio: 12:15
 Transcurrido: 1 hr y 20 mins
 Final: 1:35

Respuestas

1. 9:20
2. 2:00
3. 7:40
4. 7:15
5. 11:15
6. 5:30
7. 12:00
8. 12:15