



Resuelve cada problema.

Respuestas

1) Inicio: _____
 Transcurrido: 1 hr y 40 mins
 Final: 11:05

1. _____

2) Inicio: _____
 Transcurrido: 1 hr y 40 mins
 Final: 4:55

2. _____

3) Inicio: _____
 Transcurrido: 1 hr y 20 mins
 Final: 12:10

3. _____

4) Inicio: _____
 Transcurrido: 2 hrs y 35 mins
 Final: 2:10

4. _____

5) Inicio: _____
 Transcurrido: 2 hrs y 10 mins
 Final: 8:35

5. _____

6) Inicio: _____
 Transcurrido: 1 hr y 40 mins
 Final: 9:45

6. _____

7) Inicio: _____
 Transcurrido: 1 hr y 50 mins
 Final: 5:20

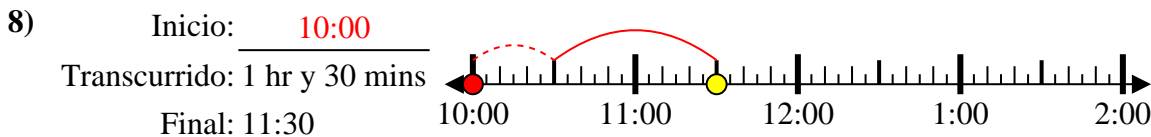
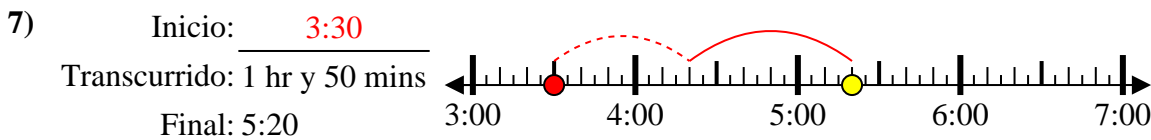
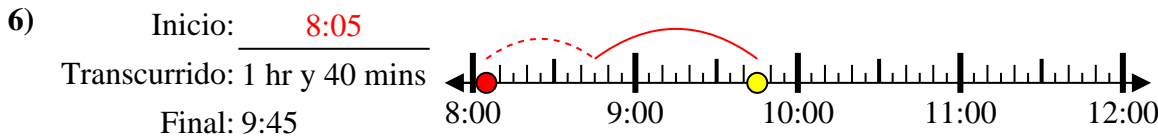
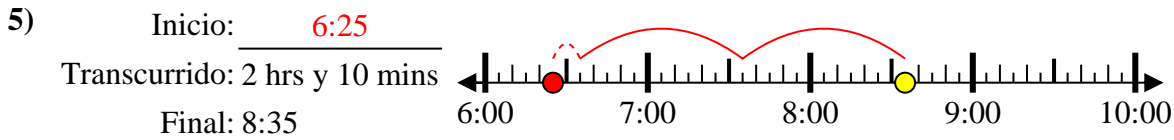
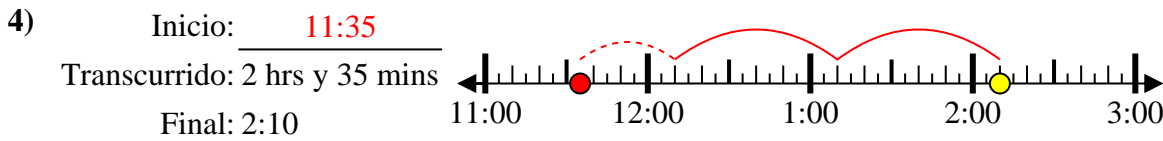
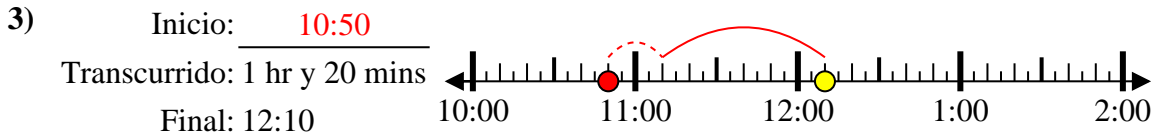
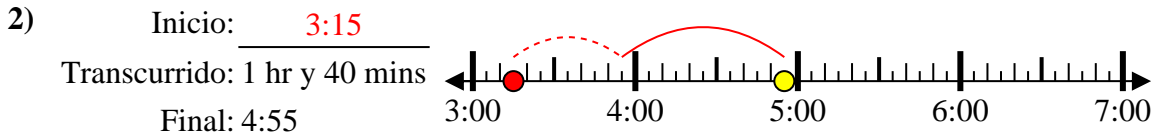
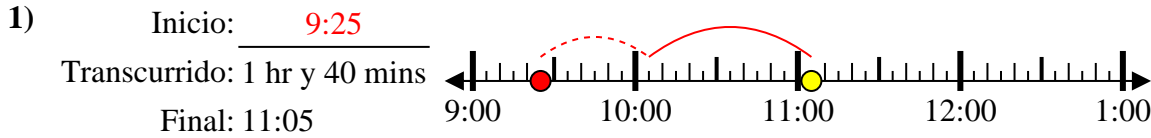
7. _____

8) Inicio: _____
 Transcurrido: 1 hr y 30 mins
 Final: 11:30

8. _____



Resuelve cada problema.



Respuestas

1. 9:25

2. 3:15

3. 10:50

4. 11:35

5. 6:25

6. 8:05

7. 3:30

8. 10:00