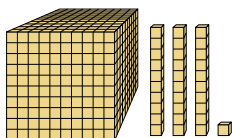




Resuelve cada problema.

Respuestas

1)



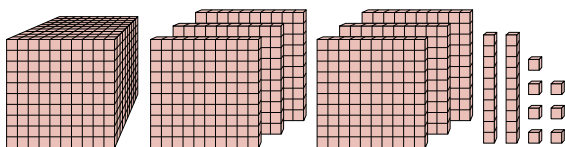
¿Qué dígito está en la posición de decenas en el número de arriba?

1. _____

2. _____

3. _____

2)



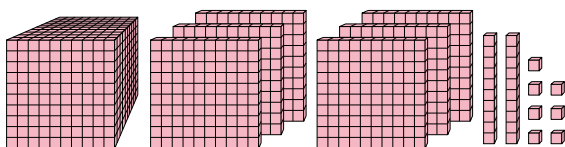
¿Qué dígito está en la posición de miles en el número de arriba?

4. _____

5. _____

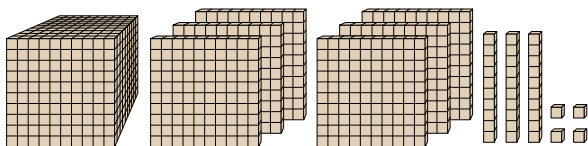
6. _____

3)



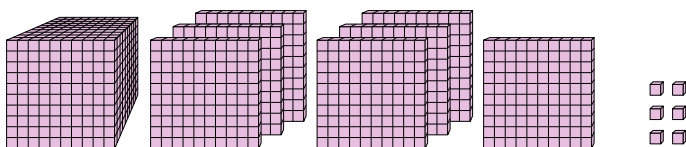
¿Qué dígito está en la posición de centenas en el número de arriba?

4)



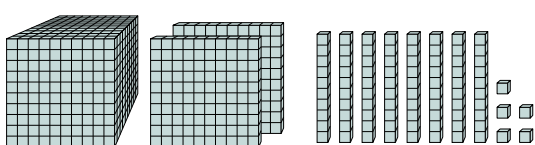
¿Qué dígito está en la posición de decenas en el número de arriba?

5)



¿Qué dígito está en la posición de decenas en el número de arriba?

6)



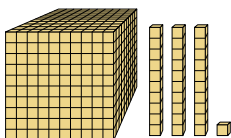
¿Qué dígito está en la posición de unos en el número de arriba?



Resuelve cada problema.

Respuestas

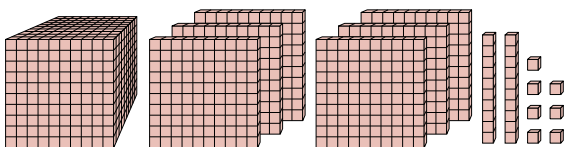
1)



¿Qué dígito está en la posición de decenas en el número de arriba?

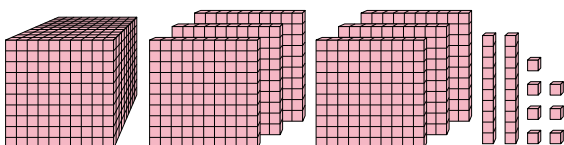
1. **3**2. **1**3. **6**4. **3**5. **0**6. **5**

2)



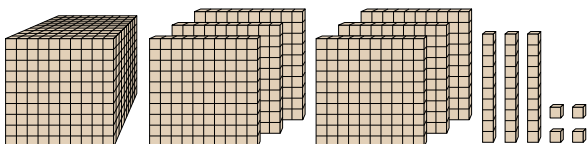
¿Qué dígito está en la posición de miles en el número de arriba?

3)



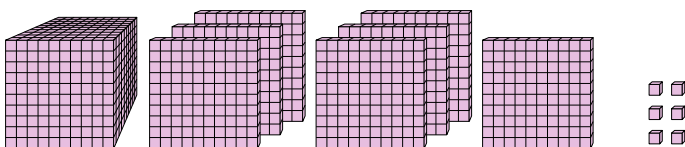
¿Qué dígito está en la posición de centenas en el número de arriba?

4)



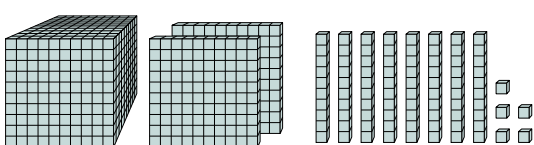
¿Qué dígito está en la posición de decenas en el número de arriba?

5)



¿Qué dígito está en la posición de decenas en el número de arriba?

6)



¿Qué dígito está en la posición de unos en el número de arriba?