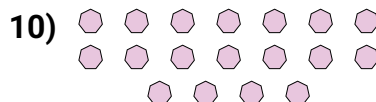


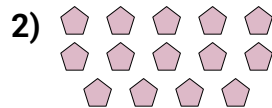




Determinar si el número de figuras en la caja es par o impar.



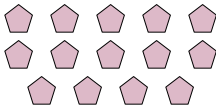
Respuestas

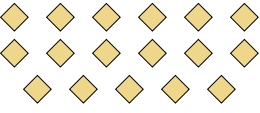
1. _____
2. _____
3. _____
4. _____
5. _____
6. _____
7. _____
8. _____
9. _____
10. _____

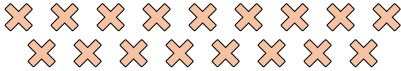



Determinar si el número de figuras en la caja es par o impar.


1) 
11

2) 
14


3) 
17


4) 
17

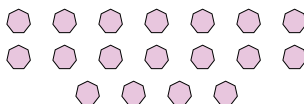
5) 
15

6) 
7

7) 
7

8) 
18

9) 
7

10) 
18

Respuestas

1. **Impar**
2. **Par**
3. **Impar**
4. **Impar**
5. **Impar**
6. **Impar**
7. **Impar**
8. **Par**
9. **Impar**
10. **Par**