




Comparar el número de formas.

Respuestas

1)




¿Hay más  o más ?

A. 

B. 

2)

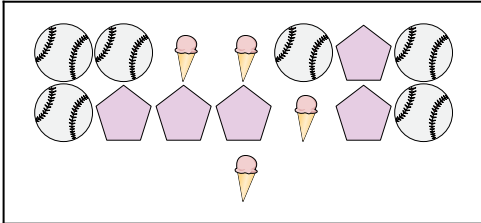


¿Hay menos  o menos ?

A. 


B. 

3)




¿Hay menos  o menos ?

A. 

B. 

4)




¿Hay más  o más ?

A. 

B. 

5)




¿Hay menos  o menos ?

A. 

B. 

6)



¿Hay menos  o menos ?

A. 

B. 

1. _____

2. _____

3. _____

4. _____

5. _____


6. _____



Comparar el número de formas.


Respuestas

1)




¿Hay más  o más ?

A. 

B. 

2)



¿Hay menos  o menos ?

A. 

B. 

1. **B**

2. **B**

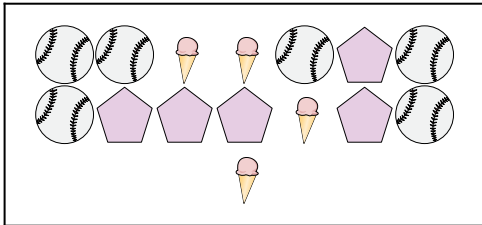
3. **B**

4. **A**

5. **B**


6. **A**

3)

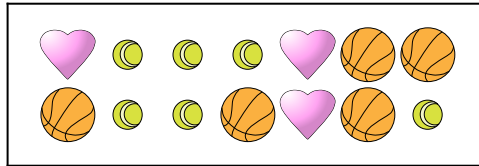


¿Hay menos  o menos ?

A. 

B. 

4)




¿Hay más  o más ?

A. 

B. 

5)




¿Hay menos  o menos ?

A. 

B. 

6)



¿Hay menos  o menos ?

A. 

B. 