





Comparar el número de formas.

Respuestas




¿Hay menos o menos ?

- A.
- B.



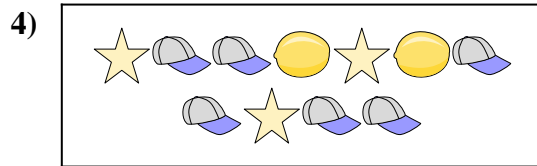
¿Hay más o más ?

- A.
- B.




¿Hay más o más ?

- A.
- B.




¿Hay más o más ?

- A.
- B.



¿Hay menos o menos ?

- A.
- B.




¿Hay menos o menos ?

- A.
- B.

- 1. _____
- 2. _____
- 3. _____
- 4. _____
- 5. _____
- 6. _____



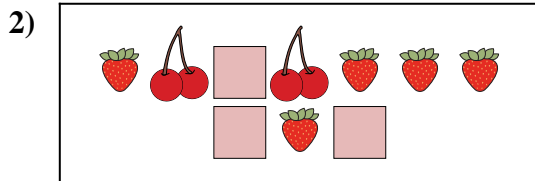
Comparar el número de formas.



¿Hay menos o menos ?

A.


B.



¿Hay más o más ?

A.

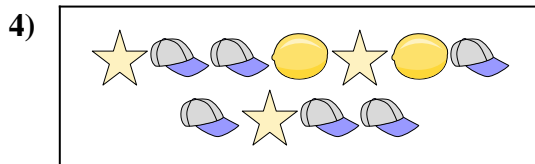
B.



¿Hay más o más ?

A.


B.



¿Hay más o más ?

A.

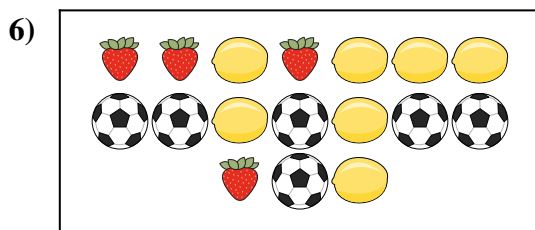
B.



¿Hay menos o menos ?

A.

B.



¿Hay menos o menos ?

A.

B.

Respuestas

1. **A**

2. **A**

3. **A**

4. **B**

5. **B**

6. **A**