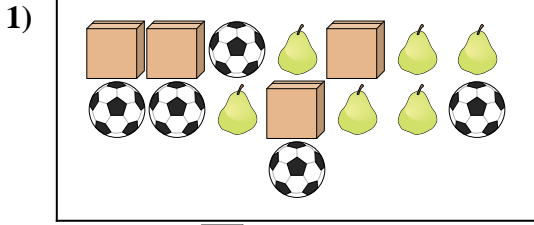




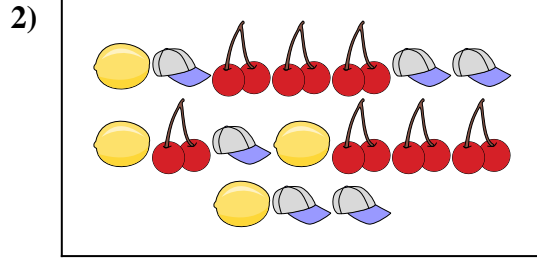
Comparar el número de formas.

Respuestas



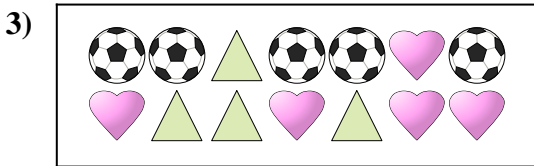
¿Hay más o más ?

- A.
- B.




¿Hay menos o menos ?

- A.
- B.




¿Hay menos o menos ?

- A.
- B.



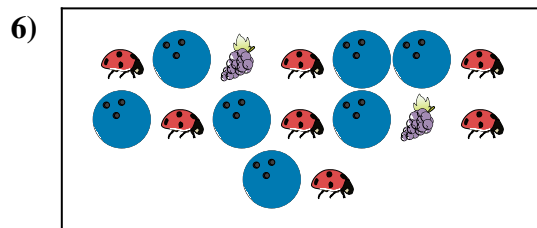
¿Hay menos o menos ?

- A.
- B.



¿Hay más o más ?

- A.
- B.



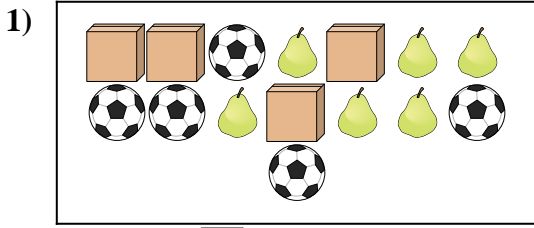
¿Hay más o más ?

- A.
- B.

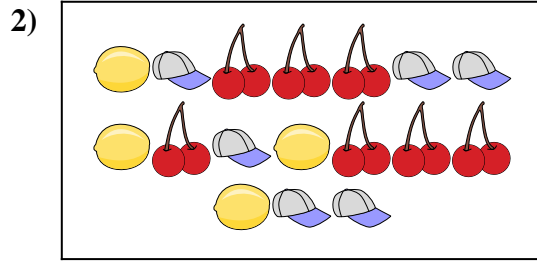
- 1. _____
- 2. _____
- 3. _____
- 4. _____
- 5. _____
- 6. _____



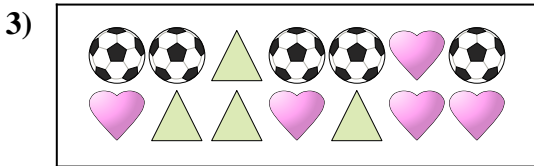
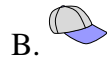
Comparar el número de formas.




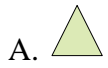
¿Hay más o más ?




¿Hay menos o menos ?



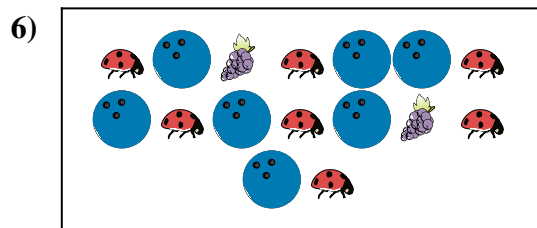
¿Hay menos o menos ?



¿Hay menos o menos ?



¿Hay más o más ?



¿Hay más o más ?



Respuestas

1. **B**

2. **A**

3. **A**

4. **A**

5. **B**

6. **B**