




Comparar el número de formas.

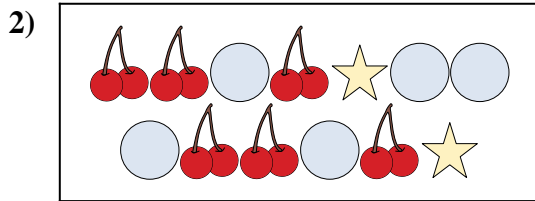
Respuestas



¿Hay más o más ?

A.

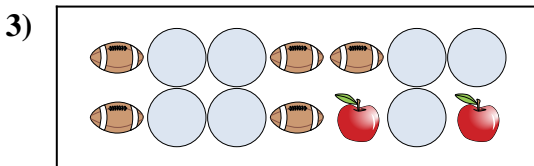
B.



¿Hay más o más ?

A.

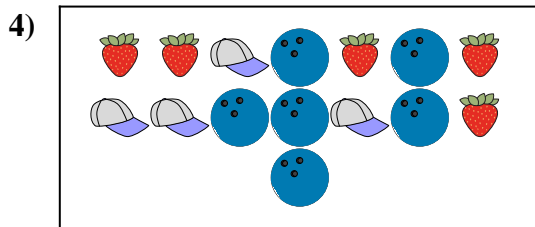
B.



¿Hay más o más ?

A.


B.



¿Hay más o más ?

A.


B.



¿Hay menos o menos ?

A.

B.



¿Hay menos o menos ?

A.


B.

- 1. _____
- 2. _____
- 3. _____
- 4. _____
- 5. _____
- 6. _____



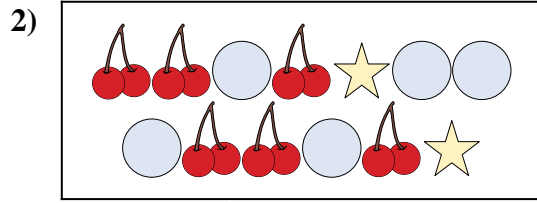
Comparar el número de formas.

Respuestas



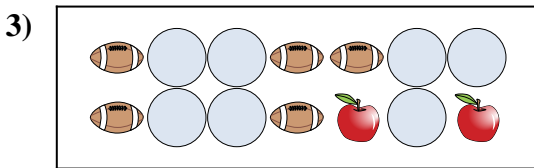
¿Hay más o más ?

- A.
- B.



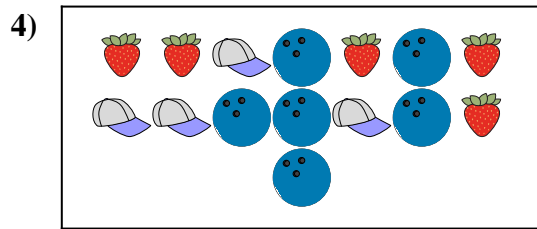
¿Hay más o más ?

- A.
- B.




¿Hay más o más ?

- A.
- B.




¿Hay más o más ?

- A.
- B.



¿Hay menos o menos ?

- A.
- B.



¿Hay menos o menos ?


- A.
- B.

- 1. **B**
- 2. **A**
- 3. **A**
- 4. **B**
- 5. **B**
- 6. **B**




Comparar el número de formas.

Respuestas




¿Hay más o más ?

- A.
- B.




¿Hay más o más ?

- A.
- B.



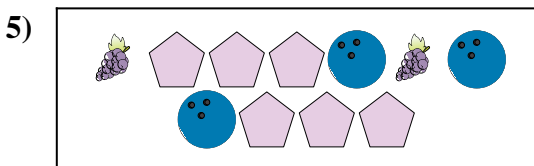
¿Hay menos o menos ?

- A.
- B.




¿Hay menos o menos ?

- A.
- B.



¿Hay menos o menos ?

- A.
- B.



¿Hay menos o menos ?


- A.
- B.

- 1. _____
- 2. _____
- 3. _____
- 4. _____
- 5. _____
- 6. _____




Comparar el número de formas.

Respuestas




¿Hay más o más ?

- A.
- B.




¿Hay más o más ?

- A.
- B.



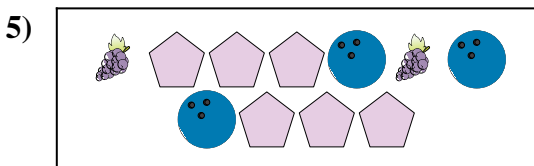
¿Hay menos o menos ?

- A.
- B.




¿Hay menos o menos ?

- A.
- B.



¿Hay menos o menos ?

- A.
- B.



¿Hay menos o menos ?


- A.
- B.

- 1. **B**
- 2. **B**
- 3. **A**
- 4. **A**
- 5. **B**
- 6. **B**




Comparar el número de formas.

Respuestas



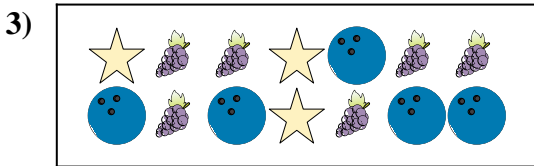
¿Hay más o más ?

- A.
- B.




¿Hay menos o menos ?

- A.
- B.




¿Hay menos o menos ?

- A.
- B.



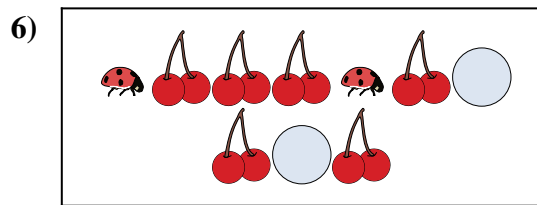
¿Hay menos o menos ?

- A.
- B.



¿Hay más o más ?

- A.
- B.



¿Hay menos o menos ?

- A.
- B.

1. _____

2. _____

3. _____

4. _____


5. _____

6. _____




Comparar el número de formas.

Respuestas



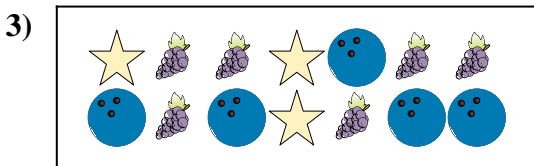
¿Hay más o más ?

- A.
- B.




¿Hay menos o menos ?

- A.
- B.




¿Hay menos o menos ?

- A.
- B.



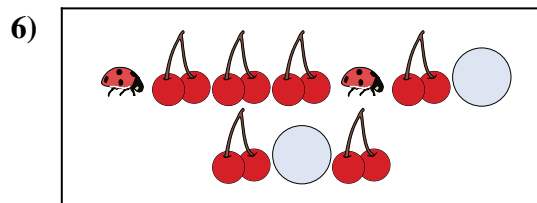
¿Hay menos o menos ?

- A.
- B.



¿Hay más o más ?

- A.
- B.



¿Hay menos o menos ?

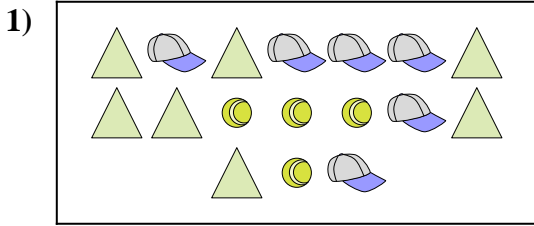
- A.
- B.

- 1. **B**
- 2. **B**
- 3. **B**
- 4. **B**
- 5. **A**
- 6. **B**




Comparar el número de formas.

Respuestas




¿Hay más o más ?

- A.
- B.



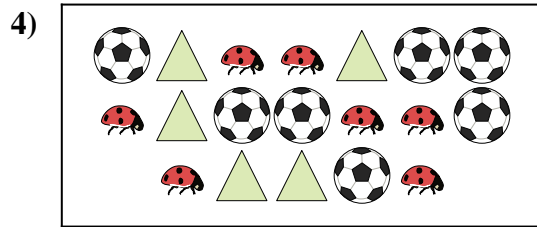
¿Hay menos o menos ?

- A.
- B.



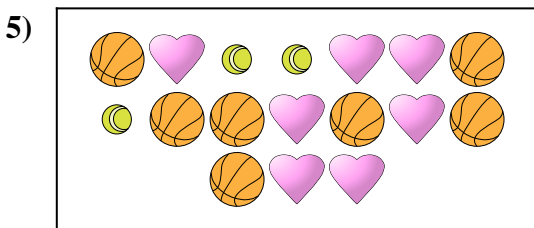
¿Hay menos o menos ?

- A.
- B.




¿Hay menos o menos ?

- A.
- B.



¿Hay menos o menos ?

- A.
- B.



¿Hay menos o menos ?

- A.
- B.

1. _____

2. _____

3. _____

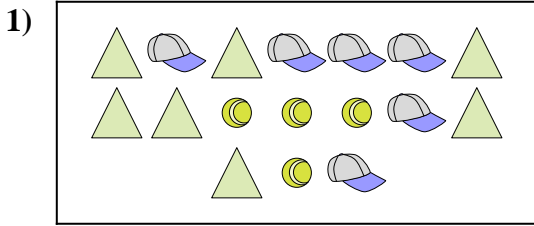
4. _____

5. _____

6. _____




Comparar el número de formas.




¿Hay más o más ?

- A.
- B.



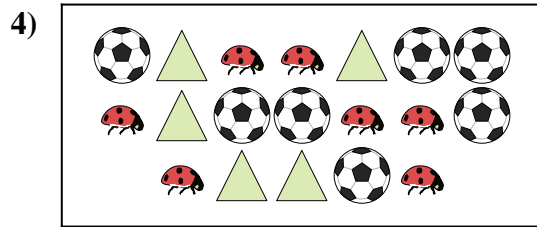
¿Hay menos o menos ?

- A.
- B.



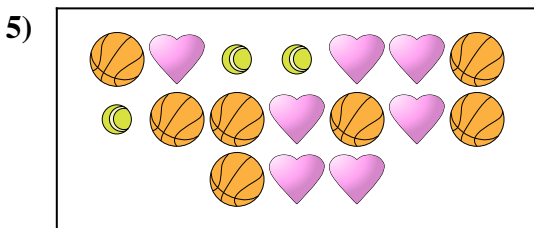
¿Hay menos o menos ?

- A.
- B.




¿Hay menos o menos ?

- A.
- B.



¿Hay menos o menos ?

- A.
- B.



¿Hay menos o menos ?

- A.
- B.


Respuestas

- 1. **A**
- 2. **A**
- 3. **A**
- 4. **A**
- 5. **A**
- 6. **A**




Comparar el número de formas.

Respuestas




¿Hay más o más ?

- A.
- B.




¿Hay más o más ?

- A.
- B.




¿Hay menos o menos ?

- A.
- B.



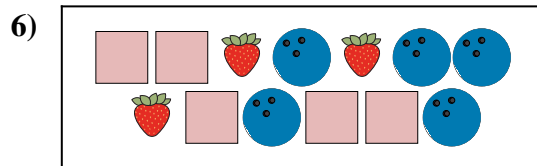
¿Hay más o más ?

- A.
- B.



¿Hay menos o menos ?

- A.
- B.



¿Hay más o más ?

- A.
- B.

1. _____

2. _____

3. _____


4. _____

5. _____

6. _____




Comparar el número de formas.



¿Hay más o más ?

A.


B.



¿Hay más o más ?

A.


B.



¿Hay menos o menos ?

A.


B.



¿Hay más o más ?

A.

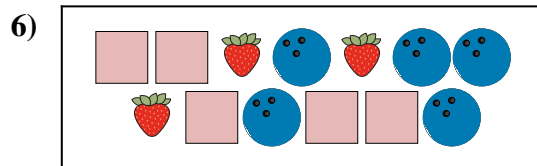
B.



¿Hay menos o menos ?

A.

B.



¿Hay más o más ?

A.

B.

Respuestas

1. **A**

2. **B**

3. **B**

4. **B**


5. **A**

6. **B**




Comparar el número de formas.

Respuestas




¿Hay menos o menos ?

- A.
- B.



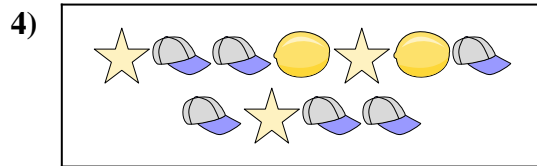
¿Hay más o más ?

- A.
- B.




¿Hay más o más ?

- A.
- B.




¿Hay más o más ?

- A.
- B.



¿Hay menos o menos ?

- A.
- B.




¿Hay menos o menos ?

- A.
- B.


- 1. _____
- 2. _____
- 3. _____
- 4. _____
- 5. _____
- 6. _____




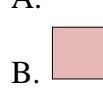
Comparar el número de formas.



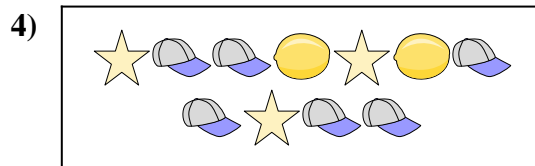
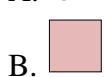
¿Hay menos o menos ?




¿Hay más o más ?



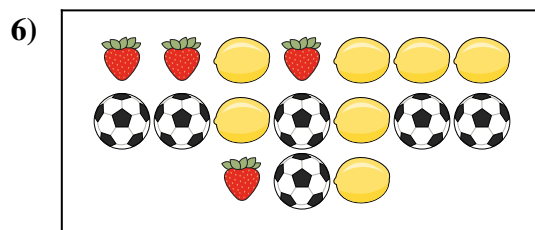
¿Hay más o más ?



¿Hay más o más ?



¿Hay menos o menos ?



¿Hay menos o menos ?



Respuestas

1. **A**

2. **A**

3. **A**

4. **B**

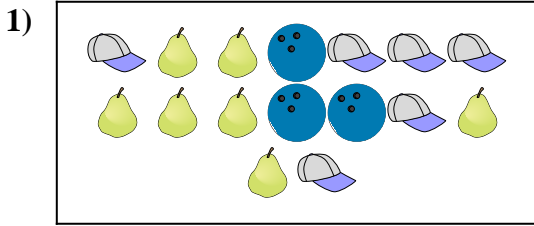
5. **B**

6. **A**






Comparar el número de formas.

Respuestas





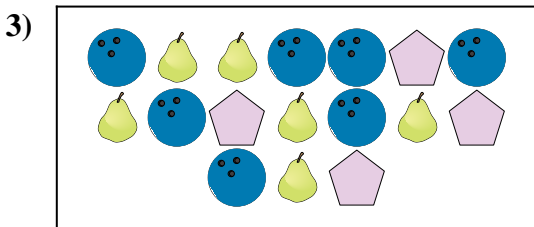
¿Hay menos  o menos  ?

- A. 
- B. 





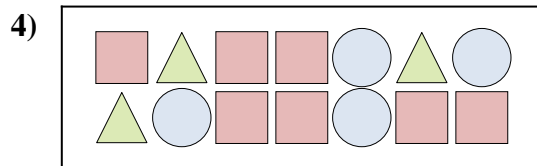
¿Hay menos  o menos  ?



- A. 
- B. 






¿Hay más  o más  ?



- A. 
- B. 






¿Hay más  o más  ?

- A. 
- B. 





¿Hay más  o más  ?

- A. 
- B. 



¿Hay menos  o menos  ?

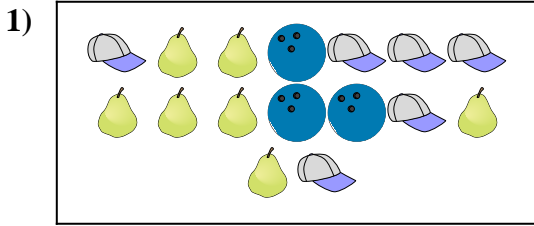
- A. 
- B. 

- 1. _____
- 2. _____
- 3. _____
- 4. _____
- 5. _____
- 6. _____






Comparar el número de formas.

Respuestas





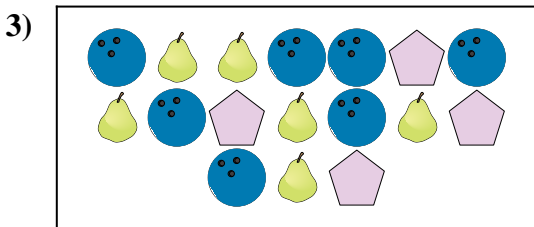
¿Hay menos  o menos  ?

- A. 
- B. 





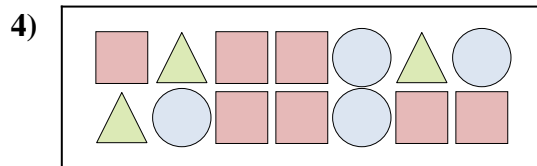
¿Hay menos  o menos  ?



- A. 
- B. 






¿Hay más  o más  ?



- A. 
- B. 






¿Hay más  o más  ?

- A. 
- B. 





¿Hay más  o más  ?

- A. 
- B. 



¿Hay menos  o menos  ?

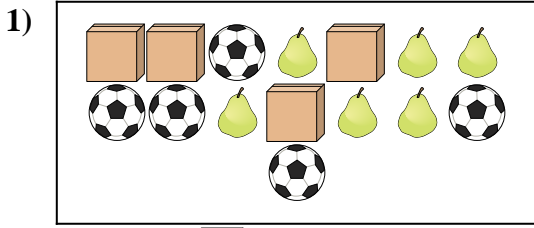
- A. 
- B. 

- 1. **B**
- 2. **A**
- 3. **A**
- 4. **A**
- 5. **A**
- 6. **A**



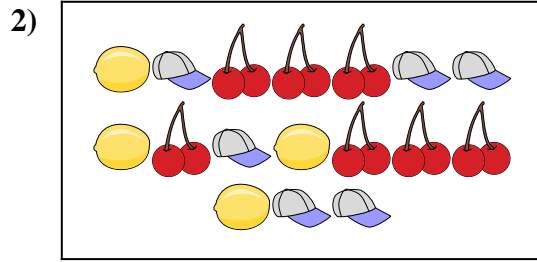
Comparar el número de formas.

Respuestas



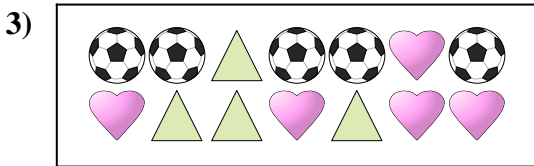
¿Hay más o más ?

- A.
- B.




¿Hay menos o menos ?

- A.
- B.




¿Hay menos o menos ?

- A.
- B.



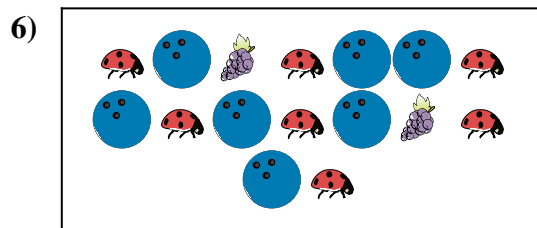
¿Hay menos o menos ?

- A.
- B.



¿Hay más o más ?

- A.
- B.



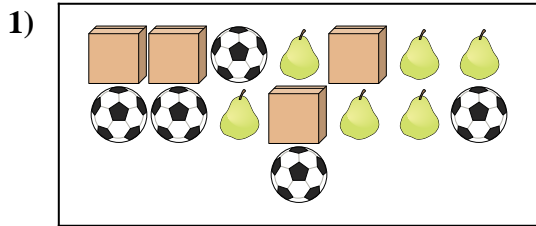
¿Hay más o más ?

- A.
- B.

- 1. _____
- 2. _____
- 3. _____
- 4. _____
- 5. _____
- 6. _____



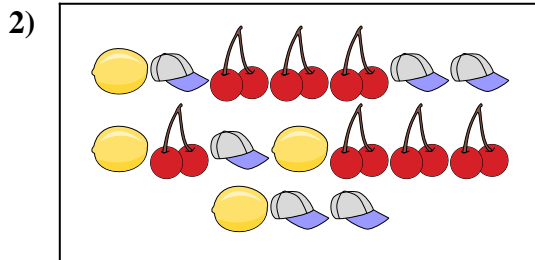
Comparar el número de formas.



¿Hay más o más ?

A.

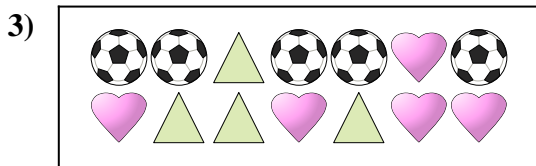
B.



¿Hay menos o menos ?

A.


B.



¿Hay menos o menos ?

A.


B.



¿Hay menos o menos ?

A.

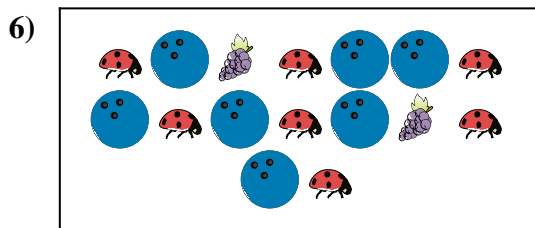
B.



¿Hay más o más ?

A.

B.



¿Hay más o más ?

A.

B.

Respuestas

1. **B**

2. **A**

3. **A**

4. **A**


5. **B**

6. **B**




Comparar el número de formas.

Respuestas



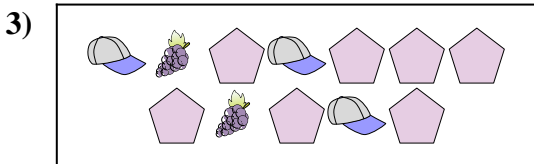
¿Hay más o más ?

- A.
- B.



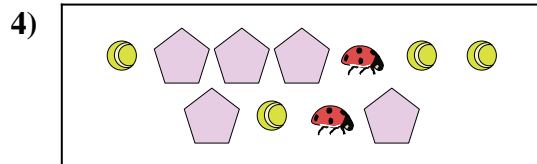
¿Hay menos o menos ?

- A.
- B.



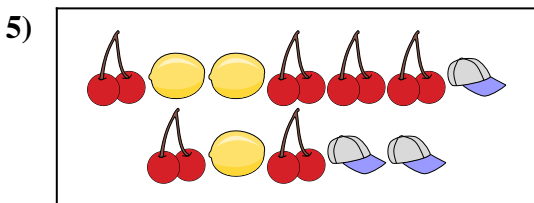
¿Hay menos o menos ?

- A.
- B.



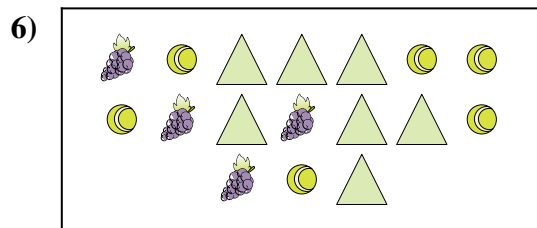
¿Hay más o más ?

- A.
- B.



¿Hay menos o menos ?

- A.
- B.



¿Hay más o más ?

- A.
- B.

1. _____

2. _____

3. _____

4. _____


5. _____

6. _____




Comparar el número de formas.

Respuestas



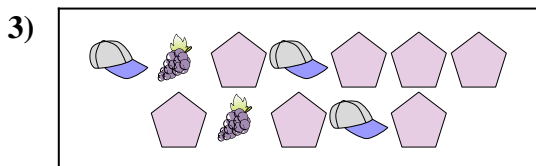
¿Hay más o más ?

- A.
- B.



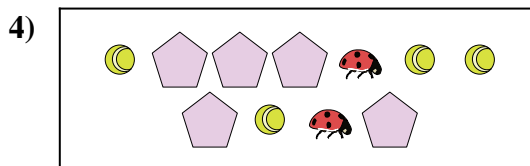
¿Hay menos o menos ?

- A.
- B.



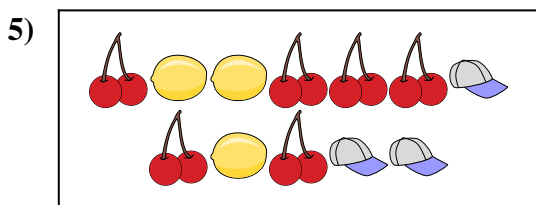
¿Hay menos o menos ?

- A.
- B.



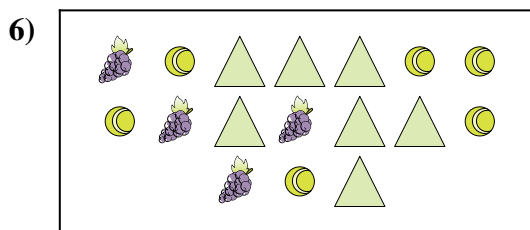
¿Hay más o más ?

- A.
- B.



¿Hay menos o menos ?

- A.
- B.



¿Hay más o más ?

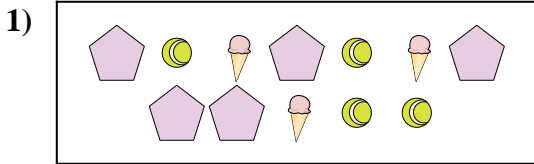
- A.
- B.

- 1. **A**
- 2. **A**
- 3. **B**
- 4. **B**
- 5. **B**
- 6. **B**




Comparar el número de formas.

Respuestas



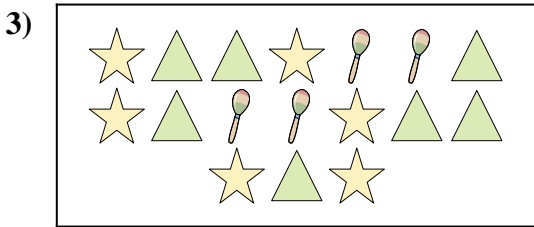
¿Hay menos o menos ?

- A.
- B.




¿Hay más o más ?

- A.
- B.




¿Hay menos o menos ?

- A.
- B.



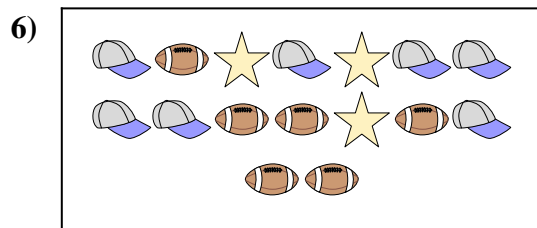
¿Hay menos o menos ?

- A.
- B.



¿Hay menos o menos ?

- A.
- B.



¿Hay menos o menos ?

- A.
- B.

1. _____

2. _____

3. _____

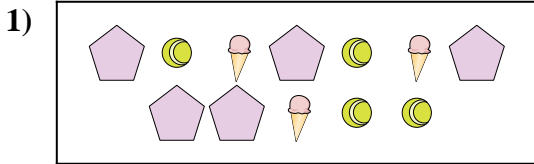
4. _____

5. _____

6. _____




Comparar el número de formas.



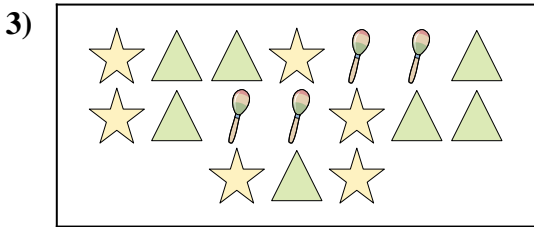
¿Hay menos o menos ?

- A.
- B.




¿Hay más o más ?

- A.
- B.




¿Hay menos o menos ?

- A.
- B.



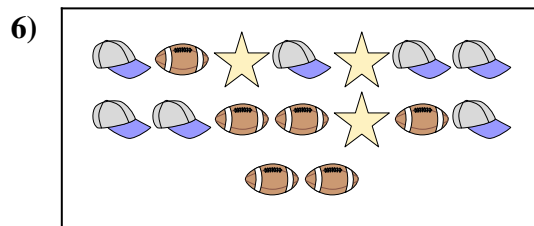
¿Hay menos o menos ?

- A.
- B.



¿Hay menos o menos ?

- A.
- B.



¿Hay menos o menos ?

- A.
- B.

Respuestas

- 1. **A**
- 2. **A**
- 3. **B**
- 4. **B**
- 5. **A**
- 6. **B**