

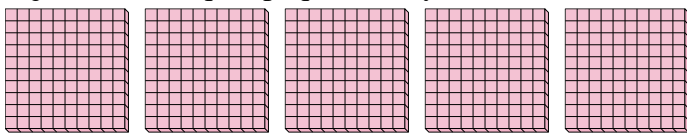


Utilizar los grupos para responder a cada pregunta.

Respuestas

1) a. ¿Cuántos grupos de 100 hay?

b. ¿Cuántos bloques pequeños hay en total?



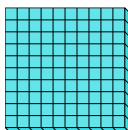
1. ____

2. ____

3. ____

2) a. ¿Cuántos grupos de 100 hay?

b. ¿Cuántos bloques pequeños hay en total?



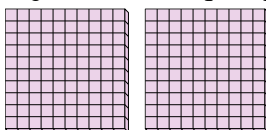
4. ____

5. ____

6. ____

3) a. ¿Cuántos grupos de 100 hay?

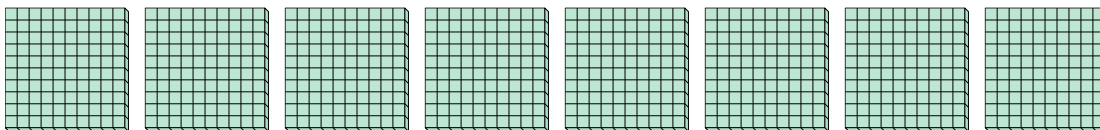
b. ¿Cuántos bloques pequeños hay en total?



7. ____


4) a. ¿Cuántos grupos de 100 hay?

b. ¿Cuántos bloques pequeños hay en total?



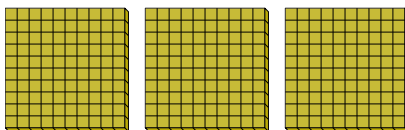
5) a. ¿Cuántos grupos de 100 hay?

b. ¿Cuántos bloques pequeños hay en total?




6) a. ¿Cuántos grupos de 100 hay?

b. ¿Cuántos bloques pequeños hay en total?



7) a. ¿Cuántos grupos de 100 hay?

b. ¿Cuántos bloques pequeños hay en total?



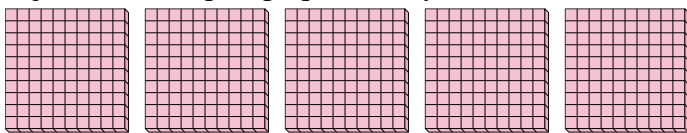


Utilizar los grupos para responder a cada pregunta.

Respuestas

1) a. ¿Cuántos grupos de 100 hay?

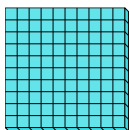
b. ¿Cuántos bloques pequeños hay en total?



1. 5 500

2) a. ¿Cuántos grupos de 100 hay?


b. ¿Cuántos bloques pequeños hay en total?



2. 1 100

3) a. ¿Cuántos grupos de 100 hay?

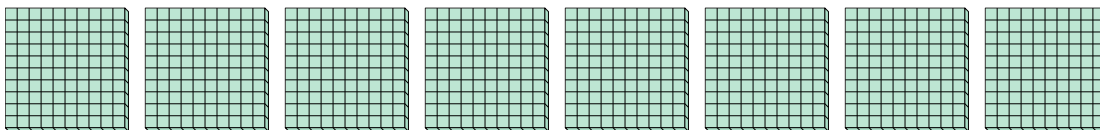
b. ¿Cuántos bloques pequeños hay en total?



3. 2 200

4) a. ¿Cuántos grupos de 100 hay?


b. ¿Cuántos bloques pequeños hay en total?



4. 8 800

5) a. ¿Cuántos grupos de 100 hay?

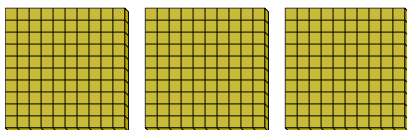
b. ¿Cuántos bloques pequeños hay en total?



5. 4 400

6) a. ¿Cuántos grupos de 100 hay?


b. ¿Cuántos bloques pequeños hay en total?



6. 3 300

7) a. ¿Cuántos grupos de 100 hay?

b. ¿Cuántos bloques pequeños hay en total?



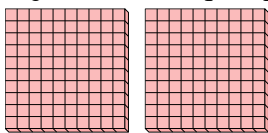
7. 7 700



Utilizar los grupos para responder a cada pregunta.

Respuestas

- 1) a. ¿Cuántos grupos de 100 hay?
 b. ¿Cuántos bloques pequeños hay en total?

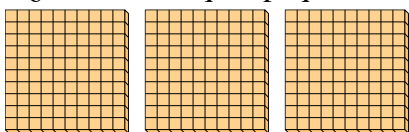


1. ____

2. ____

3. ____

- 2) a. ¿Cuántos grupos de 100 hay?
 b. ¿Cuántos bloques pequeños hay en total?

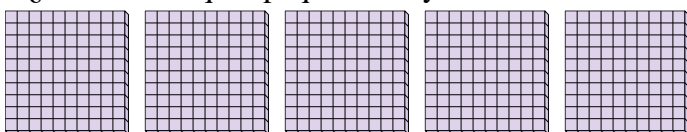


4. ____

5. ____

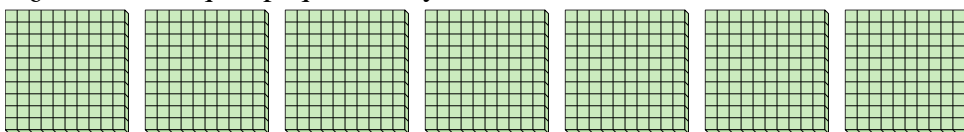
6. ____

- 3) a. ¿Cuántos grupos de 100 hay?
 b. ¿Cuántos bloques pequeños hay en total?




7. ____

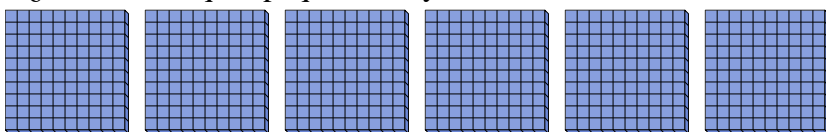
- 4) a. ¿Cuántos grupos de 100 hay?
 b. ¿Cuántos bloques pequeños hay en total?




- 5) a. ¿Cuántos grupos de 100 hay?
 b. ¿Cuántos bloques pequeños hay en total?



- 6) a. ¿Cuántos grupos de 100 hay?
 b. ¿Cuántos bloques pequeños hay en total?



- 7) a. ¿Cuántos grupos de 100 hay?
 b. ¿Cuántos bloques pequeños hay en total?

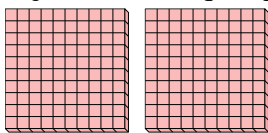




Utilizar los grupos para responder a cada pregunta.

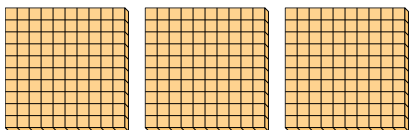
Respuestas

- 1) a. ¿Cuántos grupos de 100 hay?
- b. ¿Cuántos bloques pequeños hay en total?



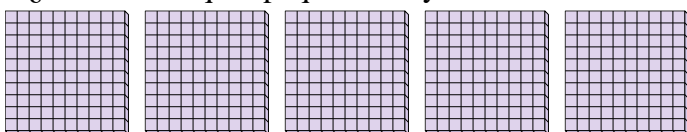
1. 2 200

- 2) a. ¿Cuántos grupos de 100 hay?
- b. ¿Cuántos bloques pequeños hay en total?



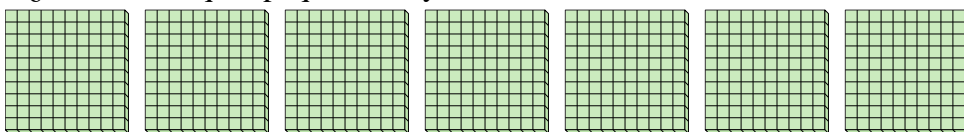
2. 3 300

- 3) a. ¿Cuántos grupos de 100 hay?
- b. ¿Cuántos bloques pequeños hay en total?




3. 5 500

- 4) a. ¿Cuántos grupos de 100 hay?
- b. ¿Cuántos bloques pequeños hay en total?



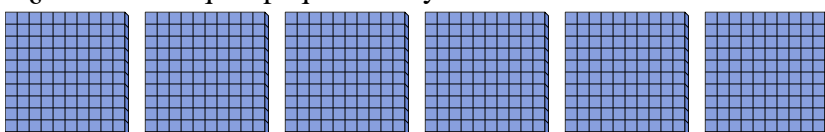
4. 7 700

- 5) a. ¿Cuántos grupos de 100 hay?
- b. ¿Cuántos bloques pequeños hay en total?




5. 8 800

- 6) a. ¿Cuántos grupos de 100 hay?
- b. ¿Cuántos bloques pequeños hay en total?



6. 6 600

- 7) a. ¿Cuántos grupos de 100 hay?
- b. ¿Cuántos bloques pequeños hay en total?



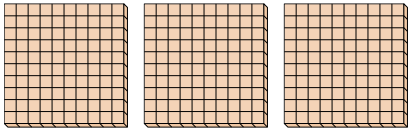
7. 9 900



Utilizar los grupos para responder a cada pregunta.

Respuestas

- 1) a. ¿Cuántos grupos de 100 hay?
 b. ¿Cuántos bloques pequeños hay en total?

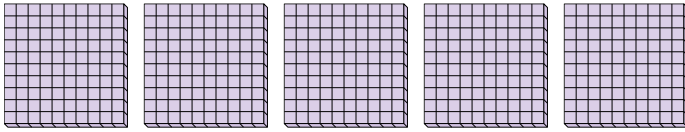


1. ____

2. ____

3. ____

- 2) a. ¿Cuántos grupos de 100 hay?
 b. ¿Cuántos bloques pequeños hay en total?

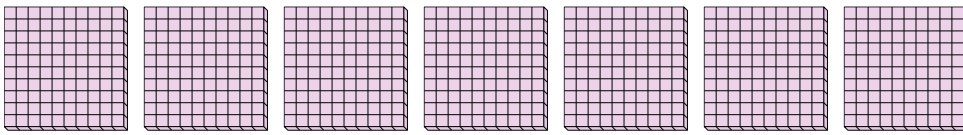


4. ____

5. ____

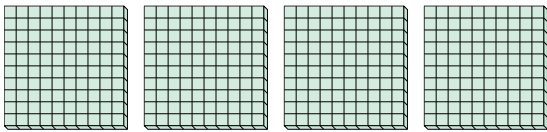
6. ____

- 3) a. ¿Cuántos grupos de 100 hay?
 b. ¿Cuántos bloques pequeños hay en total?




7. ____

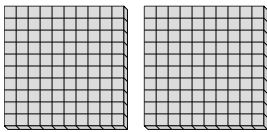
- 4) a. ¿Cuántos grupos de 100 hay?
 b. ¿Cuántos bloques pequeños hay en total?



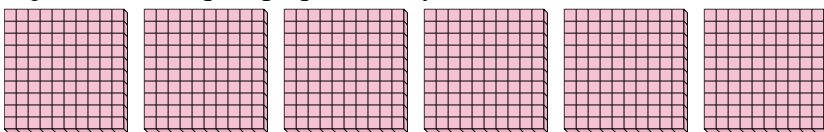
- 5) a. ¿Cuántos grupos de 100 hay?
 b. ¿Cuántos bloques pequeños hay en total?



- 6) a. ¿Cuántos grupos de 100 hay?
 b. ¿Cuántos bloques pequeños hay en total?



- 7) a. ¿Cuántos grupos de 100 hay?
 b. ¿Cuántos bloques pequeños hay en total?

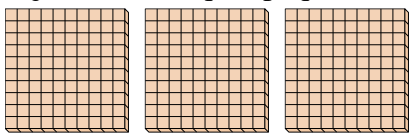




Utilizar los grupos para responder a cada pregunta.


Respuestas

- 1) a. ¿Cuántos grupos de 100 hay?
b. ¿Cuántos bloques pequeños hay en total?




1. **3** **300**

- 2) a. ¿Cuántos grupos de 100 hay?
b. ¿Cuántos bloques pequeños hay en total?



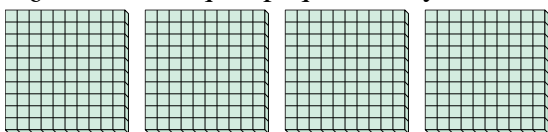
2. **5** **500**

- 3) a. ¿Cuántos grupos de 100 hay?
b. ¿Cuántos bloques pequeños hay en total?




3. **7** **700**

- 4) a. ¿Cuántos grupos de 100 hay?
b. ¿Cuántos bloques pequeños hay en total?




4. **4** **400**

- 5) a. ¿Cuántos grupos de 100 hay?
b. ¿Cuántos bloques pequeños hay en total?



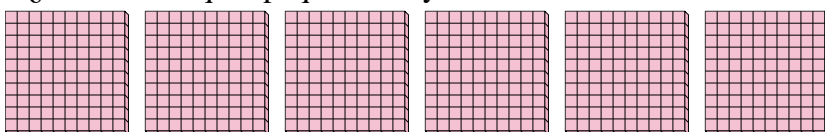
5. **9** **900**

- 6) a. ¿Cuántos grupos de 100 hay?
b. ¿Cuántos bloques pequeños hay en total?



6. **2** **200**

- 7) a. ¿Cuántos grupos de 100 hay?
b. ¿Cuántos bloques pequeños hay en total?



7. **6** **600**




Utilizar los grupos para responder a cada pregunta.

Respuestas

1) a. ¿Cuántos grupos de 100 hay?

b. ¿Cuántos bloques pequeños hay en total?




1. ____

2. ____

3. ____

2) a. ¿Cuántos grupos de 100 hay?

b. ¿Cuántos bloques pequeños hay en total?



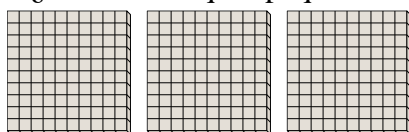
4. ____

5. ____

6. ____

3) a. ¿Cuántos grupos de 100 hay?

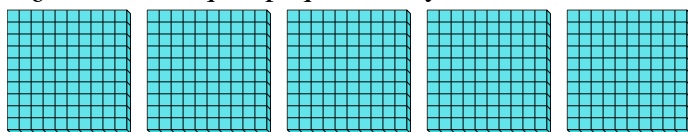
b. ¿Cuántos bloques pequeños hay en total?



7. ____

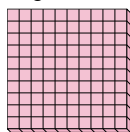
4) a. ¿Cuántos grupos de 100 hay?

b. ¿Cuántos bloques pequeños hay en total?



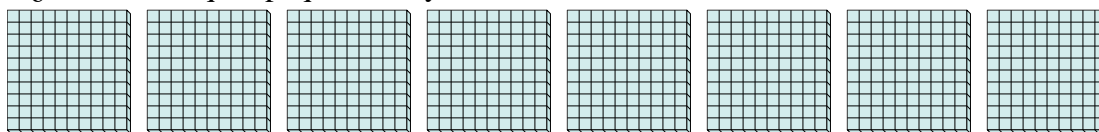
5) a. ¿Cuántos grupos de 100 hay?

b. ¿Cuántos bloques pequeños hay en total?




6) a. ¿Cuántos grupos de 100 hay?

b. ¿Cuántos bloques pequeños hay en total?



7) a. ¿Cuántos grupos de 100 hay?

b. ¿Cuántos bloques pequeños hay en total?






Utilizar los grupos para responder a cada pregunta.

Respuestas

1) a. ¿Cuántos grupos de 100 hay?


b. ¿Cuántos bloques pequeños hay en total?



1. 6 600

2) a. ¿Cuántos grupos de 100 hay?

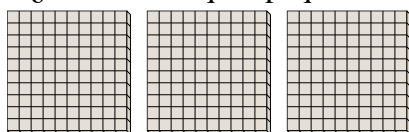
b. ¿Cuántos bloques pequeños hay en total?



2. 9 900

3) a. ¿Cuántos grupos de 100 hay?

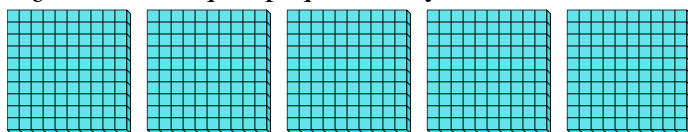
b. ¿Cuántos bloques pequeños hay en total?



3. 3 300

4) a. ¿Cuántos grupos de 100 hay?

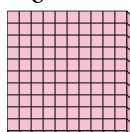
b. ¿Cuántos bloques pequeños hay en total?



4. 5 500

5) a. ¿Cuántos grupos de 100 hay?

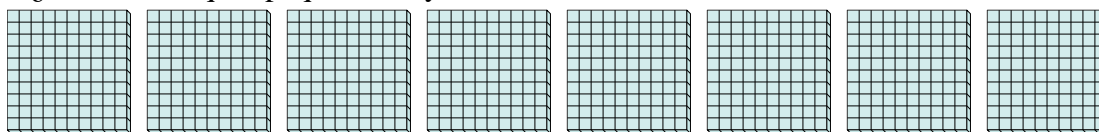
b. ¿Cuántos bloques pequeños hay en total?



5. 1 100

6) a. ¿Cuántos grupos de 100 hay?

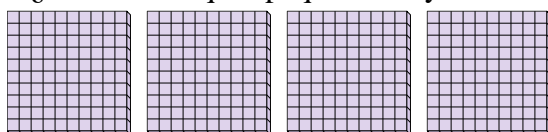
b. ¿Cuántos bloques pequeños hay en total?



6. 8 800

7) a. ¿Cuántos grupos de 100 hay?

b. ¿Cuántos bloques pequeños hay en total?



7. 4 400

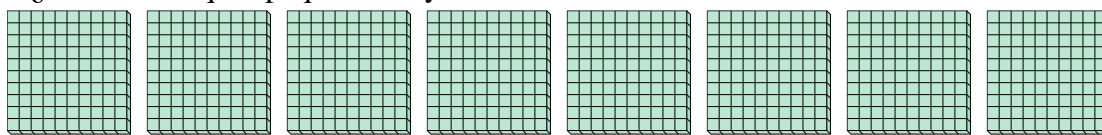


Utilizar los grupos para responder a cada pregunta.

Respuestas

1) a. ¿Cuántos grupos de 100 hay?

b. ¿Cuántos bloques pequeños hay en total?



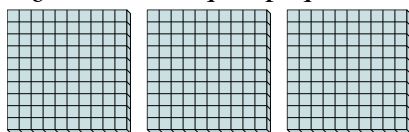
1. ____

2. ____

3. ____

2) a. ¿Cuántos grupos de 100 hay?

b. ¿Cuántos bloques pequeños hay en total?



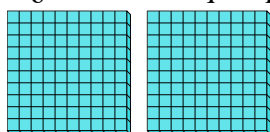
4. ____

5. ____

6. ____

3) a. ¿Cuántos grupos de 100 hay?

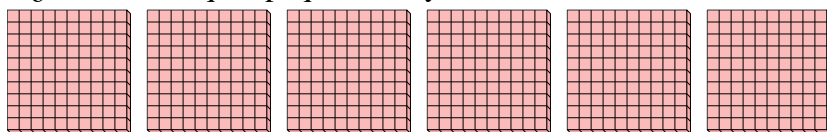
b. ¿Cuántos bloques pequeños hay en total?



7. ____


4) a. ¿Cuántos grupos de 100 hay?

b. ¿Cuántos bloques pequeños hay en total?



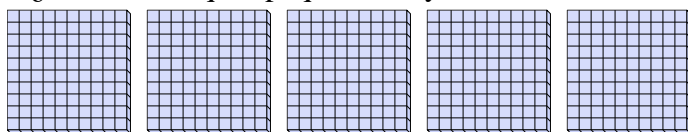
5) a. ¿Cuántos grupos de 100 hay?

b. ¿Cuántos bloques pequeños hay en total?



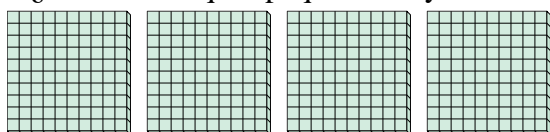
6) a. ¿Cuántos grupos de 100 hay?

b. ¿Cuántos bloques pequeños hay en total?



7) a. ¿Cuántos grupos de 100 hay?

b. ¿Cuántos bloques pequeños hay en total?



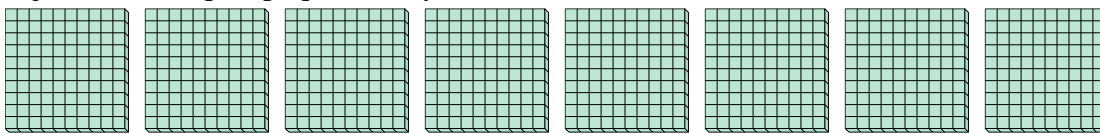


Utilizar los grupos para responder a cada pregunta.

Respuestas

1) a. ¿Cuántos grupos de 100 hay?

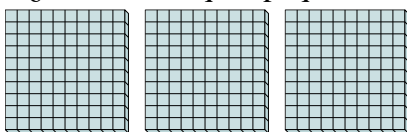
b. ¿Cuántos bloques pequeños hay en total?



1. **8** **800**

2) a. ¿Cuántos grupos de 100 hay?

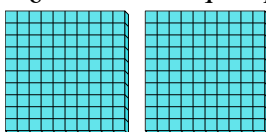
b. ¿Cuántos bloques pequeños hay en total?



2. **3** **300**

3) a. ¿Cuántos grupos de 100 hay?

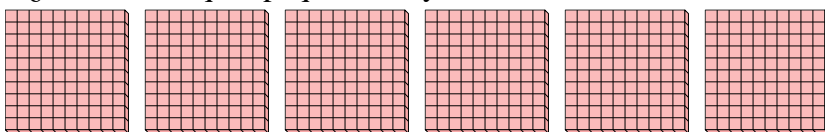
b. ¿Cuántos bloques pequeños hay en total?



3. **2** **200**

4) a. ¿Cuántos grupos de 100 hay?


b. ¿Cuántos bloques pequeños hay en total?



4. **6** **600**

5) a. ¿Cuántos grupos de 100 hay?

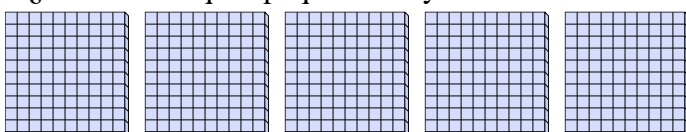
b. ¿Cuántos bloques pequeños hay en total?



5. **7** **700**

6) a. ¿Cuántos grupos de 100 hay?

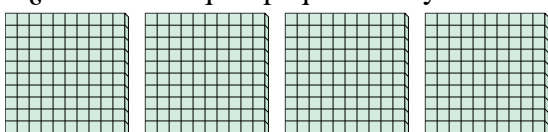
b. ¿Cuántos bloques pequeños hay en total?



6. **5** **500**

7) a. ¿Cuántos grupos de 100 hay?

b. ¿Cuántos bloques pequeños hay en total?



7. **4** **400**

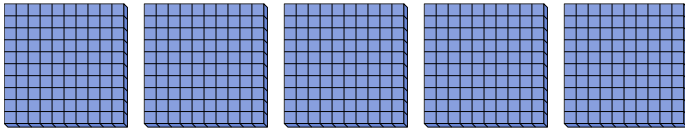


Utilizar los grupos para responder a cada pregunta.

Respuestas

1) a. ¿Cuántos grupos de 100 hay?

b. ¿Cuántos bloques pequeños hay en total?



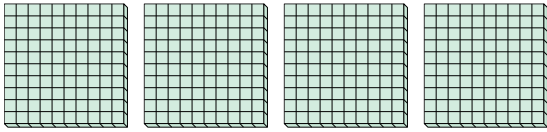
1. ____

2. ____

3. ____

2) a. ¿Cuántos grupos de 100 hay?

b. ¿Cuántos bloques pequeños hay en total?




4. ____

5. ____

6. ____

3) a. ¿Cuántos grupos de 100 hay?

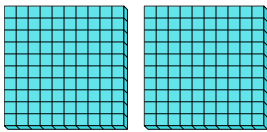
b. ¿Cuántos bloques pequeños hay en total?



7. ____

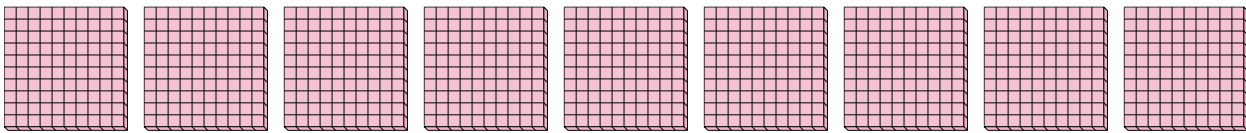
4) a. ¿Cuántos grupos de 100 hay?

b. ¿Cuántos bloques pequeños hay en total?



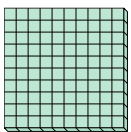
5) a. ¿Cuántos grupos de 100 hay?

b. ¿Cuántos bloques pequeños hay en total?



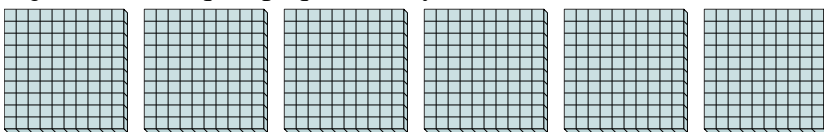
6) a. ¿Cuántos grupos de 100 hay?

b. ¿Cuántos bloques pequeños hay en total?



7) a. ¿Cuántos grupos de 100 hay?

b. ¿Cuántos bloques pequeños hay en total?

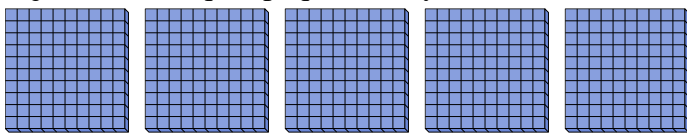




Utilizar los grupos para responder a cada pregunta.

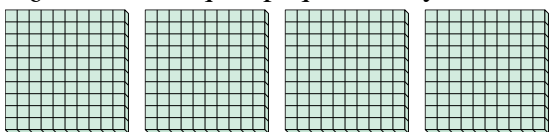
Respuestas

- 1) a. ¿Cuántos grupos de 100 hay?
b. ¿Cuántos bloques pequeños hay en total?



1. 5 500

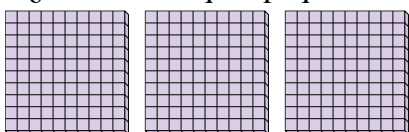
- 2) a. ¿Cuántos grupos de 100 hay?
b. ¿Cuántos bloques pequeños hay en total?



2. 4 400

3. 3 300

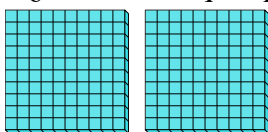
- 3) a. ¿Cuántos grupos de 100 hay?
b. ¿Cuántos bloques pequeños hay en total?



4. 2 200

5. 9 900


- 4) a. ¿Cuántos grupos de 100 hay?
b. ¿Cuántos bloques pequeños hay en total?




6. 1 100

7. 6 600

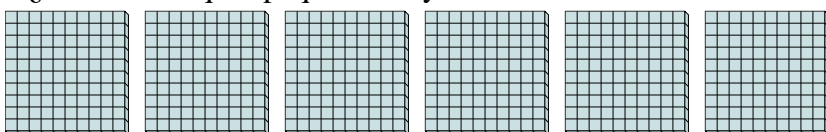
- 5) a. ¿Cuántos grupos de 100 hay?
b. ¿Cuántos bloques pequeños hay en total?



- 6) a. ¿Cuántos grupos de 100 hay?
b. ¿Cuántos bloques pequeños hay en total?



- 7) a. ¿Cuántos grupos de 100 hay?
b. ¿Cuántos bloques pequeños hay en total?






Utilizar los grupos para responder a cada pregunta.

Respuestas

- 1) a. ¿Cuántos grupos de 100 hay?
- b. ¿Cuántos bloques pequeños hay en total?

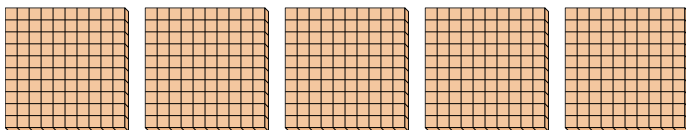


1. ____

2. ____

3. ____

- 2) a. ¿Cuántos grupos de 100 hay?
- b. ¿Cuántos bloques pequeños hay en total?




4. ____

5. ____


6. ____

- 3) a. ¿Cuántos grupos de 100 hay?
- b. ¿Cuántos bloques pequeños hay en total?




7. ____

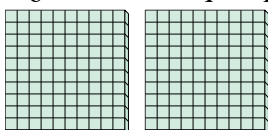
- 4) a. ¿Cuántos grupos de 100 hay?
- b. ¿Cuántos bloques pequeños hay en total?




- 5) a. ¿Cuántos grupos de 100 hay?
- b. ¿Cuántos bloques pequeños hay en total?



- 6) a. ¿Cuántos grupos de 100 hay?
- b. ¿Cuántos bloques pequeños hay en total?



- 7) a. ¿Cuántos grupos de 100 hay?
- b. ¿Cuántos bloques pequeños hay en total?






Utilizar los grupos para responder a cada pregunta.

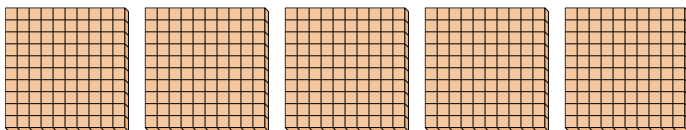
Respuestas

- 1) a. ¿Cuántos grupos de 100 hay?
b. ¿Cuántos bloques pequeños hay en total?



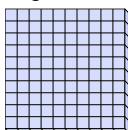
1. **4** **400**

- 2) a. ¿Cuántos grupos de 100 hay?
b. ¿Cuántos bloques pequeños hay en total?




2. **5** **500**

- 3) a. ¿Cuántos grupos de 100 hay?
b. ¿Cuántos bloques pequeños hay en total?




3. **1** **100**

- 4) a. ¿Cuántos grupos de 100 hay?
b. ¿Cuántos bloques pequeños hay en total?



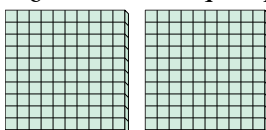
4. **8** **800**

- 5) a. ¿Cuántos grupos de 100 hay?
b. ¿Cuántos bloques pequeños hay en total?



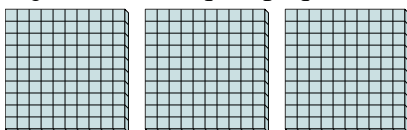
5. **9** **900**

- 6) a. ¿Cuántos grupos de 100 hay?
b. ¿Cuántos bloques pequeños hay en total?



6. **2** **200**

- 7) a. ¿Cuántos grupos de 100 hay?
b. ¿Cuántos bloques pequeños hay en total?



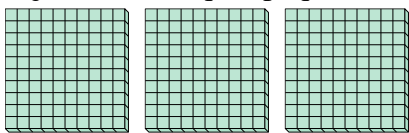
7. **3** **300**



Utilizar los grupos para responder a cada pregunta.

Respuestas

- 1) a. ¿Cuántos grupos de 100 hay?
 b. ¿Cuántos bloques pequeños hay en total?

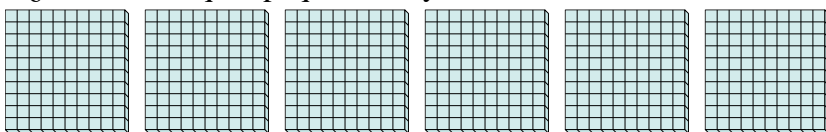


1. ____

2. ____

3. ____

- 2) a. ¿Cuántos grupos de 100 hay?
 b. ¿Cuántos bloques pequeños hay en total?




4. ____

5. ____


6. ____

- 3) a. ¿Cuántos grupos de 100 hay?
 b. ¿Cuántos bloques pequeños hay en total?

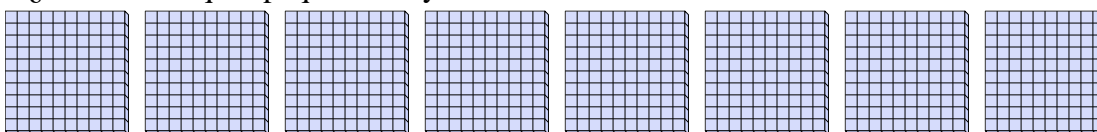


7. ____


- 4) a. ¿Cuántos grupos de 100 hay?
 b. ¿Cuántos bloques pequeños hay en total?



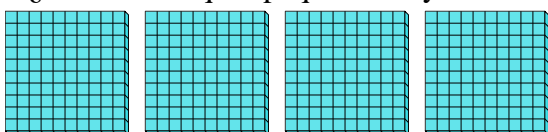
- 5) a. ¿Cuántos grupos de 100 hay?
 b. ¿Cuántos bloques pequeños hay en total?



- 6) a. ¿Cuántos grupos de 100 hay?
 b. ¿Cuántos bloques pequeños hay en total?



- 7) a. ¿Cuántos grupos de 100 hay?
 b. ¿Cuántos bloques pequeños hay en total?

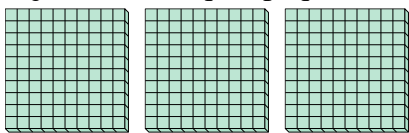




Utilizar los grupos para responder a cada pregunta.

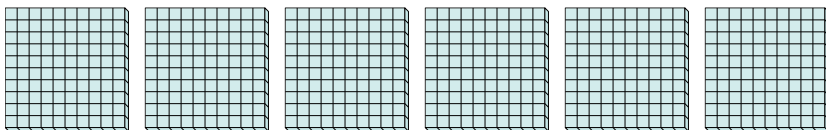
Respuestas

- 1) a. ¿Cuántos grupos de 100 hay?
b. ¿Cuántos bloques pequeños hay en total?



1. **3** **300**

- 2) a. ¿Cuántos grupos de 100 hay?
b. ¿Cuántos bloques pequeños hay en total?




2. **6** **600**

3. **2** **200**

4. **9** **900**

5. **8** **800**


- 3) a. ¿Cuántos grupos de 100 hay?
b. ¿Cuántos bloques pequeños hay en total?



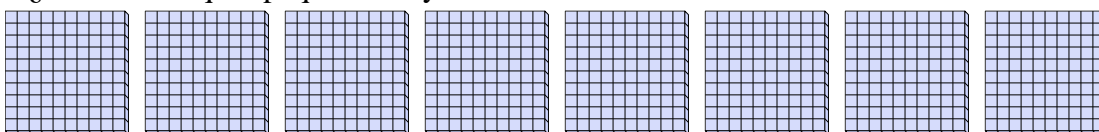
6. **1** **100**

7. **4** **400**


- 4) a. ¿Cuántos grupos de 100 hay?
b. ¿Cuántos bloques pequeños hay en total?



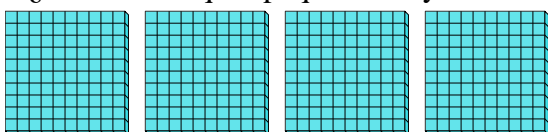
- 5) a. ¿Cuántos grupos de 100 hay?
b. ¿Cuántos bloques pequeños hay en total?



- 6) a. ¿Cuántos grupos de 100 hay?
b. ¿Cuántos bloques pequeños hay en total?



- 7) a. ¿Cuántos grupos de 100 hay?
b. ¿Cuántos bloques pequeños hay en total?



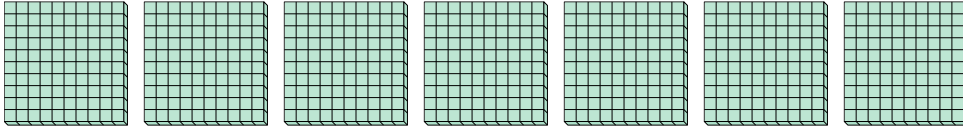


Utilizar los grupos para responder a cada pregunta.

Respuestas

1) a. ¿Cuántos grupos de 100 hay?

b. ¿Cuántos bloques pequeños hay en total?



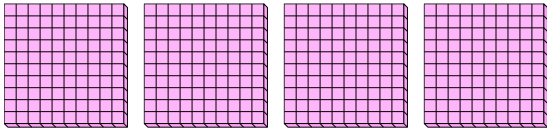
1. ____

2. ____

3. ____

2) a. ¿Cuántos grupos de 100 hay?

b. ¿Cuántos bloques pequeños hay en total?



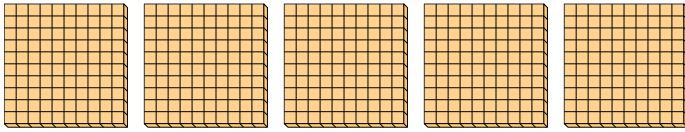
4. ____

5. ____

6. ____

3) a. ¿Cuántos grupos de 100 hay?

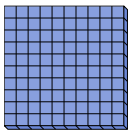
b. ¿Cuántos bloques pequeños hay en total?



7. ____

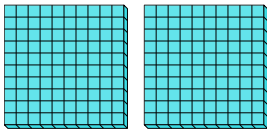
4) a. ¿Cuántos grupos de 100 hay?

b. ¿Cuántos bloques pequeños hay en total?



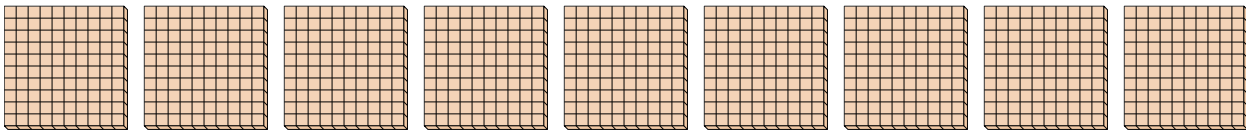
5) a. ¿Cuántos grupos de 100 hay?

b. ¿Cuántos bloques pequeños hay en total?




6) a. ¿Cuántos grupos de 100 hay?

b. ¿Cuántos bloques pequeños hay en total?



7) a. ¿Cuántos grupos de 100 hay?

b. ¿Cuántos bloques pequeños hay en total?

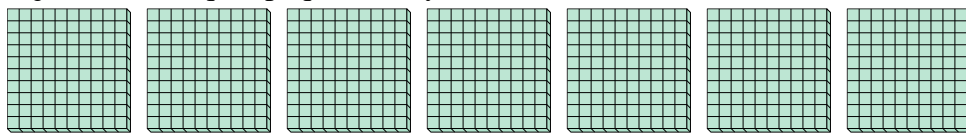




Utilizar los grupos para responder a cada pregunta.

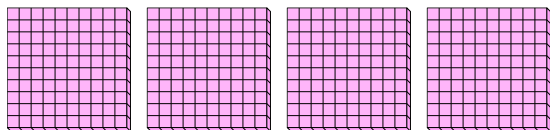
Respuestas

- 1) a. ¿Cuántos grupos de 100 hay?
- b. ¿Cuántos bloques pequeños hay en total?




1. 7 700

- 2) a. ¿Cuántos grupos de 100 hay?
- b. ¿Cuántos bloques pequeños hay en total?



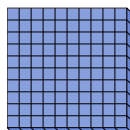
2. 4 400

- 3) a. ¿Cuántos grupos de 100 hay?
- b. ¿Cuántos bloques pequeños hay en total?



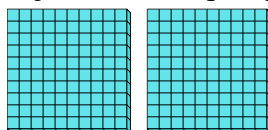
3. 5 500

- 4) a. ¿Cuántos grupos de 100 hay?
- b. ¿Cuántos bloques pequeños hay en total?




4. 1 100

- 5) a. ¿Cuántos grupos de 100 hay?
- b. ¿Cuántos bloques pequeños hay en total?



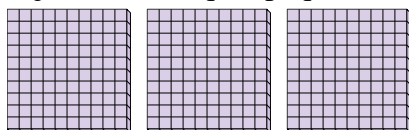
5. 2 200

- 6) a. ¿Cuántos grupos de 100 hay?
- b. ¿Cuántos bloques pequeños hay en total?



6. 9 900

- 7) a. ¿Cuántos grupos de 100 hay?
- b. ¿Cuántos bloques pequeños hay en total?



7. 3 300

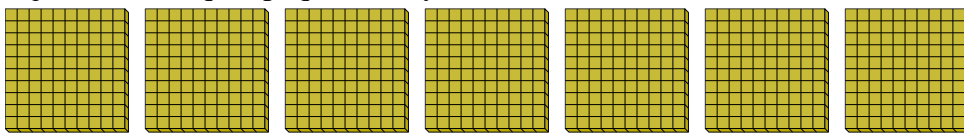


Utilizar los grupos para responder a cada pregunta.

Respuestas

1) a. ¿Cuántos grupos de 100 hay?

b. ¿Cuántos bloques pequeños hay en total?




1. ____

2. ____

3. ____

2) a. ¿Cuántos grupos de 100 hay?

b. ¿Cuántos bloques pequeños hay en total?



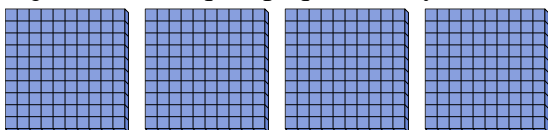
4. ____

5. ____

6. ____

3) a. ¿Cuántos grupos de 100 hay?

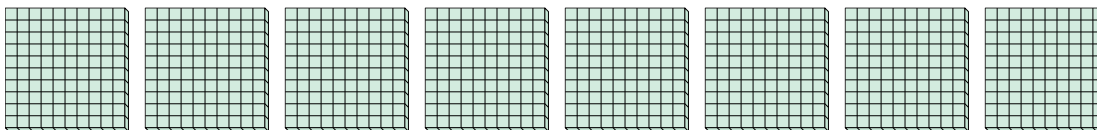
b. ¿Cuántos bloques pequeños hay en total?



7. ____

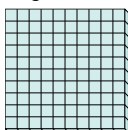
4) a. ¿Cuántos grupos de 100 hay?

b. ¿Cuántos bloques pequeños hay en total?



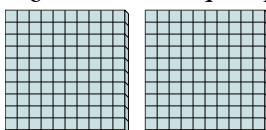
5) a. ¿Cuántos grupos de 100 hay?

b. ¿Cuántos bloques pequeños hay en total?




6) a. ¿Cuántos grupos de 100 hay?

b. ¿Cuántos bloques pequeños hay en total?



7) a. ¿Cuántos grupos de 100 hay?

b. ¿Cuántos bloques pequeños hay en total?



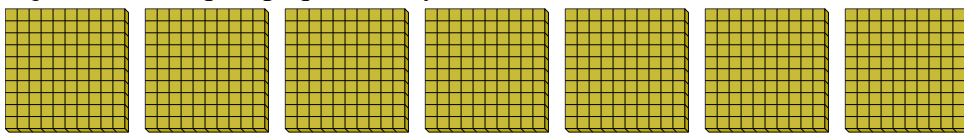


Utilizar los grupos para responder a cada pregunta.

Respuestas

1) a. ¿Cuántos grupos de 100 hay?


b. ¿Cuántos bloques pequeños hay en total?



1. 7 700

2) a. ¿Cuántos grupos de 100 hay?

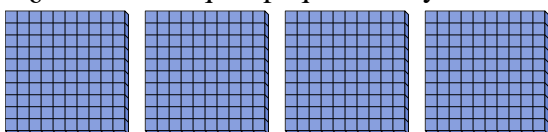
b. ¿Cuántos bloques pequeños hay en total?



2. 9 900

3) a. ¿Cuántos grupos de 100 hay?

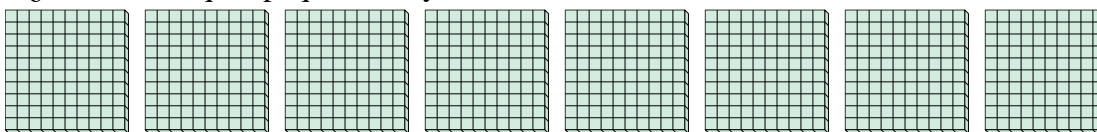
b. ¿Cuántos bloques pequeños hay en total?



3. 4 400

4) a. ¿Cuántos grupos de 100 hay?


b. ¿Cuántos bloques pequeños hay en total?



4. 8 800

5) a. ¿Cuántos grupos de 100 hay?

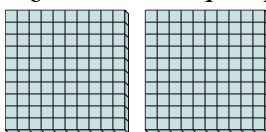
b. ¿Cuántos bloques pequeños hay en total?



5. 1 100

6) a. ¿Cuántos grupos de 100 hay?


b. ¿Cuántos bloques pequeños hay en total?



6. 2 200

7) a. ¿Cuántos grupos de 100 hay?

b. ¿Cuántos bloques pequeños hay en total?



7. 6 600