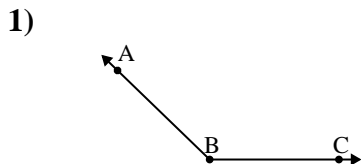




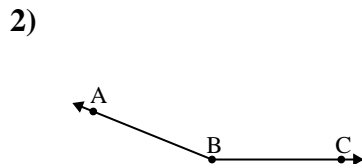
Resuelve cada problema.

Respuestas



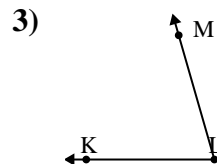
¿Que opción representa mejor $\angle ABC$?

- A. 32°
- B. 112°
- C. 174°
- D. 136°



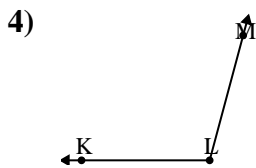
¿Que opción representa mejor $\angle ABC$?

- A. 49°
- B. 131°
- C. 4°
- D. 158°



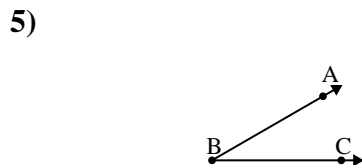
¿Que opción representa mejor $\angle KLM$?

- A. 74°
- B. 43°
- C. 103°
- D. 3°



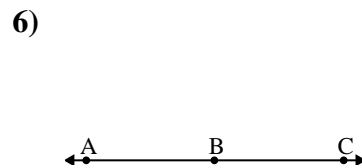
¿Que opción representa mejor $\angle KLM$?

- A. 105°
- B. 138°
- C. 67°
- D. 42°



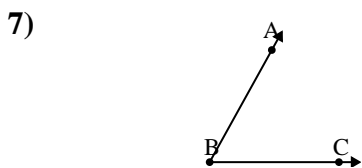
¿Que opción representa mejor $\angle ABC$?

- A. 78°
- B. 145°
- C. 30°
- D. 1°



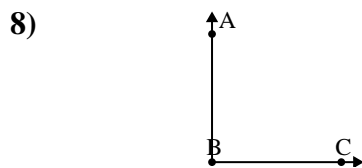
¿Que opción representa mejor $\angle ABC$?

- A. 143°
- B. 86°
- C. 14°
- D. 180°



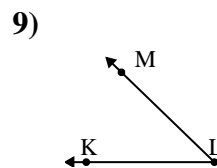
¿Que opción representa mejor $\angle ABC$?

- A. 159°
- B. 12°
- C. 97°
- D. 61°



¿Que opción representa mejor $\angle ABC$?

- A. 143°
- B. 90°
- C. 165°
- D. 2°



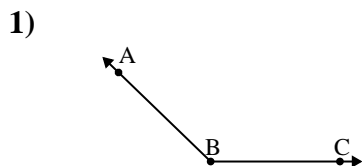
¿Que opción representa mejor $\angle KLM$?

- A. 114°
- B. 23°
- C. 44°
- D. 74°

1. _____
2. _____
3. _____
4. _____
5. _____
6. _____
7. _____
8. _____
9. _____

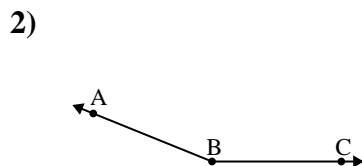


Resuelve cada problema.



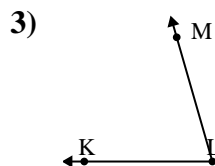
¿Que opción representa mejor $\angle ABC$?

A. 32°
 B. 112°
 C. 174°
 D. 136°



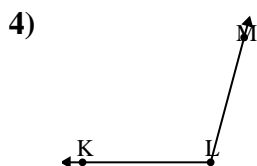
¿Que opción representa mejor $\angle ABC$?

A. 49°
 B. 131°
 C. 4°
 D. 158°



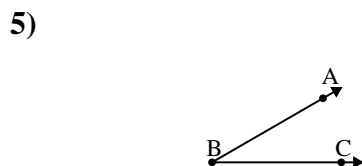
¿Que opción representa mejor $\angle KLM$?

A. 74°
 B. 43°
 C. 103°
 D. 3°



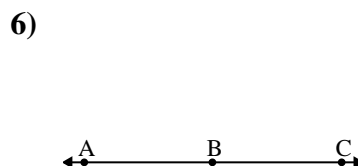
¿Que opción representa mejor $\angle KLM$?

A. 105°
 B. 138°
 C. 67°
 D. 42°



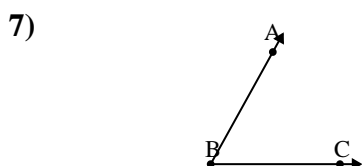
¿Que opción representa mejor $\angle ABC$?

A. 78°
 B. 145°
 C. 30°
 D. 1°



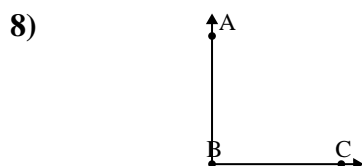
¿Que opción representa mejor $\angle ABC$?

A. 143°
 B. 86°
 C. 14°
 D. 180°



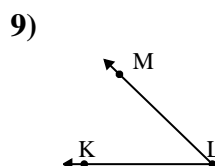
¿Que opción representa mejor $\angle ABC$?

A. 159°
 B. 12°
 C. 97°
 D. 61°



¿Que opción representa mejor $\angle ABC$?

A. 143°
 B. 90°
 C. 165°
 D. 2°



¿Que opción representa mejor $\angle KLM$?

A. 114°
 B. 23°
 C. 44°
 D. 74°

Respuestas

1. **D**
2. **D**
3. **A**
4. **A**
5. **C**
6. **D**
7. **D**
8. **B**
9. **C**