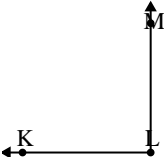


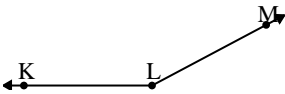


Resuelve cada problema.

1) 

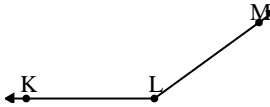
¿Que opción representa mejor $\angle KLM$?

A. 13°
 B. 147°
 C. 90°
 D. 42°

2) 

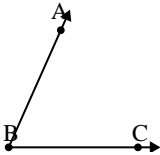
¿Que opción representa mejor $\angle KLM$?

A. 129°
 B. 11°
 C. 178°
 D. 152°

3) 

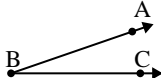
¿Que opción representa mejor $\angle KLM$?

A. 49°
 B. 91°
 C. 1°
 D. 144°

4) 

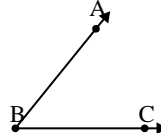
¿Que opción representa mejor $\angle ABC$?

A. 30°
 B. 66°
 C. 97°
 D. 127°

5) 

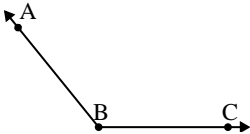
¿Que opción representa mejor $\angle ABC$?

A. 79°
 B. 117°
 C. 19°
 D. 53°

6) 

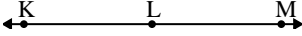
¿Que opción representa mejor $\angle ABC$?

A. 9°
 B. 160°
 C. 51°
 D. 133°

7) 

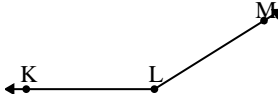
¿Que opción representa mejor $\angle ABC$?

A. 178°
 B. 154°
 C. 129°
 D. 5°

8) 

¿Que opción representa mejor $\angle KLM$?

A. 6°
 B. 180°
 C. 59°
 D. 123°

9) 

¿Que opción representa mejor $\angle KLM$?

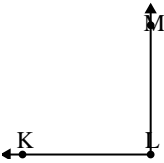
A. 124°
 B. 64°
 C. 148°
 D. 28°

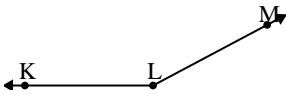
Respuestas

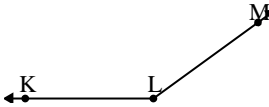
1. _____
2. _____
3. _____
4. _____
5. _____
6. _____
7. _____
8. _____
9. _____

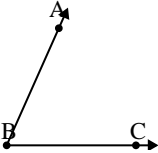


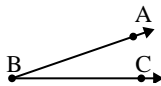
Resuelve cada problema.

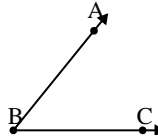
1) 
 ¿Que opción representa mejor $\angle KLM$?
 A. 13°
 B. 147°
 C. 90°
 D. 42°

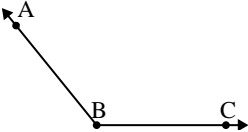
2) 
 ¿Que opción representa mejor $\angle KLM$?
 A. 129°
 B. 11°
 C. 178°
 D. 152°

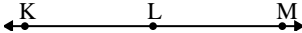
3) 
 ¿Que opción representa mejor $\angle KLM$?
 A. 49°
 B. 91°
 C. 1°
 D. 144°

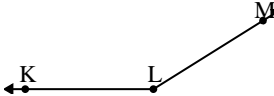
4) 
 ¿Que opción representa mejor $\angle ABC$?
 A. 30°
 B. 66°
 C. 97°
 D. 127°

5) 
 ¿Que opción representa mejor $\angle ABC$?
 A. 79°
 B. 117°
 C. 19°
 D. 53°

6) 
 ¿Que opción representa mejor $\angle ABC$?
 A. 9°
 B. 160°
 C. 51°
 D. 133°

7) 
 ¿Que opción representa mejor $\angle ABC$?
 A. 178°
 B. 154°
 C. 129°
 D. 5°

8) 
 ¿Que opción representa mejor $\angle KLM$?
 A. 6°
 B. 180°
 C. 59°
 D. 123°

9) 
 ¿Que opción representa mejor $\angle KLM$?
 A. 124°
 B. 64°
 C. 148°
 D. 28°

Respuestas

1. **C**
2. **D**
3. **D**
4. **B**
5. **C**
6. **C**
7. **C**
8. **B**
9. **C**