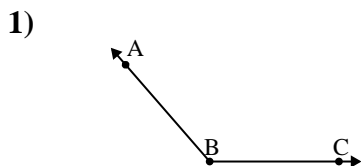




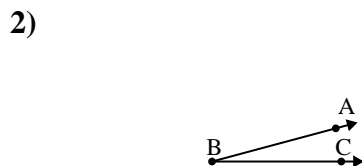
Resuelve cada problema.

Respuestas



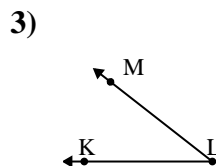
¿Que opción representa mejor $\angle ABC$?

A. 107°
 B. 131°
 C. 26°
 D. 57°



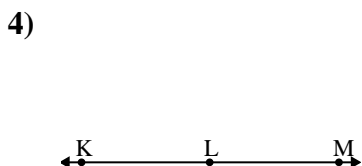
¿Que opción representa mejor $\angle ABC$?

A. 154°
 B. 15°
 C. 49°
 D. 76°



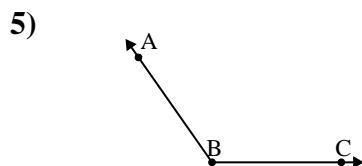
¿Que opción representa mejor $\angle KLM$?

A. 38°
 B. 81°
 C. 175°
 D. 107°



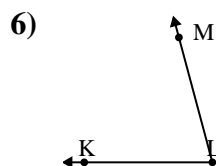
¿Que opción representa mejor $\angle KLM$?

A. 156°
 B. 71°
 C. 180°
 D. 25°



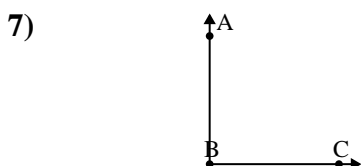
¿Que opción representa mejor $\angle ABC$?

A. 58°
 B. 33°
 C. 4°
 D. 125°



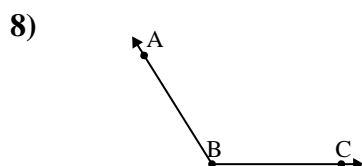
¿Que opción representa mejor $\angle KLM$?

A. 29°
 B. 172°
 C. 7°
 D. 75°



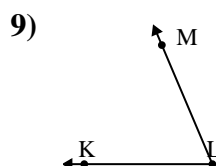
¿Que opción representa mejor $\angle ABC$?

A. 69°
 B. 127°
 C. 3°
 D. 90°



¿Que opción representa mejor $\angle ABC$?

A. 122°
 B. 84°
 C. 37°
 D. 158°



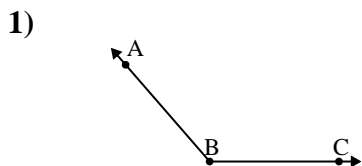
¿Que opción representa mejor $\angle KLM$?

A. 122°
 B. 165°
 C. 67°
 D. 143°

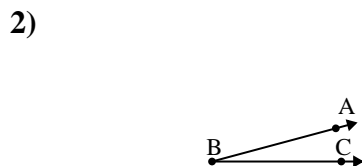
1. _____
2. _____
3. _____
4. _____
5. _____
6. _____
7. _____
8. _____
9. _____



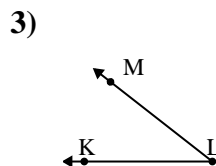
Resuelve cada problema.



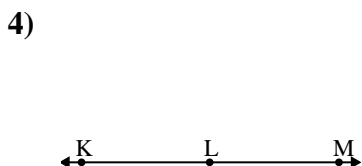
¿Que opción representa mejor $\angle ABC$?
 A. 107°
 B. 131°
 C. 26°
 D. 57°



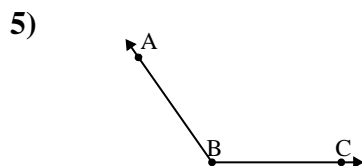
¿Que opción representa mejor $\angle ABC$?
 A. 154°
 B. 15°
 C. 49°
 D. 76°



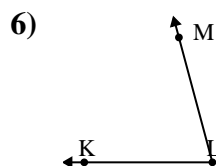
¿Que opción representa mejor $\angle KLM$?
 A. 38°
 B. 81°
 C. 175°
 D. 107°



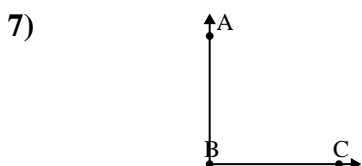
¿Que opción representa mejor $\angle KLM$?
 A. 156°
 B. 71°
 C. 180°
 D. 25°



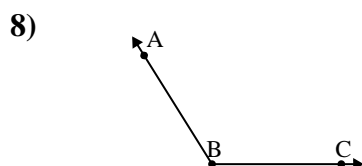
¿Que opción representa mejor $\angle ABC$?
 A. 58°
 B. 33°
 C. 4°
 D. 125°



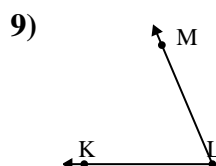
¿Que opción representa mejor $\angle KLM$?
 A. 29°
 B. 172°
 C. 7°
 D. 75°



¿Que opción representa mejor $\angle ABC$?
 A. 69°
 B. 127°
 C. 3°
 D. 90°



¿Que opción representa mejor $\angle ABC$?
 A. 122°
 B. 84°
 C. 37°
 D. 158°



¿Que opción representa mejor $\angle KLM$?
 A. 122°
 B. 165°
 C. 67°
 D. 143°

Respuestas

1. **B**
2. **B**
3. **A**
4. **C**
5. **D**
6. **D**
7. **D**
8. **A**
9. **C**