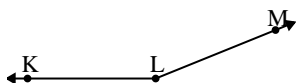




Resuelve cada problema.

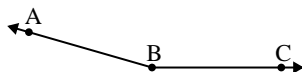
1)



¿Que opción representa mejor $\angle KLM$?

- A. 116°
- B. 158°
- C. 0°
- D. 73°

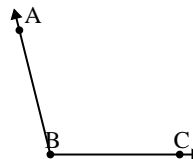
2)



¿Que opción representa mejor $\angle ABC$?

- A. 97°
- B. 142°
- C. 164°
- D. 32°

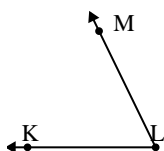
3)



¿Que opción representa mejor $\angle ABC$?

- A. 104°
- B. 165°
- C. 2°
- D. 44°

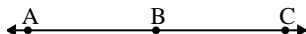
4)



¿Que opción representa mejor $\angle KLM$?

- A. 130°
- B. 4°
- C. 90°
- D. 64°

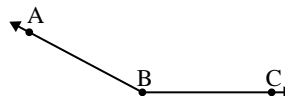
5)



¿Que opción representa mejor $\angle ABC$?

- A. 84°
- B. 60°
- C. 180°
- D. 11°

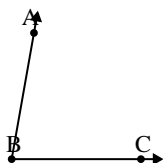
6)



¿Que opción representa mejor $\angle ABC$?

- A. 176°
- B. 108°
- C. 37°
- D. 152°

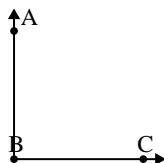
7)



¿Que opción representa mejor $\angle ABC$?

- A. 13°
- B. 169°
- C. 80°
- D. 144°

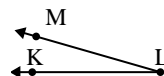
8)



¿Que opción representa mejor $\angle ABC$?

- A. 168°
- B. 90°
- C. 140°
- D. 48°

9)



¿Que opción representa mejor $\angle KLM$?

- A. 104°
- B. 16°
- C. 53°
- D. 74°

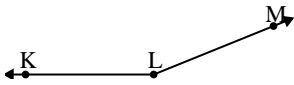
Respuestas

1. _____
2. _____
3. _____
4. _____
5. _____
6. _____
7. _____
8. _____
9. _____



Resuelve cada problema.

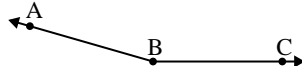
1)



¿Que opción representa mejor $\angle KLM$?

- A. 116°
- B. 158°
- C. 0°
- D. 73°

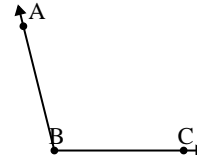
2)



¿Que opción representa mejor $\angle ABC$?

- A. 97°
- B. 142°
- C. 164°
- D. 32°

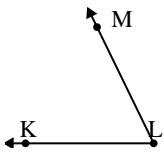
3)



¿Que opción representa mejor $\angle ABC$?

- A. 104°
- B. 165°
- C. 2°
- D. 44°

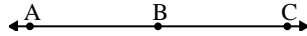
4)



¿Que opción representa mejor $\angle KLM$?

- A. 130°
- B. 4°
- C. 90°
- D. 64°

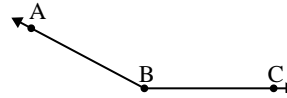
5)



¿Que opción representa mejor $\angle ABC$?

- A. 84°
- B. 60°
- C. 180°
- D. 11°

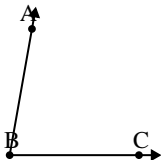
6)



¿Que opción representa mejor $\angle ABC$?

- A. 176°
- B. 108°
- C. 37°
- D. 152°

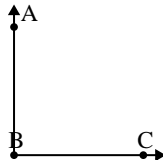
7)



¿Que opción representa mejor $\angle ABC$?

- A. 13°
- B. 169°
- C. 80°
- D. 144°

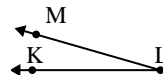
8)



¿Que opción representa mejor $\angle ABC$?

- A. 168°
- B. 90°
- C. 140°
- D. 48°

9)



¿Que opción representa mejor $\angle KLM$?

- A. 104°
- B. 16°
- C. 53°
- D. 74°

Respuestas

- 1. **B**
- 2. **C**
- 3. **A**
- 4. **D**
- 5. **C**
- 6. **D**
- 7. **C**
- 8. **B**
- 9. **B**