



Resuelve cada problema.

1) $5 - 2 =$ _____

2) $4 + 0 =$ _____

3) $5 + 0 =$ _____

4) $4 - 2 =$ _____

5) $4 + 1 =$ _____

6) $1 + 3 =$ _____

7) $4 - 4 =$ _____

8) $5 - 4 =$ _____

9) $3 + 2 =$ _____

10) $1 + 2 =$ _____

11) $1 + 4 =$ _____

12) $5 - 5 =$ _____

13) $5 - 3 =$ _____

14) $3 + 0 =$ _____

15) $4 - 1 =$ _____

16) $1 + 0 =$ _____

Respuestas

1. _____
2. _____
3. _____
4. _____
5. _____
6. _____
7. _____
8. _____
9. _____
10. _____
11. _____
12. _____
13. _____
14. _____
15. _____
16. _____



Resuelve cada problema.

1) $5 - 2 =$ 3

2) $4 + 0 =$ 4

3) $5 + 0 =$ 5

4) $4 - 2 =$ 2

5) $4 + 1 =$ 5

6) $1 + 3 =$ 4

7) $4 - 4 =$ 0

8) $5 - 4 =$ 1

9) $3 + 2 =$ 5

10) $1 + 2 =$ 3

11) $1 + 4 =$ 5

12) $5 - 5 =$ 0

13) $5 - 3 =$ 2

14) $3 + 0 =$ 3

15) $4 - 1 =$ 3

16) $1 + 0 =$ 1

Respuestas

1. 3

2. 4

3. 5

4. 2

5. 5

6. 4

7. 0

8. 1

9. 5

10. 3

11. 5

12. 0

13. 2

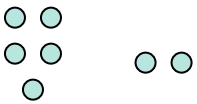
14. 3


15. 3


16. 1





Resuelve cada problema.

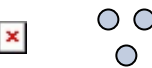
1) $5 - 2 =$ _____



2) $4 + 0 =$ _____


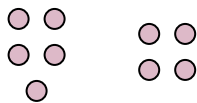
3) $5 + 0 =$ _____



4) $4 - 2 =$ _____



5) $4 + 1 =$ _____



6) $1 + 3 =$ _____


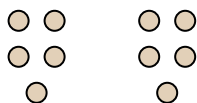
7) $4 - 4 =$ _____


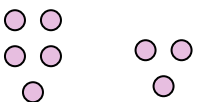
8) $5 - 4 =$ _____



9) $3 + 2 =$ _____



10) $1 + 2 =$ _____



11) $1 + 4 =$ _____


12) $5 - 5 =$ _____


13) $5 - 3 =$ _____


14) $3 + 0 =$ _____


15) $4 - 1 =$ _____


16) $1 + 0 =$ _____


Respuestas

1. _____
2. _____
3. _____
4. _____
5. _____
6. _____
7. _____
8. _____
9. _____
10. _____
11. _____
12. _____
13. _____
14. _____
15. _____
16. _____