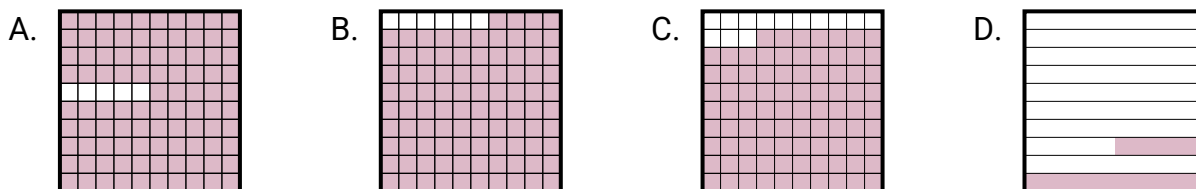
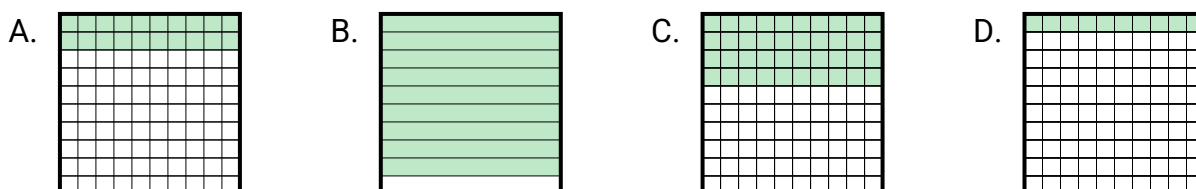


**Determina cuál letra mejor resuelve la pregunta.****Respuestas**

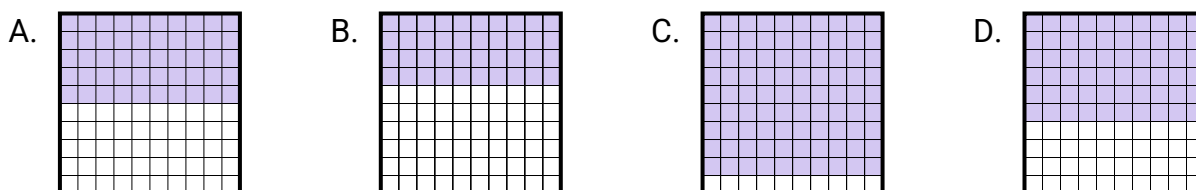
- 1) ¿Qué cuadrícula 10×10 está sombreada para representar el número decimal que, al sumarse a 0.85, da un total de 1.00?



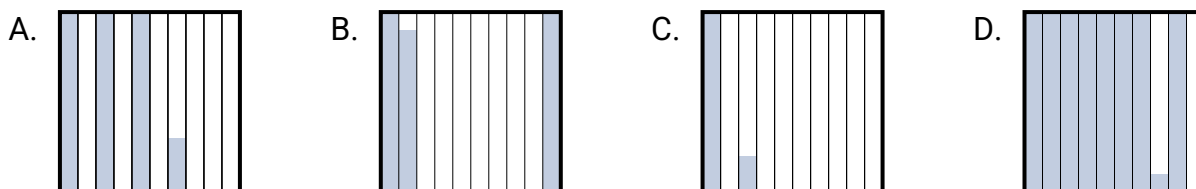
- 2) ¿Qué cuadrícula 10×1 está sombreada para representar el número decimal que, al sumarse a 0.1, da un total de 1.00?



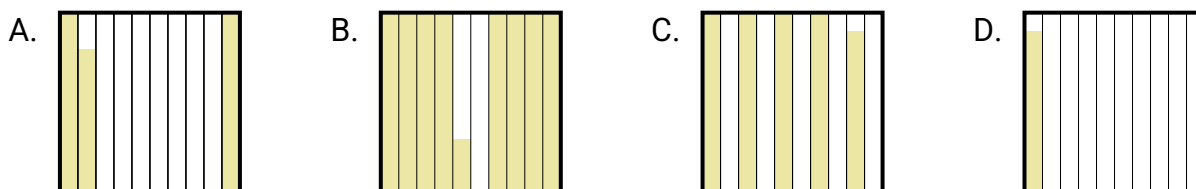
- 3) ¿Qué cuadrícula 10×1 está sombreada para representar el número decimal que, al sumarse a 0.5, da un total de 1.00?



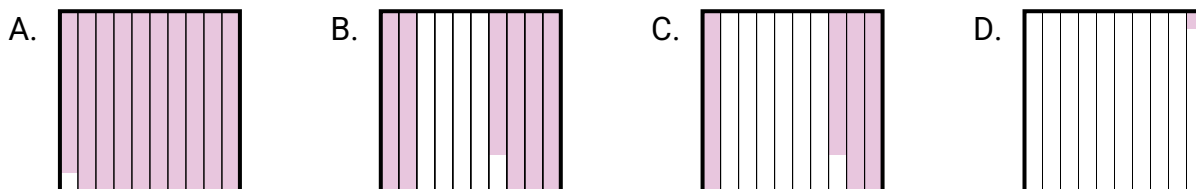
- 4) ¿Qué cuadrícula 10×10 está sombreada para representar el número decimal que, al sumarse a 0.71, da un total de 1.00?



- 5) ¿Qué cuadrícula 10×10 está sombreada para representar el número decimal que, al sumarse a 0.17, da un total de 1.00?



- 6) ¿Qué cuadrícula 10×10 está sombreada para representar el número decimal que, al sumarse a 0.99, da un total de 1.00?



1. _____

2. _____

3. _____

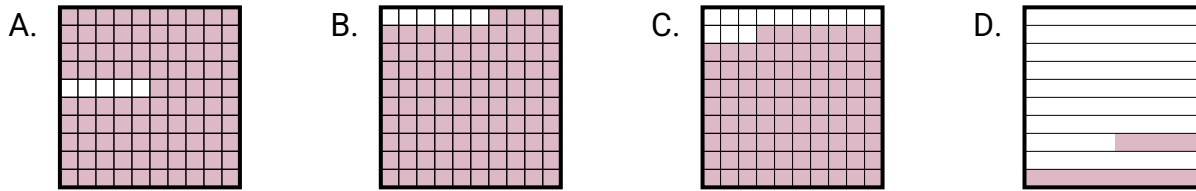
4. _____

5. _____

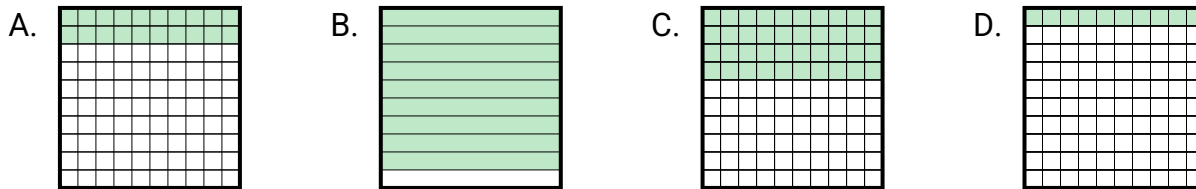
6. _____

**Determina cuál letra mejor resuelve la pregunta.****Respuestas**

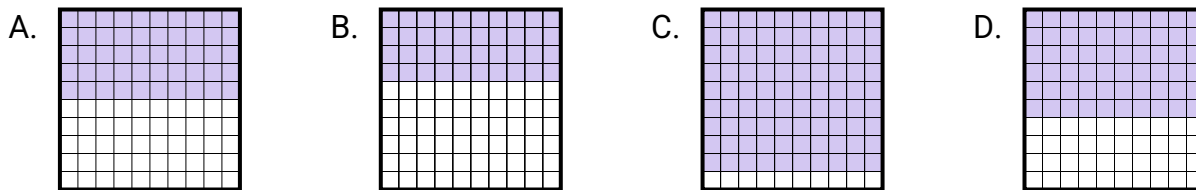
- 1) ¿Qué cuadrícula 10×10 está sombreada para representar el número decimal que, al sumarse a 0.85, da un total de 1.00?

1. **D**

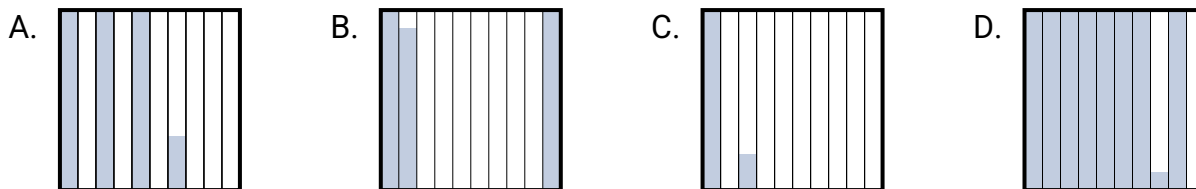
- 2) ¿Qué cuadrícula 10×1 está sombreada para representar el número decimal que, al sumarse a 0.1, da un total de 1.00?

2. **B**3. **A**4. **B**5. **B**6. **D**

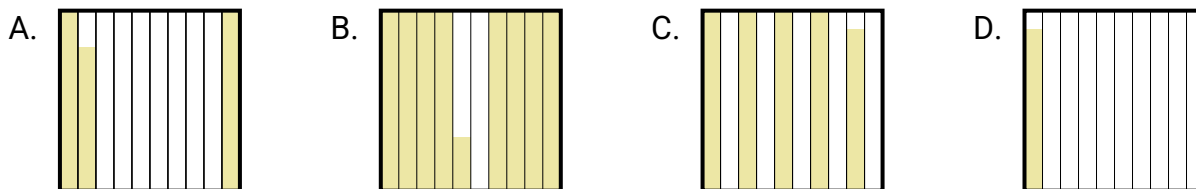
- 3) ¿Qué cuadrícula 10×1 está sombreada para representar el número decimal que, al sumarse a 0.5, da un total de 1.00?



- 4) ¿Qué cuadrícula 10×10 está sombreada para representar el número decimal que, al sumarse a 0.71, da un total de 1.00?



- 5) ¿Qué cuadrícula 10×10 está sombreada para representar el número decimal que, al sumarse a 0.17, da un total de 1.00?



- 6) ¿Qué cuadrícula 10×10 está sombreada para representar el número decimal que, al sumarse a 0.99, da un total de 1.00?

