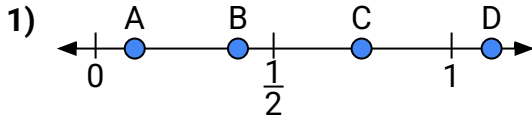
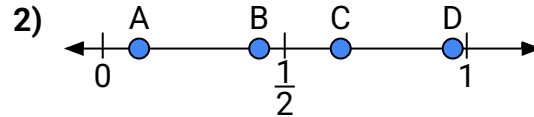




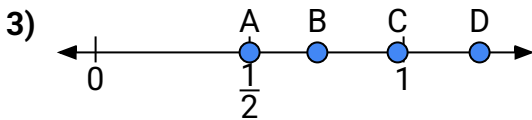
Usa las rectas numéricas para responder a las preguntas

Respuestas

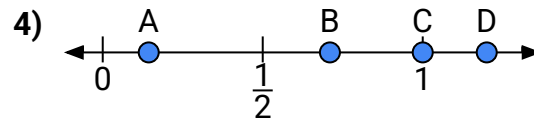
- a) ¿Qué letra representa mejor la ubicación de 0.40?
- b) ¿Qué letra representa mejor la ubicación de 0.11?



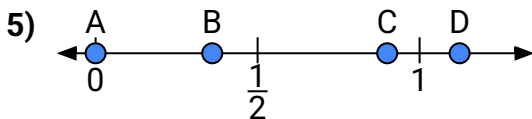
- a) ¿Qué letra representa mejor la ubicación de 0.1?
- b) ¿Qué letra representa mejor la ubicación de 0.43?



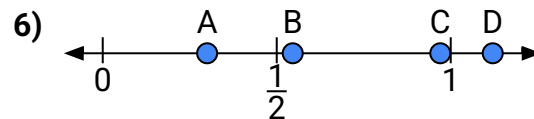
- a) ¿Qué letra representa mejor la ubicación de 0.5?
- b) ¿Qué letra representa mejor la ubicación de 0.72?



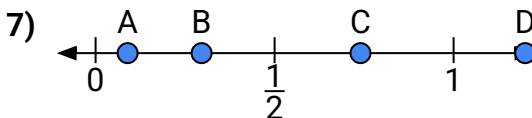
- a) ¿Qué letra representa mejor la ubicación de 1.00?
- b) ¿Qué letra representa mejor la ubicación de 0.71?



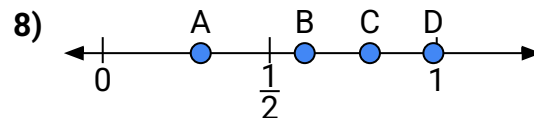
- a) ¿Qué letra representa mejor la ubicación de 0.9?
- b) ¿Qué letra representa mejor la ubicación de 0.36?



- a) ¿Qué letra representa mejor la ubicación de 0.3?
- b) ¿Qué letra representa mejor la ubicación de 0.97?



- a) ¿Qué letra representa mejor la ubicación de 1.20?
- b) ¿Qué letra representa mejor la ubicación de 0.74?

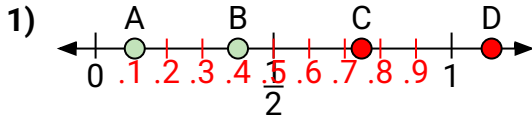


- a) ¿Qué letra representa mejor la ubicación de 0.8?
- b) ¿Qué letra representa mejor la ubicación de 0.99?

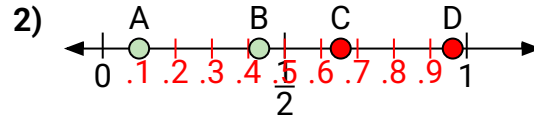
1. _____
2. _____
3. _____
4. _____
5. _____
6. _____
7. _____
8. _____



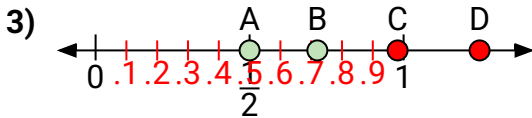
Usa las rectas numéricas para responder a las preguntas

Respuestas

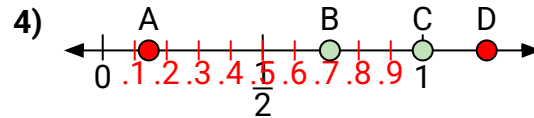
- a) ¿Qué letra representa mejor la ubicación de 0.40?
- b) ¿Qué letra representa mejor la ubicación de 0.11?



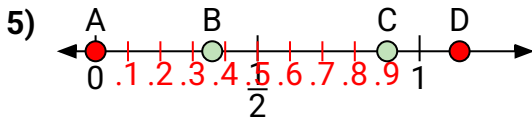
- a) ¿Qué letra representa mejor la ubicación de 0.1?
- b) ¿Qué letra representa mejor la ubicación de 0.43?



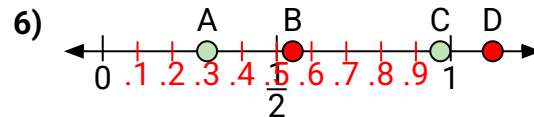
- a) ¿Qué letra representa mejor la ubicación de 0.5?
- b) ¿Qué letra representa mejor la ubicación de 0.72?



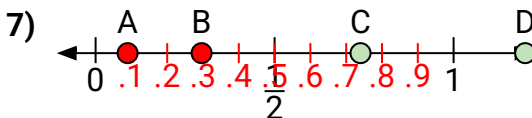
- a) ¿Qué letra representa mejor la ubicación de 1.00?
- b) ¿Qué letra representa mejor la ubicación de 0.71?



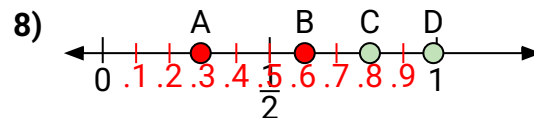
- a) ¿Qué letra representa mejor la ubicación de 0.9?
- b) ¿Qué letra representa mejor la ubicación de 0.36?



- a) ¿Qué letra representa mejor la ubicación de 0.3?
- b) ¿Qué letra representa mejor la ubicación de 0.97?



- a) ¿Qué letra representa mejor la ubicación de 1.20?
- b) ¿Qué letra representa mejor la ubicación de 0.74?



- a) ¿Qué letra representa mejor la ubicación de 0.8?
- b) ¿Qué letra representa mejor la ubicación de 0.99?

- | | B | A |
|----|----------|----------|
| 1. | A | B |
| 2. | A | B |
| 3. | A | B |
| 4. | C | B |
| 5. | C | B |
| 6. | A | C |
| 7. | D | C |
| 8. | C | D |